

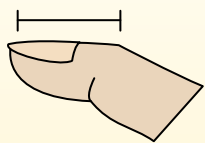


Определите, ответ под какой буквой отражает длину/ высоту.

ОТВЕТЫ

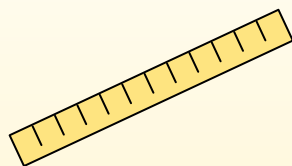
Polegadas (in)

Una pulgada es aproximadamente la distancia de la última articulación de su dedo.



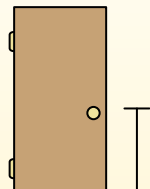
Pie (pies)

Um pé mede 12 polegadas. O comprimento de uma régua.




Jarda (jd)

1 jarda é o mesmo que 3 pés. Do chão até a maçaneta da porta são cerca de 1 jarda.




Milla (mi)

Uma milha equivale a 5.280 pés. A maioria das estradas principais tem pelo menos uma milha de comprimento.



1. _____
2. _____
3. _____
4. _____
5. _____
6. _____
7. _____
8. _____
9. _____

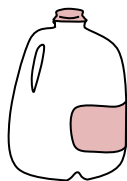
1)



Тетрадный листок

- A. 1 ярд
- B. 6 дюймов
- C. 2 футов
- D. 11 дюймов


2)



Фляга с молоком

- A. 11 футов
- B. 9 дюймов
- C. 6 дюймов
- D. 3 дюймов

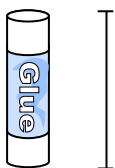
3)



Стиральная машина

- A. 4 дюймов
- B. 1 фут
- C. 3 футов
- D. 2 ярдов


4)



Клеющий карандаш

- A. 1 фут
- B. 3 дюймов
- C. 4 миль
- D. 10 дюймов

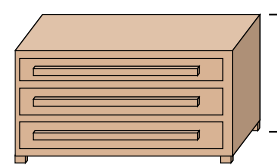
5)



Слон

- A. 18 дюймов
- B. 4 ярдов
- C. 5 футов
- D. 1 миля

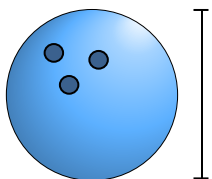
6)



Комод

- A. 18 дюймов
- B. 12 дюймов
- C. 3 футов
- D. 3 ярдов

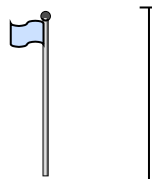
7)



Высота шара для боулинга

- A. 4 дюймов
- B. 1 ярд
- C. 10 дюймов
- D. 10 футов

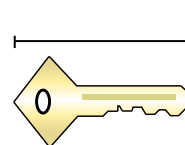
8)



Столб для флага

- A. 1 миля
- B. 10 ярдов
- C. 12 дюймов
- D. 5 футов

9)



Ключ

- A. 5 футов
- B. 2 дюймов
- C. 6 дюймов
- D. 2 ярдов

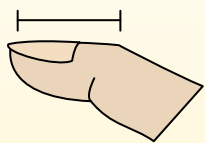


Определите, ответ под какой буквой отражает длину/ высоту.

ОТВЕТЫ

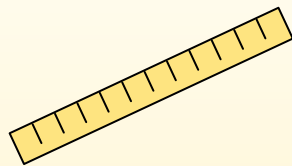
Polegadas (in)

Una pulgada es aproximadamente la distancia de la última articulación de su dedo.



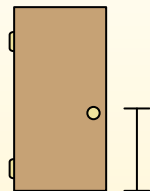
Pie (pies)

Um pé mede 12 polegadas. O comprimento de uma régua.



Jarda (jd)

1 jarda é o mesmo que 3 pés. Do chão até a maçaneta da porta são cerca de 1 jarda.



Milla (mi)

Uma milha equivale a 5.280 pés. A maioria das estradas principais tem pelo menos uma milha de comprimento.




1. D

2. B

3. C


4. B

5. B



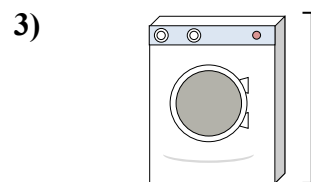
Тетрадный листок

- A. 1 ярд
- B. 6 дюймов
- C. 2 футов
- D. 11 дюймов



Фляга с молоком

- A. 11 футов
- B. 9 дюймов
- C. 6 дюймов
- D. 3 дюймов



Стиральная машина

- A. 4 дюймов
- B. 1 фут
- C. 3 футов
- D. 2 ярдов


6. C

7. C



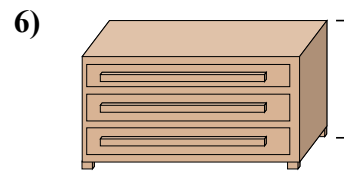
Клеющий карандаш

- A. 1 фут
- B. 3 дюймов
- C. 4 миль
- D. 10 дюймов



Слон

- A. 18 дюймов
- B. 4 ярдов
- C. 5 футов
- D. 1 миля




Комод

- A. 18 дюймов
- B. 12 дюймов
- C. 3 футов
- D. 3 ярдов

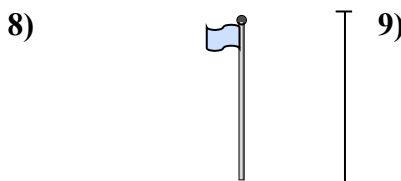
8. B

9. B



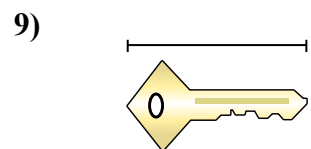
Высота шара для боулинга

- A. 4 дюймов
- B. 1 ярд
- C. 10 дюймов
- D. 10 футов



Столб для флага

- A. 1 миля
- B. 10 ярдов
- C. 12 дюймов
- D. 5 футов



Ключ

- A. 5 футов
- B. 2 дюймов
- C. 6 дюймов
- D. 2 ярдов