

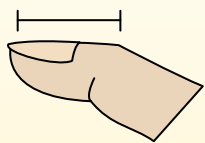


Определите, ответ под какой буквой отражает длину/ высоту.

**ОТВЕТЫ**

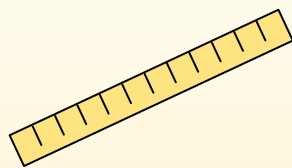
**Polegadas (in)**

Una pulgada es aproximadamente la distancia de la última articulación de su dedo.



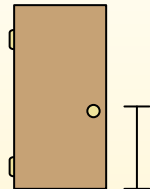
**Pie (pies)**

Um pé mede 12 polegadas. O comprimento de uma régua.



**Jarda (jd)**

1 jarda é o mesmo que 3 pés. Do chão até a maçaneta da porta são cerca de 1 jarda.




**Milla (mi)**

Uma milha equivale a 5.280 pés. A maioria das estradas principais tem pelo menos uma milha de comprimento.




1. \_\_\_\_\_
2. \_\_\_\_\_
3. \_\_\_\_\_
4. \_\_\_\_\_
5. \_\_\_\_\_
6. \_\_\_\_\_
7. \_\_\_\_\_
8. \_\_\_\_\_
9. \_\_\_\_\_

1)



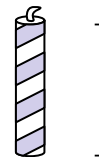
- Кастрюля  
 A. 4 дюймов  
 B. 1 дюйм  
 C. 2 футов  
 D. 10 дюймов

2)



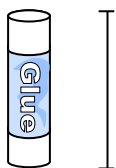
- Молоток  
 A. 1 ярд  
 B. 16 дюймов  
 C. 4 дюймов  
 D. 1 дюйм

3)



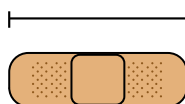
- Свеча  
 A. 8 дюймов  
 B. 1 фут  
 C. 3 дюймов  
 D. 1 миля

4)



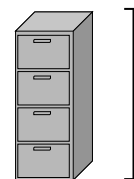
- Клеющий карандаш  
 A. 1 фут  
 B. 4 миль  
 C. 10 дюймов  
 D. 3 дюймов

5)



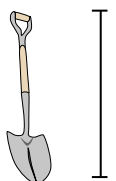
- Пластырь  
 A. 2 футов  
 B. 2 миль  
 C. 3 дюймов  
 D. 1 ярд

6)




- Ящик для папок  
 A. 5 футов  
 B. 1 фут  
 C. 2 футов  
 D. 11 дюймов

7)



- Лопата  
 A. 2 футов  
 B. 4 футов  
 C. 11 дюймов  
 D. 3 ярдов

8)



- Высота дерева  
 A. 1 миля  
 B. 4 футов  
 C. 6 ярдов  
 D. 18 дюймов

9)

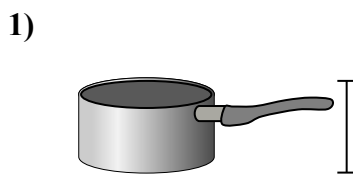
- Флэшка  
 A. 6 дюймов  
 B. 11 дюймов  
 C. 2 футов  
 D. 2 дюймов




Определите, ответ под какой буквой отражает длину/ высоту.

**ОТВЕТЫ**


Polegadas (in)	Pie (pies)	Jarda (jd)	Milla (mi)
Una pulgada es aproximadamente la distancia de la última articulación de su dedo.	Um pé mede 12 polegadas. O comprimento de uma régua.	1 jarda é o mesmo que 3 pés. Do chão até a maçaneta da porta são cerca de 1 jarda.	Uma milha equivale a 5.280 pés. A maioria das estradas principais tem pelo menos uma milha de comprimento.



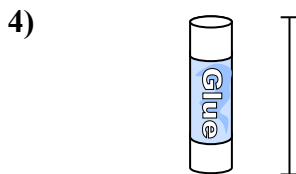
- Кастрюля  
 A. 4 дюймов  
 B. 1 дюйм  
 C. 2 футов  
 D. 10 дюймов



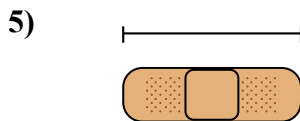
- Молоток  
 A. 1 ярд  
 B. 16 дюймов  
 C. 4 дюймов  
 D. 1 дюйм



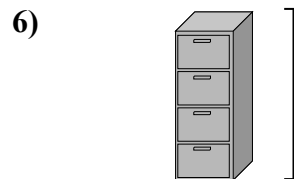
- Свеча  
 A. 8 дюймов  
 B. 1 фут  
 C. 3 дюймов  
 D. 1 миля




- Клеющий карандаш  
 A. 1 фут  
 B. 4 миль  
 C. 10 дюймов  
 D. 3 дюймов



- Пластырь  
 A. 2 футов  
 B. 2 миль  
 C. 3 дюймов  
 D. 1 ярд



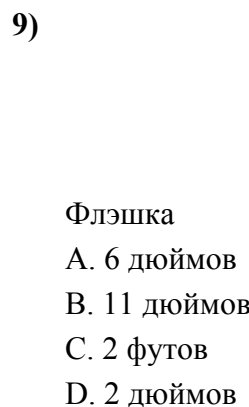
- Ящик для папок  
 A. 5 футов  
 B. 1 фут  
 C. 2 футов  
 D. 11 дюймов



- Лопата  
 A. 2 футов  
 B. 4 футов  
 C. 11 дюймов  
 D. 3 ярдов



- Высота дерева  
 A. 1 миля  
 B. 4 футов  
 C. 6 ярдов  
 D. 18 дюймов



- Флэшка  
 A. 6 дюймов  
 B. 11 дюймов  
 C. 2 футов  
 D. 2 дюймов

1. D
2. B
3. C
4. D
5. C
6. A
7. B
8. C
9. D