

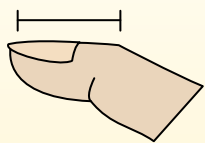


Определите, ответ под какой буквой отражает длину/ высоту.

ОТВЕТЫ

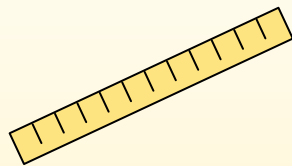
Polegadas (in)

Una pulgada es aproximadamente la distancia de la última articulación de su dedo.



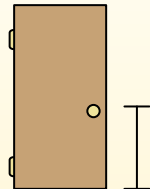
Pie (pies)

Um pé mede 12 polegadas. O comprimento de uma régua.



Jarda (jd)

1 jarda é o mesmo que 3 pés. Do chão até a maçaneta da porta são cerca de 1 jarda.



Milla (mi)

Uma milha equivale a 5.280 pés. A maioria das estradas principais tem pelo menos uma milha de comprimento.



1. _____
2. _____
3. _____
4. _____
5. _____
6. _____
7. _____
8. _____
9. _____

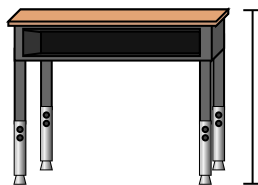
1)



Ручка

- A. 5 дюймов
- B. 12 дюймов
- C. 1 фут
- D. 5 ярдов

2)



Парта

- A. 6 дюймов
- B. 2 ярдов
- C. 2 футов
- D. 11 дюймов

3)



Лягушка

- A. 9 дюймов
- B. 3 дюймов
- C. 1 фут
- D. 2 футов

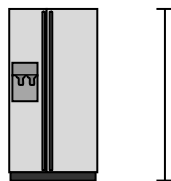
4)



Велосипед

- A. 3 дюймов
- B. 1 ярд
- C. 3 ярдов
- D. 10 дюймов

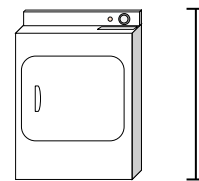
5)



Холодильник

- A. 6 футов
- B. 1 фут
- C. 12 дюймов
- D. 4 ярдов

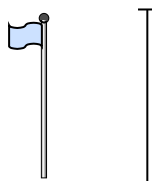
6)



Сушилка для одежды

- A. 2 футов
- B. 1 ярд
- C. 11 дюймов
- D. 6 дюймов


7)



Столб для флага

- A. 5 футов
- B. 10 ярдов
- C. 1 миля
- D. 12 дюймов

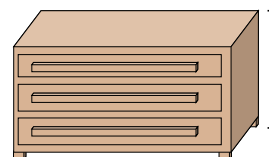
8)



Теннисный мяч

- A. 1 фут
- B. 7 дюймов
- C. 3 дюймов
- D. 2 футов

9)



Комод

- A. 18 дюймов
- B. 3 футов
- C. 3 ярдов
- D. 12 дюймов

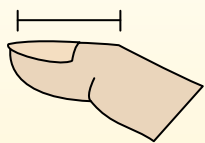


Определите, ответ под какой буквой отражает длину/ высоту.

ОТВЕТЫ

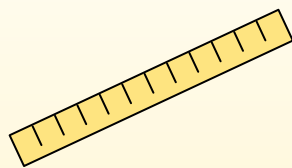
Polegadas (in)

Una pulgada es aproximadamente la distancia de la última articulación de su dedo.



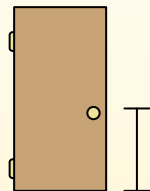
Pie (pies)

Um pé mede 12 polegadas. O comprimento de uma régua.



Jarda (jd)

1 jarda é o mesmo que 3 pés. Do chão até a maçaneta da porta são cerca de 1 jarda.



Milla (mi)

Uma milha equivale a 5.280 pés. A maioria das estradas principais tem pelo menos uma milha de comprimento.



1. A

2. C

3. B

4. B

5. A

6. B

7. B

8. C

9. B

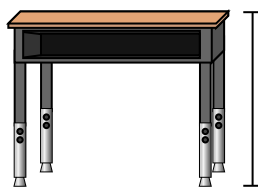
1)



Ручка

- A. 5 дюймов
- B. 12 дюймов
- C. 1 фут
- D. 5 ярдов

2)



Парта

- A. 6 дюймов
- B. 2 ярдов
- C. 2 футов
- D. 11 дюймов

3)



Лягушка

- A. 9 дюймов
- B. 3 дюймов
- C. 1 фут
- D. 2 футов

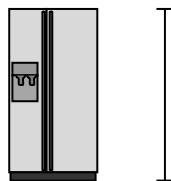
4)



Велосипед

- A. 3 дюймов
- B. 1 ярд
- C. 3 ярдов
- D. 10 дюймов

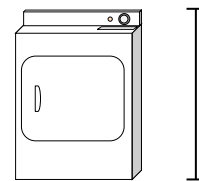
5)



Холодильник

- A. 6 футов
- B. 1 фут
- C. 12 дюймов
- D. 4 ярдов

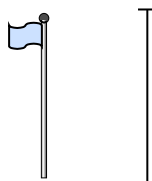
6)



Сушилка для одежды

- A. 2 футов
- B. 1 ярд
- C. 11 дюймов
- D. 6 дюймов


7)



Столб для флага

- A. 5 футов
- B. 10 ярдов
- C. 1 миля
- D. 12 дюймов

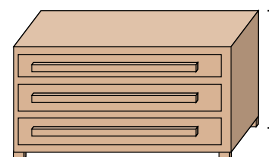
8)



Теннисный мяч

- A. 1 фут
- B. 7 дюймов
- C. 3 дюймов
- D. 2 футов

9)



Комод

- A. 18 дюймов
- B. 3 футов
- C. 3 ярдов
- D. 12 дюймов