

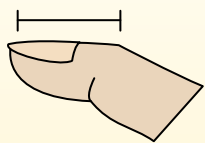


Определите, ответ под какой буквой отражает длину/ высоту.

ОТВЕТЫ

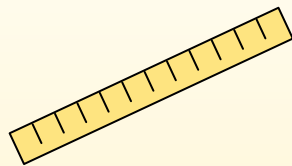
Polegadas (in)

Una pulgada es aproximadamente la distancia de la última articulación de su dedo.



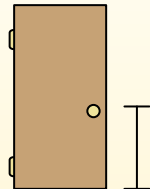
Pie (pies)

Um pé mede 12 polegadas. O comprimento de uma régua.



Jarda (jd)

1 jarda é o mesmo que 3 pés. Do chão até a maçaneta da porta são cerca de 1 jarda.



Milla (mi)

Uma milha equivale a 5.280 pés. A maioria das estradas principais tem pelo menos uma milha de comprimento.



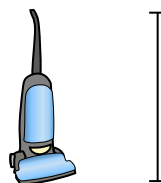
1. _____
2. _____
3. _____
4. _____
5. _____
6. _____
7. _____
8. _____
9. _____

1)



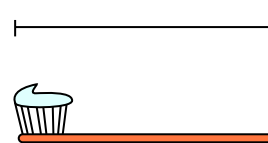
- Велосипед
- A. 3 дюймов
 - B. 10 дюймов
 - C. 1 ярд
 - D. 3 ярдов

2)




- Пылесос
- A. 11 дюймов
 - B. 4 футов
 - C. 3 ярдов
 - D. 1 фут

3)




- Зубная щетка
- A. 1 ярд
 - B. 10 футов
 - C. 7 дюймов
 - D. 4 дюймов

4)



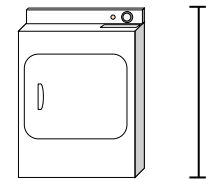
- Высота коробки с крупой
- A. 4 дюймов
 - B. 2 футов
 - C. 1 дюйм
 - D. 1 фут

5)



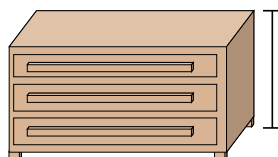
- Слон
- A. 1 миля
 - B. 5 футов
 - C. 18 дюймов
 - D. 4 ярдов

6)



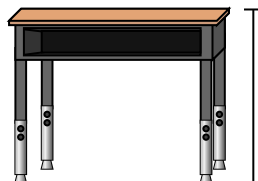
- Сушилка для одежды
- A. 6 дюймов
 - B. 2 футов
 - C. 11 дюймов
 - D. 1 ярд

7)



- Комод
- A. 12 дюймов
 - B. 3 ярдов
 - C. 3 футов
 - D. 18 дюймов

8)



- Парта
- A. 6 дюймов
 - B. 11 дюймов
 - C. 2 футов
 - D. 2 ярдов

9)



- Божья коровка
- A. 3 ярдов
 - B. 3 дюймов
 - C. 1 фут
 - D. 1 дюйм

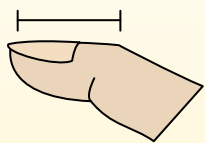


Определите, ответ под какой буквой отражает длину/ высоту.

ОТВЕТЫ

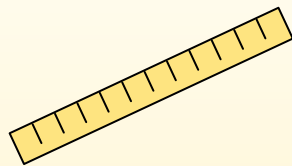
Polegadas (in)

Una pulgada es aproximadamente la distancia de la última articulación de su dedo.



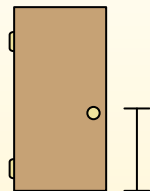
Pie (pies)

Um pé mede 12 polegadas. O comprimento de uma régua.



Jarda (jd)

1 jarda é o mesmo que 3 pés. Do chão até a maçaneta da porta são cerca de 1 jarda.



Milla (mi)

Uma milha equivale a 5.280 pés. A maioria das estradas principais tem pelo menos uma milha de comprimento.



1. C

2. B

3. C

4. D

5. D

6. D

7. C

8. C


9. D




Велосипед
A. 3 дюймов
B. 10 дюймов
C. 1 ярд
D. 3 ярдов




Пылесос
A. 11 дюймов
B. 4 футов
C. 3 ярдов
D. 1 фут



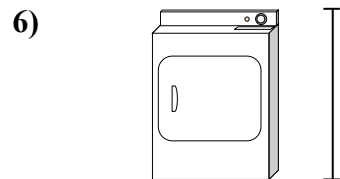
Зубная щетка
A. 1 ярд
B. 10 футов
C. 7 дюймов
D. 4 дюймов



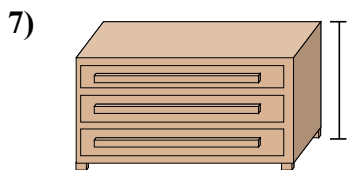
Высота коробки с крупой
A. 4 дюймов
B. 2 футов
C. 1 дюйм
D. 1 фут



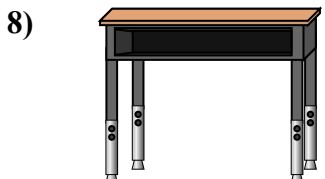
Слон
A. 1 миля
B. 5 футов
C. 18 дюймов
D. 4 ярдов



Сушилка для одежды
A. 6 дюймов
B. 2 футов
C. 11 дюймов
D. 1 ярд



Комод
A. 12 дюймов
B. 3 ярдов
C. 3 футов
D. 18 дюймов



Парта
A. 6 дюймов
B. 11 дюймов
C. 2 футов
D. 2 ярдов



Божья коровка
A. 3 ярдов
B. 3 дюймов
C. 1 фут
D. 1 дюйм