

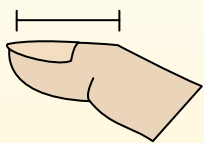


Определите, ответ под какой буквой отражает длину/ высоту.

ОТВЕТЫ

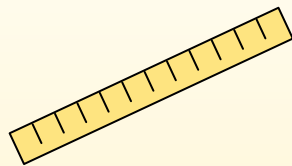
Polegadas (in)

Una pulgada es aproximadamente la distancia de la última articulación de su dedo.



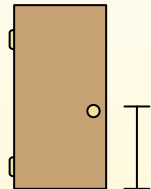
Pie (pies)

Um pé mede 12 polegadas. O comprimento de uma régua.



Jarda (jd)

1 jarda é o mesmo que 3 pés. Do chão até a maçaneta da porta são cerca de 1 jarda.




Milla (mi)

Uma milha equivale a 5.280 pés. A maioria das estradas principais tem pelo menos uma milha de comprimento.



1. _____
2. _____
3. _____
4. _____
5. _____
6. _____
7. _____
8. _____
9. _____

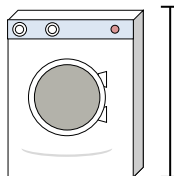
1)



Банка газировки

- A. 1 фут
- B. 1 дюйм
- C. 1 ярд
- D. 4 дюймов


2)



Стиральная машина

- A. 3 футов
- B. 1 фут
- C. 2 ярдов
- D. 4 дюймов

3)



Леденец

- A. 1 фут
- B. 3 дюймов
- C. 1 миля
- D. 5 дюймов

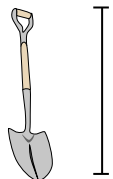
4)



Велосипед

- A. 10 дюймов
- B. 3 дюймов
- C. 1 ярд
- D. 3 ярдов


5)



Лопата

- A. 11 дюймов
- B. 2 футов
- C. 4 футов
- D. 3 ярдов

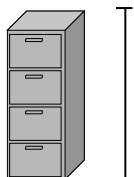
6)



Высота шара для боулинга

- A. 10 дюймов
- B. 10 футов
- C. 1 ярд
- D. 4 дюймов

7)



Ящик для папок

- A. 11 дюймов
- B. 5 футов
- C. 1 фут
- D. 2 футов

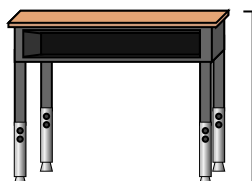
8)



Карандаш

- A. 1 ярд
- B. 7 дюймов
- C. 1 фут
- D. 1 дюйм

9)



Парта


- A. 2 ярдов
- B. 6 дюймов
- C. 11 дюймов
- D. 2 футов



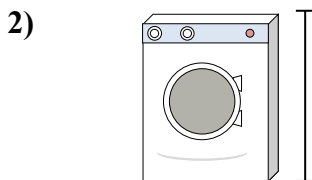
Определите, ответ под какой буквой отражает длину/ высоту.

ОТВЕТЫ


Polegadas (in)	Pie (pies)	Jarda (jd)	Milla (mi)
Una pulgada es aproximadamente la distancia de la última articulación de su dedo.	Um pé mede 12 polegadas. O comprimento de uma régua.	1 jarda é o mesmo que 3 pés. Do chão até a maçaneta da porta são cerca de 1 jarda.	Uma milha equivale a 5.280 pés. A maioria das estradas principais tem pelo menos uma milha de comprimento.



- Банка газировки
- A. 1 фут
 - B. 1 дюйм
 - C. 1 ярд
 - D. 4 дюймов




- Стиральная машина
- A. 3 футов
 - B. 1 фут
 - C. 2 ярдов
 - D. 4 дюймов




- Леденец
- A. 1 фут
 - B. 3 дюймов
 - C. 1 миля
 - D. 5 дюймов



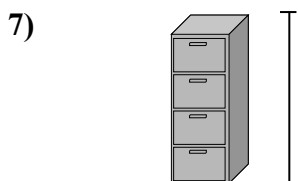
- Велосипед
- A. 10 дюймов
 - B. 3 дюймов
 - C. 1 ярд
 - D. 3 ярдов



- Лопата
- A. 11 дюймов
 - B. 2 футов
 - C. 4 футов
 - D. 3 ярдов



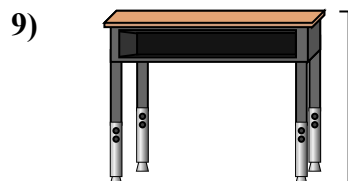
- Высота шара для боулинга
- A. 10 дюймов
 - B. 10 футов
 - C. 1 ярд
 - D. 4 дюймов



- Ящик для папок
- A. 11 дюймов
 - B. 5 футов
 - C. 1 фут
 - D. 2 футов



- Карандаш
- A. 1 ярд
 - B. 7 дюймов
 - C. 1 фут
 - D. 1 дюйм



- Парта
- A. 2 ярдов
 - B. 6 дюймов
 - C. 11 дюймов
 - D. 2 футов

1. D
2. A
3. D
4. C
5. C
6. A
7. B
8. B
9. D