

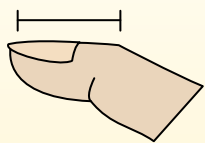


Определите, ответ под какой буквой отражает длину/ высоту.

ОТВЕТЫ

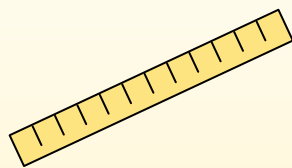
Polegadas (in)

Una pulgada es aproximadamente la distancia de la última articulación de su dedo.



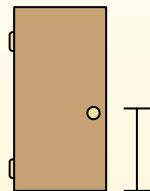
Pie (pies)

Um pé mede 12 polegadas. O comprimento de uma régua.



Jarda (jd)

1 jarda é o mesmo que 3 pés. Do chão até a maçaneta da porta são cerca de 1 jarda.




Milla (mi)

Uma milha equivale a 5.280 pés. A maioria das estradas principais tem pelo menos uma milha de comprimento.



1. _____
2. _____
3. _____
4. _____
5. _____
6. _____
7. _____
8. _____
9. _____

1)



Тетрадный листок

- A. 6 дюймов
- B. 1 ярд
- C. 2 футов
- D. 11 дюймов

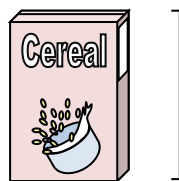
2)



Карандаш

- A. 1 ярд
- B. 7 дюймов
- C. 1 дюйм
- D. 1 фут


3)



Высота коробки с крупой

- A. 2 футов
- B. 1 дюйм
- C. 4 дюймов
- D. 1 фут

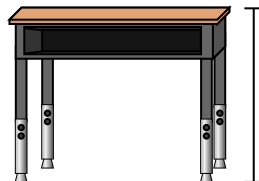
4)



Фляга с молоком

- A. 3 дюймов
- B. 9 дюймов
- C. 11 футов
- D. 6 дюймов

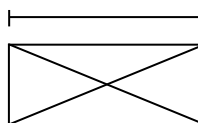
5)



Парта

- A. 6 дюймов
- B. 2 ярдов
- C. 11 дюймов
- D. 2 футов


6)



Конверт

- A. 1 дюйм
- B. 1 фут
- C. 3 дюймов
- D. 7 дюймов

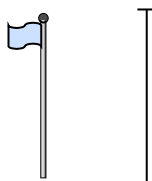
7)



Гора

- A. 20 футов
- B. 2 миль
- C. 300 дюймов
- D. 10 ярдов

8)



Столб для флага

- A. 12 дюймов
- B. 5 футов
- C. 10 ярдов
- D. 1 миля

9)



Велосипед

- A. 3 дюймов
- B. 10 дюймов
- C. 1 ярд
- D. 3 ярдов

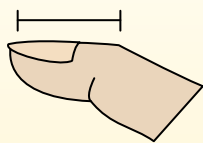


Определите, ответ под какой буквой отражает длину/ высоту.

ОТВЕТЫ

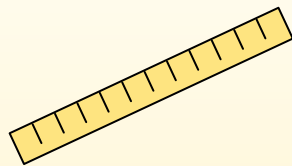
Polegadas (in)

Una pulgada es aproximadamente la distancia de la última articulación de su dedo.



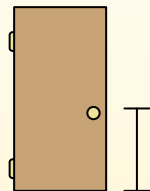
Pie (pies)

Um pé mede 12 polegadas. O comprimento de uma régua.



Jarda (jd)

1 jarda é o mesmo que 3 pés. Do chão até a maçaneta da porta são cerca de 1 jarda.



Milla (mi)

Uma milha equivale a 5.280 pés. A maioria das estradas principais tem pelo menos uma milha de comprimento.



1. **D**

2. **B**

3. **D**

4. **B**


5. **D**

6. **D**

7. **B**

8. **C**

9. **C**




Тетрадный листок

- A. 6 дюймов
- B. 1 ярд
- C. 2 футов
- D. 11 дюймов




Карандаш

- A. 1 ярд
- B. 7 дюймов
- C. 1 дюйм
- D. 1 фут



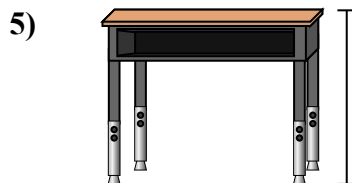
Высота коробки с крупой

- A. 2 футов
- B. 1 дюйм
- C. 4 дюймов
- D. 1 фут



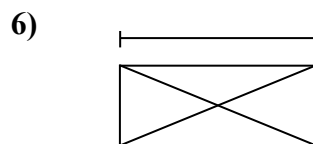
Фляга с молоком

- A. 3 дюймов
- B. 9 дюймов
- C. 11 футов
- D. 6 дюймов




Парта

- A. 6 дюймов
- B. 2 ярдов
- C. 11 дюймов
- D. 2 футов



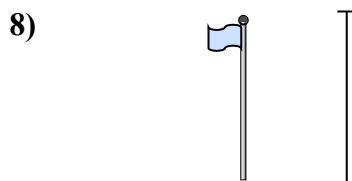
Конверт

- A. 1 дюйм
- B. 1 фут
- C. 3 дюймов
- D. 7 дюймов



Гора

- A. 20 футов
- B. 2 миль
- C. 300 дюймов
- D. 10 ярдов



Столб для флага

- A. 12 дюймов
- B. 5 футов
- C. 10 ярдов
- D. 1 миля



Велосипед

- A. 3 дюймов
- B. 10 дюймов
- C. 1 ярд
- D. 3 ярдов