



Измерьте каждую фигуру в дюймах и сантиметрах.

об)



1)



2)



3)



4)




5)



6)



7)



8)



9)



Ответы

об. 2 1/2 6 - 7

1. _____

2. _____

3. _____

4. _____

5. _____

6. _____

7. _____

8. _____

9. _____



Измерьте каждую фигуру в дюймах и сантиметрах.

об)



1)



2)



3)



4)




5)



6)



7)



8)



9)

**Отвeты**об. 2 1/2 6 - 71. 4 1/2 11 - 122. 3 7 - 83. 5 12 - 134. 2 5 - 65. 3 1/2 8 - 96. 5 1/2 13 - 147. 0 1/2 1 - 28. 1 2 - 39. 4 10 - 11



Измерьте каждую фигуру в дюймах и сантиметрах.

об)



1)




2)



3)



4)



5)



6)



7)



8)



9)



Отвeты

об. 1 2-3

1. _____

2. _____

3. _____

4. _____

5. _____

6. _____

7. _____

8. _____

9. _____



Измерьте каждую фигуру в дюймах и сантиметрах.

об)



1)




2)



3)



4)



5)



6)



7)



8)




9)

ОТВЕТЫоб. 1 2 - 31. 1 1/2 3 - 42. 5 12 - 133. 5 1/2 13 - 144. 0 1/2 1 - 25. 3 7 - 86. 2 5 - 67. 4 10 - 118. 4 1/2 11 - 129. 3 1/2 8 - 9



Измерьте каждую фигуру в дюймах и сантиметрах.

об)



1)




2)



3)



4)



5)




6)



7)



8)



9)



ОТВЕТЫ

об. 4 1/2 11 - 12

1. _____

2. _____

3. _____

4. _____

5. _____

6. _____


7. _____

8. _____

9. _____

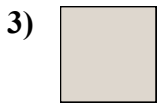


Измерьте каждую фигуру в дюймах и сантиметрах.

**ОТВЕТЫ**об. 4 1/2 11 - 121. 5 1/2 13 - 142. 1 2 - 33. 1 1/2 3 - 44. 4 10 - 115. 2 5 - 66. 2 1/2 6 - 77. 3 7 - 88. 0 1/2 1 - 29. 5 12 - 13



Измерьте каждую фигуру в дюймах и сантиметрах.



Отвeты

об.	<u>3</u>	<u>7 - 8</u>
1.	_____	_____
2.	_____	_____
3.	_____	_____
4.	_____	_____
5.	_____	_____
6.	_____	_____
7.	_____	_____
8.	_____	_____
9.	_____	_____



Измерьте каждую фигуру в дюймах и сантиметрах.

об)




1)



2)



3)



4)



5)



6)



7)



8)

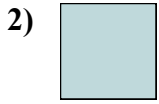


9)

**Отвeты**об. 3 7 - 81. 5 12 - 132. 1 1/2 3 - 43. 0 1/2 1 - 24. 4 1/2 11 - 125. 3 1/2 8 - 96. 2 1/2 6 - 77. 5 1/2 13 - 148. 2 5 - 69. 4 10 - 11



Измерьте каждую фигуру в дюймах и сантиметрах.




Отвeты

об.	3	7 - 8
1.	_____	_____
2.	_____	_____
3.	_____	_____
4.	_____	_____
5.	_____	_____
6.	_____	_____
7.	_____	_____
8.	_____	_____
9.	_____	_____




Измерьте каждую фигуру в дюймах и сантиметрах.

ОТВЕТЫоб. 3 7 - 81. 1 1/2 3 - 42. 0 1/2 1 - 23. 5 1/2 13 - 144. 1 2 - 35. 4 1/2 11 - 126. 4 10 - 117. 5 12 - 138. 2 5 - 69. 2 1/2 6 - 7



Измерьте каждую фигуру в дюймах и сантиметрах.



Ответы

об. 5 1/2 13 - 14

1. _____

2. _____

3. _____

4. _____

5. _____

6. _____



7. _____

8. _____

9. _____



Измерьте каждую фигуру в дюймах и сантиметрах.

**Ответы**об. 5 1/2 13 - 141. 3 1/2 8 - 92. 4 10 - 113. 5 12 - 134. 1 2 - 35. 3 7 - 86. 0 1/2 1 - 27. 1 1/2 3 - 48. 2 5 - 69. 4 1/2 11 - 12



Измерьте каждую фигуру в дюймах и сантиметрах.



ОТВЕТЫ

об. 4 10 - 11

1. _____

2. _____

3. _____

4. _____

5. _____

6. _____

7. _____

8. _____

9. _____



Измерьте каждую фигуру в дюймах и сантиметрах.

**Ответы**об. 4 10 - 111. 0 1/2 1 - 22. 1 1/2 3 - 43. 5 1/2 13 - 144. 3 7 - 85. 2 1/2 6 - 76. 1 2 - 37. 2 5 - 68. 4 1/2 11 - 129. 3 1/2 8 - 9



Измерьте каждую фигуру в дюймах и сантиметрах.



Отвeты

об. 3 1/2 8 - 9

1. _____

2. _____

3. _____

4. _____

5. _____

6. _____

7. _____

8. _____

9. _____




Измерьте каждую фигуру в дюймах и сантиметрах.

**ОТВЕТЫ**об. 3 1/2 8 - 91. 1 2 - 32. 1 1/2 3 - 43. 5 1/2 13 - 144. 5 12 - 135. 2 5 - 66. 3 7 - 87. 4 1/2 11 - 128. 2 1/2 6 - 79. 0 1/2 1 - 2



Измерьте каждую фигуру в дюймах и сантиметрах.



Ответы

об. 4 10 - 11

1. _____

2. _____

3. _____

4. _____

5. _____

6. _____

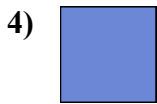
7. _____

8. _____

9. _____





Измерьте каждую фигуру в дюймах и сантиметрах.

**ОТВЕТЫ**

об.	<u>4</u>	<u>10 - 11</u>
1.	<u>2</u>	<u>5 - 6</u>
2.	<u>3</u>	<u>7 - 8</u>
3.	<u>3 1/2</u>	<u>8 - 9</u>
4.	<u>0 1/2</u>	<u>1 - 2</u>
5.	<u>1 1/2</u>	<u>3 - 4</u>
6.	<u>2 1/2</u>	<u>6 - 7</u>
7.	<u>5</u>	<u>12 - 13</u>
8.	<u>4 1/2</u>	<u>11 - 12</u>
9.	<u>5 1/2</u>	<u>13 - 14</u>



Измерьте каждую фигуру в дюймах и сантиметрах.




Отвeты

об.	<u>1</u>	<u>2-3</u>
1.	_____	_____
2.	_____	_____
3.	_____	_____
4.	_____	_____
5.	_____	_____
6.	_____	_____
7.	_____	_____
8.	_____	_____
9.	_____	_____



Измерьте каждую фигуру в дюймах и сантиметрах.

**Ответы**об. 1 2 - 31. 3 1/2 8 - 92. 5 1/2 13 - 143. 5 12 - 134. 4 1/2 11 - 125. 1 1/2 3 - 46. 4 10 - 117. 2 5 - 68. 3 7 - 89. 0 1/2 1 - 2