




Измерьте каждую фигуру в дюймах и сантиметрах.


об)




1)



2)



3)



4)



**Ответы**

об. 2 1/2 1 6,4 2,5

1. \_\_\_\_\_

2. \_\_\_\_\_


3. \_\_\_\_\_

4. \_\_\_\_\_




Измерьте каждую фигуру в дюймах и сантиметрах.


об)




1)



2)



3)



4)



**ОТВЕТЫ**

об. 2 1/2 1 6,4 2,5

1. 4 1/2 1 1/2 11,4 3,8

2. 3 1 7,6 2,5

3. 5 1 1/2 12,7 3,8

4. 2 0 1/2 5,1 1,3