




Измерьте каждую фигуру в дюймах и сантиметрах.

об)



1)




2)



3)



4)



**Ответы**

об. 4 1/2 1 11,4 2,5

1. \_\_\_\_\_

2. \_\_\_\_\_

3. \_\_\_\_\_

4. \_\_\_\_\_




Измерьте каждую фигуру в дюймах и сантиметрах.

об)



1)



2)



3)



4)



**ОТВЕТЫ**

об. 4 1/2 1 11,4 2,5

1. 5 1/2 1 1/2 14 3,8

2. 1 0 1/2 2,5 1,3

3. 1 1/2 0 1/2 3,8 1,3

4. 4 1 1/2 10,2 3,8