




Измерьте каждую фигуру в дюймах и сантиметрах.

об)



1)




2)



3)



4)



**Ответы**

об. 4 0 1/2 10,2 1,3

1. \_\_\_\_\_

2. \_\_\_\_\_

3. \_\_\_\_\_

4. \_\_\_\_\_



Измерьте каждую фигуру в дюймах и сантиметрах.

об)



1)




2)



3)



4)

**ОТВЕТЫ**об. 4 0 1/2 10,2 1,31. 0 1/2 1 1/2 1,3 3,82. 1 1/2 0 1/2 3,8 1,33. 5 1/2 0 1/2 14 1,34. 3 1 1/2 7,6 3,8