



Измерьте каждую фигуру в дюймах и сантиметрах.

об)

**Ответы**об. 3 1/2 0 1/2 8,9 1,3


1. \_\_\_\_\_

2. \_\_\_\_\_

3. \_\_\_\_\_

4. \_\_\_\_\_


1)




2)



3)



4)






Измерьте каждую фигуру в дюймах и сантиметрах.

об)




1)




2)



3)



4)

**Ответы**об.  $3\frac{1}{2}$   $0\frac{1}{2}$  8,9 1,31. 1  $1\frac{1}{2}$  2,5 3,82.  $1\frac{1}{2}$  1 3,8 2,53.  $5\frac{1}{2}$   $1\frac{1}{2}$  14 3,84. 5 1 12,7 2,5