




Измерьте каждую фигуру в дюймах и сантиметрах.

об)



1)




2)



3)



4)



Ответы

об. 4 1 1/2 10,2 3,8

1. _____

2. _____

3. _____

4. _____




Измерьте каждую фигуру в дюймах и сантиметрах.

об)



1)




2)



3)



4)

ОТВЕТЫоб. 4 1 1/2 10,2 3,81. 2 1 1/2 5,1 3,82. 3 0 1/2 7,6 1,33. 3 1/2 1 1/2 8,9 3,84. 0 1/2 0 1/2 1,3 1,3