





Измерьте каждую фигуру в дюймах и сантиметрах.


об)




1)



2)



3)



4)



Ответы

об. 2 1/2 1 6,4 2,5

1. _____

2. _____

3. _____

4. _____




Измерьте каждую фигуру в дюймах и сантиметрах.


об)




1)



2)



3)



4)



ОТВЕТЫ

об. 2 1/2 1 6,4 2,5

1. 4 1/2 1 1/2 11,4 3,8

2. 3 1 7,6 2,5


3. 5 1 1/2 12,7 3,8

4. 2 0 1/2 5,1 1,3




Измерьте каждую фигуру в дюймах и сантиметрах.


об)



1)




2)



3)



4)



ОТВЕТЫ

об. 1 1 1/2 2,5 3,8

1. _____

2. _____


3. _____

4. _____




Измерьте каждую фигуру в дюймах и сантиметрах.


об)



1)




2)



3)



4)



ОТВЕТЫ

об. 1 1 1/2 2,5 3,8

1. 1 1/2 1 1/2 3,8 3,8

2. 5 1 12,7 2,5

3. 5 1/2 0 1/2 14 1,3

4. 0 1/2 1 1/2 1,3 3,8




Измерьте каждую фигуру в дюймах и сантиметрах.

об)



1)




2)



3)



4)



Ответы

об. 4 1/2 1 11,4 2,5

1. _____



2. _____

3. _____

4. _____




Измерьте каждую фигуру в дюймах и сантиметрах.

**ОТВЕТЫ**об. 4 1/2 1 11,4 2,51. 5 1/2 1 1/2 14 3,82. 1 0 1/2 2,5 1,33. 1 1/2 0 1/2 3,8 1,34. 4 1 1/2 10,2 3,8



Измерьте каждую фигуру в дюймах и сантиметрах.

об)



1)



2)



3)



4)



ОТВЕТЫ

об. 3 1 7,6 2,5

1. _____

2. _____

3. _____

4. _____



Измерьте каждую фигуру в дюймах и сантиметрах.

об)



1)



2)



3)



4)



ОТВЕТЫ

об. 3 1 7,6 2,5

1. 5 0 1/2 12,7 1,3

2. 1 1/2 0 1/2 3,8 1,3

3. 0 1/2 1 1,3 2,5

4. 4 1/2 0 1/2 11,4 1,3




Измерьте каждую фигуру в дюймах и сантиметрах.

об)



1)




2)



3)



4)



ОТВЕТЫ

об. 3 0 1/2 7,6 1,3

1. _____


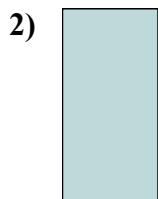
2. _____

3. _____

4. _____



Измерьте каждую фигуру в дюймах и сантиметрах.



ОТВЕТЫ

- об. 3 0 1/2 7,6 1,3
1. 1 1/2 1 3,8 2,5
2. 0 1/2 1 1,3 2,5
3. 5 1/2 1 14 2,5
4. 1 1 1/2 2,5 3,8




Измерьте каждую фигуру в дюймах и сантиметрах.


об)




1)




2)



3)



4)



Ответы

об. 5 1/2 0 1/2 **14** **1,3**

1. _____

2. _____

3. _____

4. _____




Измерьте каждую фигуру в дюймах и сантиметрах.


об)



1)




2)



3)



4)



ОТВЕТЫ

об. 5 1/2 0 1/2 **14** **1,3**

1. 3 1/2 1 1/2 **8,9** **3,8**

2. **4** 0 1/2 **10,2** **1,3**

3. **5** **1** **12,7** **2,5**

4. **1** **1** **2,5** **2,5**




Измерьте каждую фигуру в дюймах и сантиметрах.

об)



1)




2)



3)



4)



Ответы

об. 4 0 1/2 10,2 1,3

1. _____

2. _____

3. _____

4. _____



Измерьте каждую фигуру в дюймах и сантиметрах.

об)



1)




2)



3)



4)



ОТВЕТЫ

об. 4 0 1/2 10,2 1,3

1. 0 1/2 1 1/2 1,3 3,8

2. 1 1/2 0 1/2 3,8 1,3

3. 5 1/2 0 1/2 14 1,3

4. 3 1 1/2 7,6 3,8



Измерьте каждую фигуру в дюймах и сантиметрах.

об)



Ответы

об. 3 1/2 0 1/2 8,9 1,3


1. _____

2. _____

3. _____

4. _____


1)




2)



3)



4)






Измерьте каждую фигуру в дюймах и сантиметрах.


об)




1)



2)



3)



4)



ОТВЕТЫ

об. 3 1/2 0 1/2 8,9 1,3

1. 1 1 1/2 2,5 3,8

2. 1 1/2 1 3,8 2,5

3. 5 1/2 1 1/2 14 3,8

4. 5 1 12,7 2,5




Измерьте каждую фигуру в дюймах и сантиметрах.

об)



1)




2)



3)



4)



Ответы

об. 4 1 1/2 10,2 3,8

1. _____

2. _____

3. _____

4. _____



Измерьте каждую фигуру в дюймах и сантиметрах.


об)




1)




2)



3)



4)

ОТВЕТЫоб. 4 1 1/2 10,2 3,81. 2 1 1/2 5,1 3,82. 3 0 1/2 7,6 1,33. 3 1/2 1 1/2 8,9 3,84. 0 1/2 0 1/2 1,3 1,3



Измерьте каждую фигуру в дюймах и сантиметрах.


об)



1)



2)



3)



4)



ОТВЕТЫ

об. 1 0 1/2 2,5 1,3

1. _____

2. _____

3. _____

4. _____



Измерьте каждую фигуру в дюймах и сантиметрах.



ОТВЕТЫ

об. 1 0 1/2 2,5 1,3

1. 3 1/2 0 1/2 8,9 1,3

2. 5 1/2 1 14 2,5

3. 5 1 12,7 2,5

4. 4 1/2 1 11,4 2,5