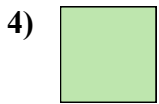





Сравните длину двух блоков.



Ответы

об. 1 2-3

1. \_\_\_\_\_

2. \_\_\_\_\_

3. \_\_\_\_\_

4. \_\_\_\_\_

5. \_\_\_\_\_

6. \_\_\_\_\_


7. \_\_\_\_\_

8. \_\_\_\_\_

9. \_\_\_\_\_



Сравните длину двух блоков.

**ОТВЕТЫ**об. 1    2 - 31. 1 1/2    3 - 42. 5    12 - 133. 5 1/2    13 - 144. 0 1/2    1 - 25. 3    7 - 86. 2    5 - 67. 4    10 - 118. 4 1/2    11 - 129. 3 1/2    8 - 9