
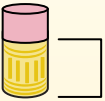
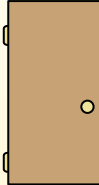





Определите, какая буква наилучшим образом отражает длину/ высоту.


ОТВЕТЫ

Milímetro (mm)	Centímetro (cm)	Metro (m)	Kilómetro (km)
Un milímetro equivale al grosor de una tarjeta de crédito.	10 mm = 1 cm. La parte metálica de un lápiz mide aproximadamente 1 cm. Una regla mide unos 30 centímetros.	100 cm = 1 m Desde el suelo hasta la perilla de una puerta hay aproximadamente 1 metro.	1,000 m = 1 km La mayoría de las carreteras principales tienen al menos un kilómetro de largo.
			

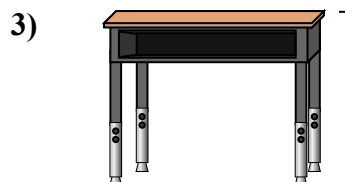
1. _____
2. _____
3. _____
4. _____
5. _____
6. _____
7. _____
8. _____
9. _____




- Поп-корн
A. 3 сантиметры
B. 90 сантиметры
C. 2 километров
D. 3 миллиметры




- Леденец
A. 2 километров
B. 30 миллиметры
C. 10 сантиметры
D. 30 сантиметры



- Парта
A. 2 метры
B. 70 сантиметры
C. 30 сантиметры
D. 15 сантиметры




- Колесо обозрения
A. 30 сантиметры
B. 50 километров
C. 23 метры
D. 5 метры



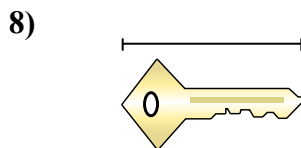
- Зубная щетка
A. 10 сантиметры
B. 3 метры
C. 17 сантиметры
D. 1 метр



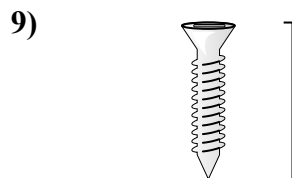
- Банка газировки
A. 1 метр
B. 10 сантиметры
C. 30 сантиметры
D. 3 сантиметры



- Лягушка
A. 60 сантиметры
B. 4 миллиметры
C. 8 сантиметры
D. 20 сантиметры



- Ключ
A. 2 метры
B. 5 сантиметры
C. 15 сантиметры
D. 150 сантиметры


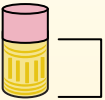
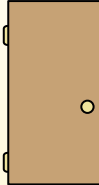



- Болт
A. 1 метр
B. 25 сантиметры
C. 20 сантиметры
D. 3 сантиметры




Определите, какая буква наилучшим образом отражает длину/ высоту.

ОТВЕТЫ

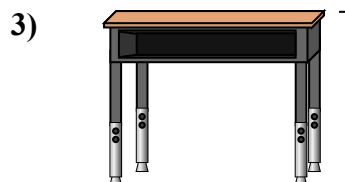
Milímetro (mm)	Centímetro (cm)	Metro (m)	Kilómetro (km)
Un milímetro equivale al grosor de una tarjeta de crédito.	10 mm = 1 cm. La parte metálica de un lápiz mide aproximadamente 1 cm. Una regla mide unos 30 centímetros.	100 cm = 1 m Desde el suelo hasta la perilla de una puerta hay aproximadamente 1 metro.	1,000 m = 1 km La mayoría de las carreteras principales tienen al menos un kilómetro de largo.
			




- Поп-корн
A. 3 сантиметры
B. 90 сантиметры
C. 2 километра
D. 3 миллиметра




- Леденец
A. 2 километра
B. 30 миллиметра
C. 10 сантиметры
D. 30 сантиметры



- Парта
A. 2 метра
B. 70 сантиметры
C. 30 сантиметры
D. 15 сантиметры




- Колесо обозрения
A. 30 сантиметры
B. 50 километра
C. 23 метра
D. 5 метра



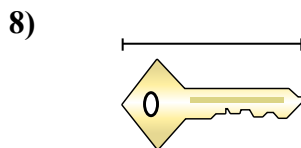
- Зубная щетка
A. 10 сантиметры
B. 3 метра
C. 17 сантиметры
D. 1 метр



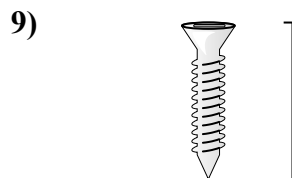
- Банка газировки
A. 1 метр
B. 10 сантиметры
C. 30 сантиметры
D. 3 сантиметры



- Лягушка
A. 60 сантиметры
B. 4 миллиметра
C. 8 сантиметры
D. 20 сантиметры



- Ключ
A. 2 метра
B. 5 сантиметры
C. 15 сантиметры
D. 150 сантиметры



- Болт
A. 1 метр
B. 25 сантиметры
C. 20 сантиметры
D. 3 сантиметры

1. A
2. C
3. B
4. C
5. C
6. B
7. C
8. B
9. D