



Определите, какая буква наилучшим образом отражает длину/ высоту.

ОТВЕТЫ

Milímetro (mm)

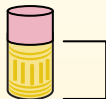
Un milímetro equivale al grosor de una tarjeta de crédito.



Centímetro (cm)

10 mm = 1 cm.


La parte metálica de un lápiz mide aproximadamente 1 cm. Una regla mide unos 30 centímetros.



Metro (m)

100 cm = 1 m

Desde el suelo hasta la perilla de una puerta hay aproximadamente 1 metro.



Kilómetro (km)


1,000 m = 1 km

La mayoría de las carreteras principales tienen al menos un kilómetro de largo.



1. _____
2. _____
3. _____
4. _____
5. _____
6. _____
7. _____
8. _____
9. _____

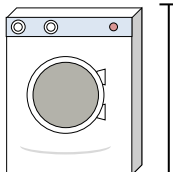
1)



Банка с горошком

- A. 2 метры
- B. 2 километров
- C. 10 сантиметров
- D. 120 сантиметров

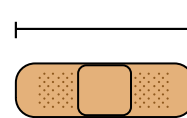
2)



Стиральная машина

- A. 30 сантиметров
- B. 10 сантиметров
- C. 2 метры
- D. 1 метр


3)



Пластырь

- A. 60 сантиметров
- B. 3 километров
- C. 9 сантиметров
- D. 1 метр


4)



Гора

- A. 700 миллиметры
- B. 9 метры
- C. 3 километров
- D. 60 сантиметров


5)



Кусочек хлеба

- A. 10 сантиметров
- B. 120 сантиметров
- C. 2 метры
- D. 25 сантиметров


6)



Слон

- A. 150 миллиметры
- B. 4 метры
- C. 2 километров
- D. 45 сантиметров


7)



Собака

- A. 4 метры
- B. 60 сантиметров
- C. 2 метры
- D. 10 сантиметров

8)



Лист блокнота

- A. 25 сантиметров
- B. 1 метр
- C. 15 сантиметров
- D. 60 сантиметров

9)




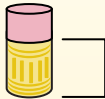
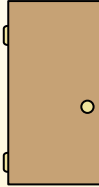

Утюг


- A. 240 сантиметров
- B. 60 сантиметров
- C. 40 сантиметров
- D. 15 сантиметров



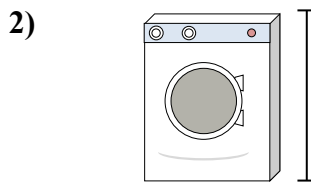
Определите, какая буква наилучшим образом отражает длину/ высоту.

ОТВЕТЫ

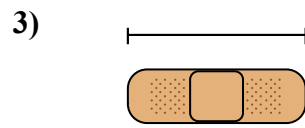
Milímetro (mm)	Centímetro (cm)	Metro (m)	Kilómetro (km)
Un milímetro equivale al grosor de una tarjeta de crédito.	10 mm = 1 cm. La parte metálica de un lápiz mide aproximadamente 1 cm. Una regla mide unos 30 centímetros.	100 cm = 1 m Desde el suelo hasta la perilla de una puerta hay aproximadamente 1 metro.	1,000 m = 1 km La mayoría de las carreteras principales tienen al menos un kilómetro de largo.
			




Банка с горошком
A. 2 метры
B. 2 километров
C. 10 сантиметров
D. 120 сантиметров




Стиральная машина
A. 30 сантиметров
B. 10 сантиметров
C. 2 метры
D. 1 метр




Пластырь
A. 60 сантиметров
B. 3 километров
C. 9 сантиметров
D. 1 метр




Гора
A. 700 миллиметры
B. 9 метры
C. 3 километров
D. 60 сантиметров




Кусочек хлеба
A. 10 сантиметров
B. 120 сантиметров
C. 2 метры
D. 25 сантиметров



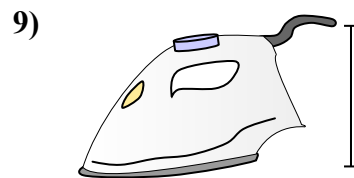
Слон
A. 150 миллиметры
B. 4 метры
C. 2 километров
D. 45 сантиметров



Собака
A. 4 метры
B. 60 сантиметров
C. 2 метры
D. 10 сантиметров



Лист блокнота
A. 25 сантиметров
B. 1 метр
C. 15 сантиметров
D. 60 сантиметров



Утюг
A. 240 сантиметров
B. 60 сантиметров
C. 40 сантиметров
D. 15 сантиметров

1. C
2. D
3. C
4. C
5. A
6. B
7. B
8. A
9. D