



Определите, какая буква наилучшим образом отражает длину/ высоту.

ОТВЕТЫ

Milímetro (mm)

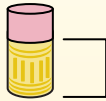
Un milímetro equivale al grosor de una tarjeta de crédito.



Centímetro (cm)

10 mm = 1 cm.

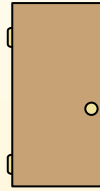
La parte metálica de un lápiz mide aproximadamente 1 cm. Una regla mide unos 30 centímetros.



Metro (m)

100 cm = 1 m

Desde el suelo hasta la perilla de una puerta hay aproximadamente 1 metro.



Kilómetro (km)

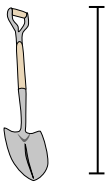
1,000 m = 1 km

La mayoría de las carreteras principales tienen al menos un kilómetro de largo.



1. _____
2. _____
3. _____
4. _____
5. _____
6. _____
7. _____
8. _____
9. _____

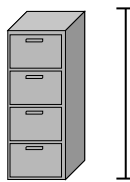
1)



Лопата

- A. 1 метр
- B. 60 сантиметров
- C. 3 метры
- D. 30 сантиметров


2)



Шкафчик для папок

- A. 30 сантиметров
- B. 60 сантиметров
- C. 1.5 миллиметры
- D. 30 миллиметры


3)



Гора

- A. 700 миллиметры
- B. 3 километров
- C. 9 метры
- D. 60 сантиметров

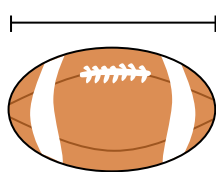
4)



Лист блокнота

- A. 1 метр
- B. 25 сантиметров
- C. 15 сантиметров
- D. 60 сантиметров


5)



Мяч для американского футбола

- A. 25 сантиметров
- B. 3 сантиметров
- C. 60 сантиметров
- D. 1 метр


6)



Ручка

- A. 12 сантиметров
- B. 30 сантиметров
- C. 30 миллиметры
- D. 5 метры

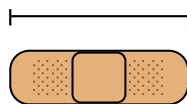
7)



Молоток

- A. 40 сантиметров
- B. 1 метр
- C. 10 сантиметров
- D. 3 сантиметров

8)



Пластырь

- A. 9 сантиметров
- B. 1 метр
- C. 60 сантиметров
- D. 3 километров

9)




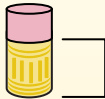
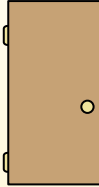

Поп-корн

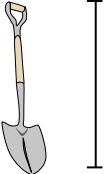
- A. 3 сантиметров
- B. 2 километров
- C. 3 миллиметры
- D. 90 сантиметров



Определите, какая буква наилучшим образом отражает длину/ высоту.

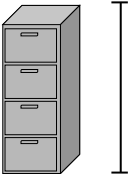
ОТВЕТЫ

Milímetro (mm)	Centímetro (cm)	Metro (m)	Kilómetro (km)
Un milímetro equivale al grosor de una tarjeta de crédito.	10 mm = 1 cm. La parte metálica de un lápiz mide aproximadamente 1 cm. Una regla mide unos 30 centímetros.	100 cm = 1 m Desde el suelo hasta la perilla de una puerta hay aproximadamente 1 metro.	1,000 m = 1 km La mayoría de las carreteras principales tienen al menos un kilómetro de largo.
			

1) 


Лопата

A. 1 метр
B. 60 сантиметров
C. 3 метры
D. 30 сантиметров

2) 


Шкафчик для папок

A. 30 сантиметров
B. 60 сантиметров
C. 1.5 миллиметры
D. 30 миллиметры

3) 


Гора

A. 700 миллиметры
B. 3 километров
C. 9 метры
D. 60 сантиметров

4) 


Лист блокнота

A. 1 метр
B. 25 сантиметров
C. 15 сантиметров
D. 60 сантиметров

5) 


Мяч для американского футбола

A. 25 сантиметров
B. 3 сантиметры
C. 60 сантиметров
D. 1 метр

6) 

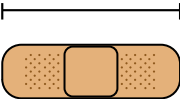
Ручка

A. 12 сантиметров
B. 30 сантиметров
C. 30 миллиметры
D. 5 метры

7) 

Молоток

A. 40 сантиметров
B. 1 метр
C. 10 сантиметров
D. 3 сантиметры

8) 

Пластырь

A. 9 сантиметров
B. 1 метр
C. 60 сантиметров
D. 3 километров

9) 

Поп-корн

A. 3 сантиметры
B. 2 километров
C. 3 миллиметры
D. 90 сантиметры

1. A
2. C
3. B
4. B
5. A
6. A
7. A
8. A
9. A