
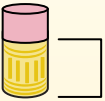
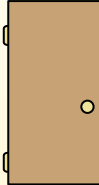






Определите, какая буква наилучшим образом отражает длину/ высоту.


ОТВЕТЫ

Milímetro (mm)	Centímetro (cm)	Metro (m)	Kilómetro (km)
Un milímetro equivale al grosor de una tarjeta de crédito.	10 mm = 1 cm. La parte metálica de un lápiz mide aproximadamente 1 cm. Una regla mide unos 30 centímetros.	100 cm = 1 m Desde el suelo hasta la perilla de una puerta hay aproximadamente 1 metro.	1,000 m = 1 km La mayoría de las carreteras principales tienen al menos un kilómetro de largo.
			

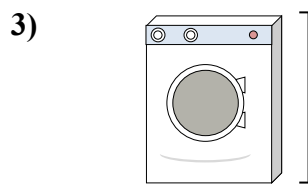
1. _____
2. _____
3. _____
4. _____
5. _____
6. _____
7. _____
8. _____
9. _____




- Лист блокнота
A. 60 сантиметры
B. 15 сантиметры
C. 1 метр
D. 25 сантиметры




- Галлон молока
A. 3 метры
B. 20 сантиметры
C. 10 миллиметры
D. 8 сантиметры



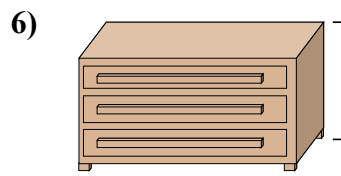
- Стиральная машина
A. 10 сантиметры
B. 30 сантиметры
C. 1 метр
D. 2 метры



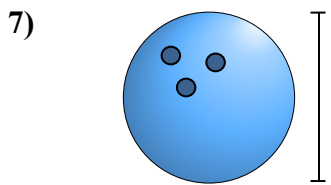
- Клеющий карандаш
A. 30 сантиметры
B. 10 сантиметры
C. 6 километров
D. 25 сантиметры



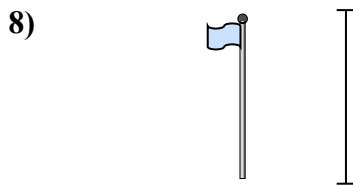
- Слон
A. 45 сантиметры
B. 4 метры
C. 150 миллиметры
D. 2 километров



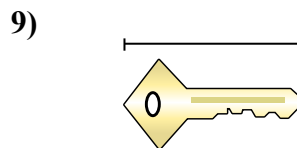
- Комод
A. 45 сантиметры
B. 30 сантиметры
C. 90 сантиметры
D. 3 метры



- Высота мяча для боулинга
A. 10 сантиметры
B. 1 метр
C. 25 сантиметры
D. 305 сантиметры



- Столб для флага
A. 300 сантиметры
B. 9 метры
C. 2 метры
D. 2 километров


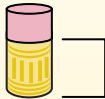
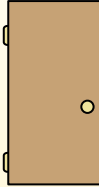



- Ключ
A. 2 метры
B. 5 сантиметры
C. 15 сантиметры
D. 150 сантиметры



Определите, какая буква наилучшим образом отражает длину/ высоту.

ОТВЕТЫ

Milímetro (mm)	Centímetro (cm)	Metro (m)	Kilómetro (km)
Un milímetro equivale al grosor de una tarjeta de crédito.	10 mm = 1 cm. La parte metálica de un lápiz mide aproximadamente 1 cm. Una regla mide unos 30 centímetros.	100 cm = 1 m Desde el suelo hasta la perilla de una puerta hay aproximadamente 1 metro.	1,000 m = 1 km La mayoría de las carreteras principales tienen al menos un kilómetro de largo.
			

1. **D**

2. **B**

3. **C**

4. **B**


5. **B**

6. **C**

7. **C**


8. **B**

9. **B**



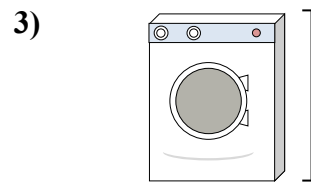
Лист блокнота

- A. 60 сантиметры
- B. 15 сантиметры
- C. 1 метр
- D. 25 сантиметры




Галлон молока

- A. 3 метры
- B. 20 сантиметры
- C. 10 миллиметры
- D. 8 сантиметры




Стиральная машина

- A. 10 сантиметры
- B. 30 сантиметры
- C. 1 метр
- D. 2 метры



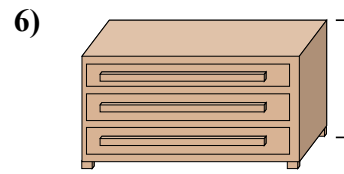
Клеющий карандаш

- A. 30 сантиметры
- B. 10 сантиметры
- C. 6 километров
- D. 25 сантиметры



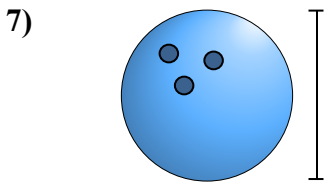
Слон

- A. 45 сантиметры
- B. 4 метры
- C. 150 миллиметры
- D. 2 километров



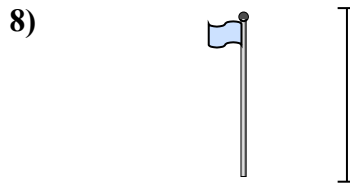
Комод

- A. 45 сантиметры
- B. 30 сантиметры
- C. 90 сантиметры
- D. 3 метры



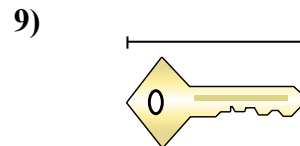
Высота мяча для боулинга

- A. 10 сантиметры
- B. 1 метр
- C. 25 сантиметры
- D. 305 сантиметры



Столб для флага

- A. 300 сантиметры
- B. 9 метры
- C. 2 метры
- D. 2 километров



Ключ

- A. 2 метры
- B. 5 сантиметры
- C. 15 сантиметры
- D. 150 сантиметры