



Определите, какая буква наилучшим образом отражает длину/ высоту.

ОТВЕТЫ

Milímetro (mm)

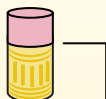
Un milímetro equivale al grosor de una tarjeta de crédito.



Centímetro (cm)

10 mm = 1 cm.

La parte metálica de un lápiz mide aproximadamente 1 cm. Una regla mide unos 30 centímetros.



Metro (m)

100 cm = 1 m

Desde el suelo hasta la perilla de una puerta hay aproximadamente 1 metro.




Kilómetro (km)

1,000 m = 1 km

La mayoría de las carreteras principales tienen al menos un kilómetro de largo.



1. _____
2. _____
3. _____
4. _____
5. _____
6. _____
7. _____
8. _____
9. _____



Лист блокнота

- A. 15 сантиметров
- B. 25 сантиметров
- C. 60 сантиметров
- D. 1 метр



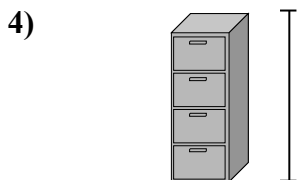
Гора

- A. 9 метры
- B. 3 километров
- C. 60 сантиметров
- D. 700 миллиметры




Ручка

- A. 5 метры
- B. 30 миллиметры
- C. 12 сантиметров
- D. 30 сантиметров



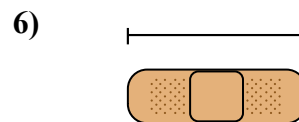
Шкафчик для папок

- A. 30 миллиметры
- B. 60 сантиметров
- C. 1.5 миллиметры
- D. 30 сантиметров




Лягушка

- A. 4 миллиметры
- B. 60 сантиметров
- C. 8 сантиметров
- D. 20 сантиметров



Пластырь

- A. 9 сантиметров
- B. 3 километров
- C. 60 сантиметров
- D. 1 метр



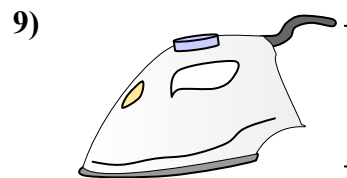
Божья коровка

- A. 30 сантиметров
- B. 7 миллиметры
- C. 5 сантиметров
- D. 10 сантиметров



Болт

- A. 3 сантиметров
- B. 25 сантиметров
- C. 20 сантиметров
- D. 1 метр




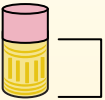
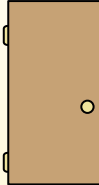

Утюг


- A. 40 сантиметров
- B. 15 сантиметров
- C. 60 сантиметров
- D. 240 сантиметров




Определите, какая буква наилучшим образом отражает длину/ высоту.

ОТВЕТЫ

Milímetro (mm)	Centímetro (cm)	Metro (m)	Kilómetro (km)
Un milímetro equivale al grosor de una tarjeta de crédito.	10 mm = 1 cm. La parte metálica de un lápiz mide aproximadamente 1 cm. Una regla mide unos 30 centímetros.	100 cm = 1 m Desde el suelo hasta la perilla de una puerta hay aproximadamente 1 metro.	1,000 m = 1 km La mayoría de las carreteras principales tienen al menos un kilómetro de largo.
			



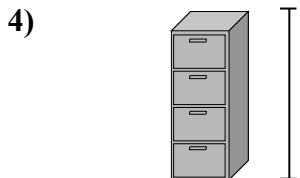
- Лист блокнота
A. 15 сантиметров
B. 25 сантиметров
C. 60 сантиметров
D. 1 метр




- Гора
A. 9 метры
B. 3 километров
C. 60 сантиметров
D. 700 миллиметры



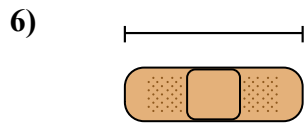
- Ручка
A. 5 метры
B. 30 миллиметры
C. 12 сантиметров
D. 30 сантиметров




- Шкафчик для папок
A. 30 миллиметры
B. 60 сантиметров
C. 1.5 миллиметры
D. 30 сантиметров



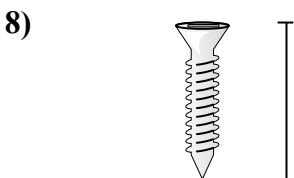
- Лягушка
A. 4 миллиметры
B. 60 сантиметров
C. 8 сантиметров
D. 20 сантиметров



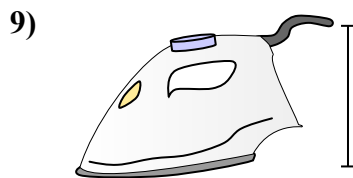
- Пластырь
A. 9 сантиметров
B. 3 километров
C. 60 сантиметров
D. 1 метр



- Божья коровка
A. 30 сантиметров
B. 7 миллиметры
C. 5 сантиметров
D. 10 сантиметров



- Болт
A. 3 сантиметры
B. 25 сантиметров
C. 20 сантиметров
D. 1 метр



- Утюг
A. 40 сантиметров
B. 15 сантиметров
C. 60 сантиметров
D. 240 сантиметров

1. B
2. B
3. C
4. C
5. C
6. A
7. B
8. A
9. B