



Определите, какая буква наилучшим образом отражает длину/ высоту.

ОТВЕТЫ

Milímetro (mm)

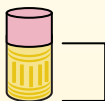
Un milímetro equivale al grosor de una tarjeta de crédito.



Centímetro (cm)

10 mm = 1 cm.

La parte metálica de un lápiz mide aproximadamente 1 cm. Una regla mide unos 30 centímetros.



Metro (m)

100 cm = 1 m

Desde el suelo hasta la perilla de una puerta hay aproximadamente 1 metro.



Kilómetro (km)


1,000 m = 1 km

La mayoría de las carreteras principales tienen al menos un kilómetro de largo.



1. _____
2. _____
3. _____
4. _____
5. _____
6. _____
7. _____
8. _____
9. _____


1)



Кастрюля

- A. 10 сантиметров
- B. 3 сантиметров
- C. 60 сантиметров
- D. 25 сантиметров

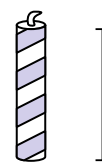
2)



Молоток

- A. 3 сантиметров
- B. 40 сантиметров
- C. 10 сантиметров
- D. 1 метр

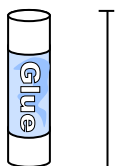
3)



Свеча

- A. 20 сантиметров
- B. 30 сантиметров
- C. 5 сантиметров
- D. 2 километров

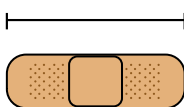
4)



Клеющий карандаш

- A. 30 сантиметров
- B. 6 километров
- C. 25 сантиметров
- D. 10 сантиметров

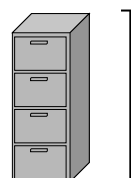
5)



Пластырь

- A. 60 сантиметров
- B. 3 километров
- C. 9 сантиметров
- D. 1 метр

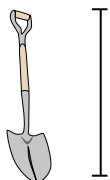
6)



Шкафчик для папок

- A. 1.5 миллиметров
- B. 30 миллиметров
- C. 60 сантиметров
- D. 30 сантиметров


7)



Лопата

- A. 60 сантиметров
- B. 1 метр
- C. 30 сантиметров
- D. 3 метры

8)



Высота дерева

- A. 2 километров
- B. 100 сантиметров
- C. 5 метры
- D. 30 сантиметров

9)


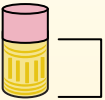
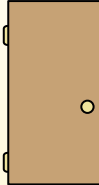

Флэшка

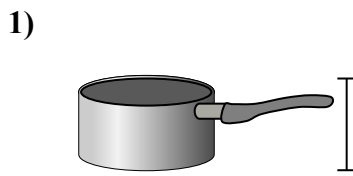
- A. 60 сантиметров
- B. 30 сантиметров
- C. 15 сантиметров
- D. 6 сантиметров




Определите, какая буква наилучшим образом отражает длину/ высоту.

ОТВЕТЫ


Milímetro (mm)	Centímetro (cm)	Metro (m)	Kilómetro (km)
Un milímetro equivale al grosor de una tarjeta de crédito.	10 mm = 1 cm. La parte metálica de un lápiz mide aproximadamente 1 cm. Una regla mide unos 30 centímetros.	100 cm = 1 m Desde el suelo hasta la perilla de una puerta hay aproximadamente 1 metro.	1,000 m = 1 km La mayoría de las carreteras principales tienen al menos un kilómetro de largo.
			




Кастрюля
A. 10 сантиметров
B. 3 сантиметры
C. 60 сантиметров
D. 25 сантиметров



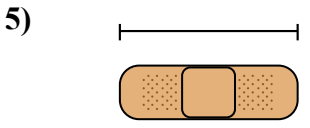
Молоток
A. 3 сантиметры
B. 40 сантиметры
C. 10 сантиметры
D. 1 метр



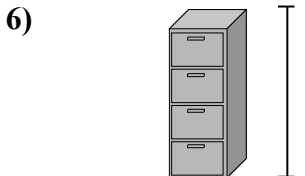
Свеча
A. 20 сантиметров
B. 30 сантиметров
C. 5 сантиметров
D. 2 километров




Клеющий карандаш
A. 30 сантиметров
B. 6 километров
C. 25 сантиметров
D. 10 сантиметров




Пластырь
A. 60 сантиметров
B. 3 километров
C. 9 сантиметров
D. 1 метр



Шкафчик для папок
A. 1.5 миллиметры
B. 30 миллиметры
C. 60 сантиметров
D. 30 сантиметры



Лопата
A. 60 сантиметров
B. 1 метр
C. 30 сантиметров
D. 3 метры



Высота дерева
A. 2 километров
B. 100 сантиметры
C. 5 метры
D. 30 сантиметры



Флэшка
A. 60 сантиметров
B. 30 сантиметры
C. 15 сантиметры
D. 6 сантиметры

1. **D**
2. **B**
3. **C**
4. **D**
5. **C**
6. **A**
7. **B**
8. **C**
9. **D**