



Определите, какая буква наилучшим образом отражает длину/ высоту.

ОТВЕТЫ

Milímetro (mm)

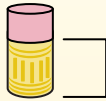
Un milímetro equivale al grosor de una tarjeta de crédito.



Centímetro (cm)

10 mm = 1 cm.

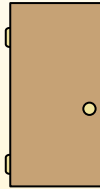
La parte metálica de un lápiz mide aproximadamente 1 cm. Una regla mide unos 30 centímetros.



Metro (m)

100 cm = 1 m

Desde el suelo hasta la perilla de una puerta hay aproximadamente 1 metro.



Kilómetro (km)

1,000 m = 1 km

La mayoría de las carreteras principales tienen al menos un kilómetro de largo.



1. _____
2. _____
3. _____
4. _____
5. _____
6. _____
7. _____
8. _____
9. _____

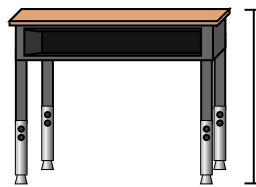
1)



Ручка

- A. 12 сантиметров
- B. 30 миллиметров
- C. 30 сантиметров
- D. 5 метров

2)



Парта

- A. 15 сантиметров
- B. 2 метров
- C. 70 сантиметров
- D. 30 сантиметров

3)



Лягушка

- A. 20 сантиметров
- B. 8 сантиметров
- C. 4 миллиметров
- D. 60 сантиметров

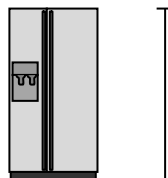
4)



Велосипед

- A. 10 сантиметров
- B. 1 метр
- C. 3 метров
- D. 25 сантиметров

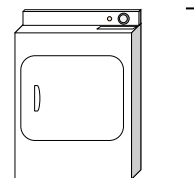
5)



Холодильник

- A. 180 сантиметров
- B. 30 сантиметров
- C. 5 километров
- D. 4 метров

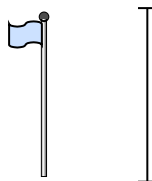
6)



Сушилка для одежды

- A. 60 сантиметров
- B. 1 метр
- C. 25 сантиметров
- D. 15 сантиметров


7)



Столб для флага

- A. 2 километров
- B. 9 метров
- C. 300 сантиметров
- D. 2 метров


8)



Теннисный мяч

- A. 3 миллиметров
- B. 25 сантиметров
- C. 8 сантиметров
- D. 60 сантиметров

9)




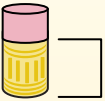
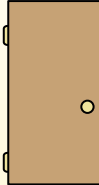

Комод

- A. 45 сантиметров
- B. 90 сантиметров
- C. 3 метров
- D. 30 сантиметров



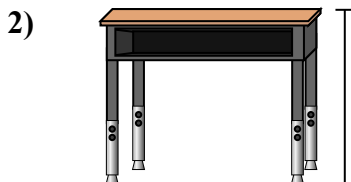
Определите, какая буква наилучшим образом отражает длину/ высоту.

ОТВЕТЫ


Milímetro (mm)	Centímetro (cm)	Metro (m)	Kilómetro (km)
Un milímetro equivale al grosor de una tarjeta de crédito.	10 mm = 1 cm. La parte metálica de un lápiz mide aproximadamente 1 cm. Una regla mide unos 30 centímetros.	100 cm = 1 m Desde el suelo hasta la perilla de una puerta hay aproximadamente 1 metro.	1,000 m = 1 km La mayoría de las carreteras principales tienen al menos un kilómetro de largo.
			



- Ручка
- A. 12 сантиметров
 - B. 30 миллиметров
 - C. 30 сантиметров
 - D. 5 метров



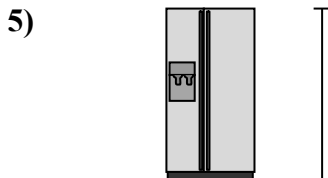
- Парта
- A. 15 сантиметров
 - B. 2 метров
 - C. 70 сантиметров
 - D. 30 сантиметров



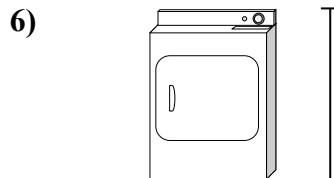
- Лягушка
- A. 20 сантиметров
 - B. 8 сантиметров
 - C. 4 миллиметров
 - D. 60 сантиметров



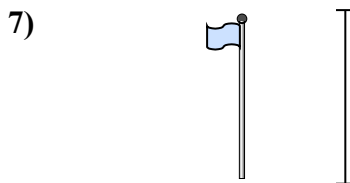
- Велосипед
- A. 10 сантиметров
 - B. 1 метр
 - C. 3 метров
 - D. 25 сантиметров




- Холодильник
- A. 180 сантиметров
 - B. 30 сантиметров
 - C. 5 километров
 - D. 4 метров



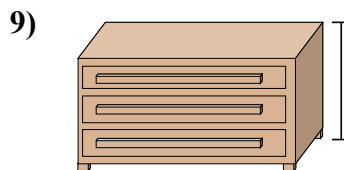
- Сушилка для одежды
- A. 60 сантиметров
 - B. 1 метр
 - C. 25 сантиметров
 - D. 15 сантиметров



- Столб для флага
- A. 2 километров
 - B. 9 метров
 - C. 300 сантиметров
 - D. 2 метров



- Теннисный мяч
- A. 3 миллиметров
 - B. 25 сантиметров
 - C. 8 сантиметров
 - D. 60 сантиметров



- Комод
- A. 45 сантиметров
 - B. 90 сантиметров
 - C. 3 метров
 - D. 30 сантиметров

- 1. A
- 2. C
- 3. B
- 4. B
- 5. A
- 6. B
- 7. B
- 8. C
- 9. B