



Определите, какая буква наилучшим образом отражает длину/ высоту.

ОТВЕТЫ

Milímetro (mm)

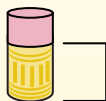
Un milímetro equivale al grosor de una tarjeta de crédito.



Centímetro (cm)

10 mm = 1 cm.

La parte metálica de un lápiz mide aproximadamente 1 cm. Una regla mide unos 30 centímetros.



Metro (m)

100 cm = 1 m

Desde el suelo hasta la perilla de una puerta hay aproximadamente 1 metro.



Kilómetro (km)

1,000 m = 1 km

La mayoría de las carreteras principales tienen al menos un kilómetro de largo.



1. _____
2. _____
3. _____
4. _____
5. _____
6. _____
7. _____
8. _____
9. _____

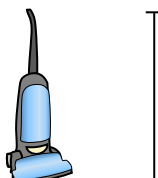
1)



Велосипед

- A. 10 сантиметров
- B. 25 сантиметров
- C. 1 метр
- D. 3 метры


2)



Пылесос

- A. 30 сантиметров
- B. 120 сантиметров
- C. 3 метры
- D. 35 сантиметров


3)



Зубная щетка

- A. 3 метры
- B. 10 сантиметров
- C. 17 сантиметров
- D. 1 метр


4)



Высота коробки с крупой

- A. 10 сантиметров
- B. 60 сантиметров
- C. 3 сантиметров
- D. 30 сантиметров

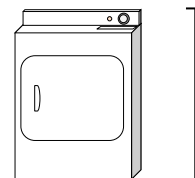
5)



Слон

- A. 2 километров
- B. 150 миллиметры
- C. 45 сантиметров
- D. 4 метры

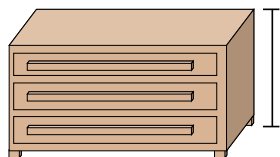
6)



Сушилка для одежды

- A. 15 сантиметров
- B. 60 сантиметров
- C. 25 сантиметров
- D. 1 метр

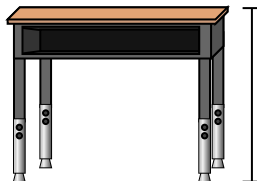
7)



Комод

- A. 30 сантиметров
- B. 3 метры
- C. 90 сантиметров
- D. 45 сантиметров

8)



Парта

- A. 15 сантиметров
- B. 30 сантиметров
- C. 70 сантиметров
- D. 2 метры

9)




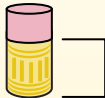
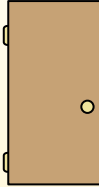

Божья коровка

- A. 30 сантиметров
- B. 10 сантиметров
- C. 5 сантиметров
- D. 7 миллиметры



Определите, какая буква наилучшим образом отражает длину/ высоту.

ОТВЕТЫ


Milímetro (mm)	Centímetro (cm)	Metro (m)	Kilómetro (km)
Un milímetro equivale al grosor de una tarjeta de crédito.	10 mm = 1 cm. La parte metálica de un lápiz mide aproximadamente 1 cm. Una regla mide unos 30 centímetros.	100 cm = 1 m Desde el suelo hasta la perilla de una puerta hay aproximadamente 1 metro.	1,000 m = 1 km La mayoría de las carreteras principales tienen al menos un kilómetro de largo.
			




- Велосипед
- A. 10 сантиметров
 - B. 25 сантиметров
 - C. 1 метр
 - D. 3 метры




- Пылесос
- A. 30 сантиметров
 - B. 120 сантиметров
 - C. 3 метры
 - D. 35 сантиметров



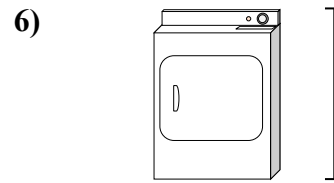
- Зубная щетка
- A. 3 метры
 - B. 10 сантиметров
 - C. 17 сантиметров
 - D. 1 метр



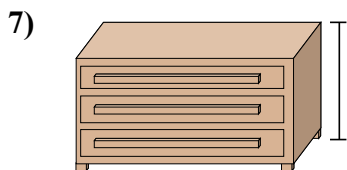
- Высота коробки с крупой
- A. 10 сантиметров
 - B. 60 сантиметров
 - C. 3 сантиметров
 - D. 30 сантиметров



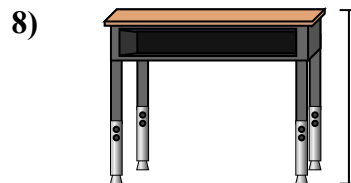
- Слон
- A. 2 километров
 - B. 150 миллиметры
 - C. 45 сантиметров
 - D. 4 метры



- Сушилка для одежды
- A. 15 сантиметров
 - B. 60 сантиметров
 - C. 25 сантиметров
 - D. 1 метр



- Комод
- A. 30 сантиметров
 - B. 3 метры
 - C. 90 сантиметров
 - D. 45 сантиметров



- Парта
- A. 15 сантиметров
 - B. 30 сантиметров
 - C. 70 сантиметров
 - D. 2 метры



- Божья коровка
- A. 30 сантиметров
 - B. 10 сантиметров
 - C. 5 сантиметров
 - D. 7 миллиметры

- 1. C
- 2. B
- 3. C
- 4. D
- 5. D
- 6. D
- 7. C
- 8. C
- 9. D