



Определите, какая буква наилучшим образом отражает длину/ высоту.

ОТВЕТЫ

Milímetro (mm)

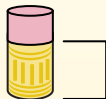
Un milímetro equivale al grosor de una tarjeta de crédito.



Centímetro (cm)

10 mm = 1 cm.

La parte metálica de un lápiz mide aproximadamente 1 cm. Una regla mide unos 30 centímetros.



Metro (m)

100 cm = 1 m

Desde el suelo hasta la perilla de una puerta hay aproximadamente 1 metro.



Kilómetro (km)


1,000 m = 1 km

La mayoría de las carreteras principales tienen al menos un kilómetro de largo.



1. _____
2. _____
3. _____
4. _____
5. _____
6. _____
7. _____
8. _____
9. _____

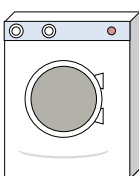
1)



Банка газировки

- A. 30 сантиметров
- B. 3 сантиметры
- C. 1 метр
- D. 10 сантиметров

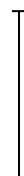

2)



Стиральная машина

- A. 1 метр
- B. 30 сантиметров
- C. 2 метры
- D. 10 сантиметров

3)



Леденец

- A. 30 миллиметры
- B. 30 сантиметров
- C. 2 километров
- D. 10 сантиметров

4)



Велосипед

- A. 25 сантиметров
- B. 10 сантиметров
- C. 1 метр
- D. 3 метры



5)



Лопата

- A. 30 сантиметров
- B. 60 сантиметров
- C. 1 метр
- D. 3 метры

6)



Высота мяча для боулинга

- A. 25 сантиметров
- B. 305 сантиметров
- C. 1 метр
- D. 10 сантиметров

7)



Шкафчик для папок

- A. 30 сантиметров
- B. 1.5 миллиметры
- C. 30 миллиметры
- D. 60 сантиметров

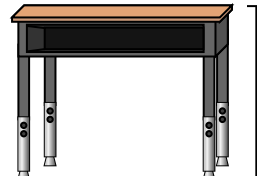
8)



Карандаш

- A. 30 миллиметры
- B. 20 сантиметров
- C. 150 сантиметров
- D. 1 метр

9)




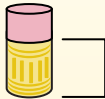
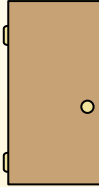

Парта

- A. 2 метры
- B. 15 сантиметров
- C. 30 сантиметров
- D. 70 сантиметров



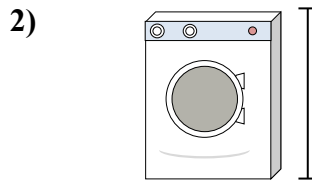
Определите, какая буква наилучшим образом отражает длину/ высоту.

ОТВЕТЫ


Milímetro (mm)	Centímetro (cm)	Metro (m)	Kilómetro (km)
Un milímetro equivale al grosor de una tarjeta de crédito.	10 mm = 1 cm. La parte metálica de un lápiz mide aproximadamente 1 cm. Una regla mide unos 30 centímetros.	100 cm = 1 m Desde el suelo hasta la perilla de una puerta hay aproximadamente 1 metro.	1,000 m = 1 km La mayoría de las carreteras principales tienen al menos un kilómetro de largo.
			



Банка газировки
A. 30 сантиметров
B. 3 сантиметры
C. 1 метр
D. 10 сантиметров




Стиральная машина
A. 1 метр
B. 30 сантиметров
C. 2 метры
D. 10 сантиметров




Леденец
A. 30 миллиметры
B. 30 сантиметров
C. 2 километров
D. 10 сантиметров



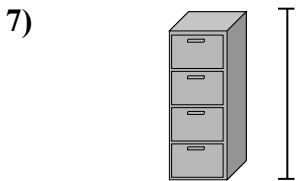
Велосипед
A. 25 сантиметров
B. 10 сантиметров
C. 1 метр
D. 3 метры



Лопата
A. 30 сантиметров
B. 60 сантиметров
C. 1 метр
D. 3 метры



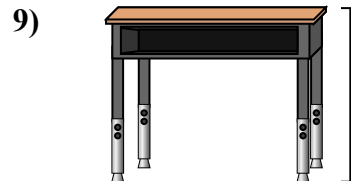
Высота мяча для боулинга
A. 25 сантиметров
B. 305 сантиметров
C. 1 метр
D. 10 сантиметров



Шкафчик для папок
A. 30 сантиметров
B. 1.5 миллиметры
C. 30 миллиметры
D. 60 сантиметров



Карандаш
A. 30 миллиметры
B. 20 сантиметров
C. 150 сантиметров
D. 1 метр



Парта
A. 2 метры
B. 15 сантиметров
C. 30 сантиметров
D. 70 сантиметров

1. **D**
2. **A**
3. **D**
4. **C**
5. **C**
6. **A**
7. **B**
8. **B**
9. **D**