
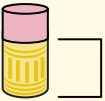
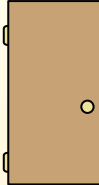





Определите, какая буква наилучшим образом отражает длину/ высоту.


ОТВЕТЫ

Milímetro (mm)	Centímetro (cm)	Metro (m)	Kilómetro (km)
Un milímetro equivale al grosor de una tarjeta de crédito.	10 mm = 1 cm. La parte metálica de un lápiz mide aproximadamente 1 cm. Una regla mide unos 30 centímetros.	100 cm = 1 m Desde el suelo hasta la perilla de una puerta hay aproximadamente 1 metro.	1,000 m = 1 km La mayoría de las carreteras principales tienen al menos un kilómetro de largo.
			

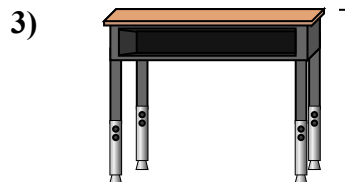
1. _____
2. _____
3. _____
4. _____
5. _____
6. _____
7. _____
8. _____
9. _____




- Поп-корн
- A. 3 сантиметры
 - B. 90 сантиметры
 - C. 2 километра
 - D. 3 миллиметра




- Леденец
- A. 2 километра
 - B. 30 миллиметра
 - C. 10 сантиметры
 - D. 30 сантиметры



- Парта
- A. 2 метра
 - B. 70 сантиметры
 - C. 30 сантиметры
 - D. 15 сантиметры




- Колесо обозрения
- A. 30 сантиметры
 - B. 50 километра
 - C. 23 метра
 - D. 5 метра



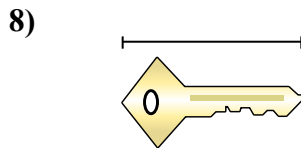
- Зубная щетка
- A. 10 сантиметры
 - B. 3 метра
 - C. 17 сантиметры
 - D. 1 метр



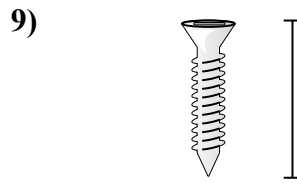
- Банка газировки
- A. 1 метр
 - B. 10 сантиметры
 - C. 30 сантиметры
 - D. 3 сантиметры



- Лягушка
- A. 60 сантиметры
 - B. 4 миллиметра
 - C. 8 сантиметры
 - D. 20 сантиметры



- Ключ
- A. 2 метра
 - B. 5 сантиметры
 - C. 15 сантиметры
 - D. 150 сантиметры


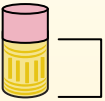
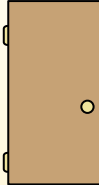



- Болт
- A. 1 метр
 - B. 25 сантиметры
 - C. 20 сантиметры
 - D. 3 сантиметры




Определите, какая буква наилучшим образом отражает длину/ высоту.

ОТВЕТЫ

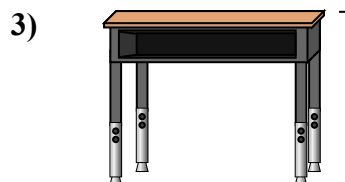
Milímetro (mm)	Centímetro (cm)	Metro (m)	Kilómetro (km)
Un milímetro equivale al grosor de una tarjeta de crédito.	10 mm = 1 cm. La parte metálica de un lápiz mide aproximadamente 1 cm. Una regla mide unos 30 centímetros.	100 cm = 1 m Desde el suelo hasta la perilla de una puerta hay aproximadamente 1 metro.	1,000 m = 1 km La mayoría de las carreteras principales tienen al menos un kilómetro de largo.
			




- Поп-корн
A. 3 сантиметры
B. 90 сантиметры
C. 2 километра
D. 3 миллиметра




- Леденец
A. 2 километра
B. 30 миллиметра
C. 10 сантиметры
D. 30 сантиметры



- Парта
A. 2 метра
B. 70 сантиметры
C. 30 сантиметры
D. 15 сантиметры




- Колесо обозрения
A. 30 сантиметры
B. 50 километра
C. 23 метра
D. 5 метра



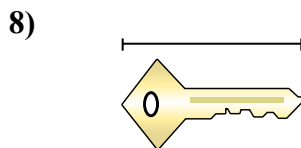
- Зубная щетка
A. 10 сантиметры
B. 3 метра
C. 17 сантиметры
D. 1 метр



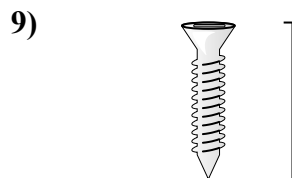
- Банка газировки
A. 1 метр
B. 10 сантиметры
C. 30 сантиметры
D. 3 сантиметры



- Лягушка
A. 60 сантиметры
B. 4 миллиметра
C. 8 сантиметры
D. 20 сантиметры



- Ключ
A. 2 метра
B. 5 сантиметры
C. 15 сантиметры
D. 150 сантиметры



- Болт
A. 1 метр
B. 25 сантиметры
C. 20 сантиметры
D. 3 сантиметры

1. A
2. C
3. B
4. C
5. C
6. B
7. C
8. B
9. D



Определите, какая буква наилучшим образом отражает длину/ высоту.

ОТВЕТЫ

Milímetro (mm)

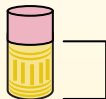
Un milímetro equivale al grosor de una tarjeta de crédito.



Centímetro (cm)

10 mm = 1 cm.


La parte metálica de un lápiz mide aproximadamente 1 cm. Una regla mide unos 30 centímetros.



Metro (m)

100 cm = 1 m

Desde el suelo hasta la perilla de una puerta hay aproximadamente 1 metro.



Kilómetro (km)


1,000 m = 1 km

La mayoría de las carreteras principales tienen al menos un kilómetro de largo.



1. _____
2. _____
3. _____
4. _____
5. _____
6. _____
7. _____
8. _____
9. _____

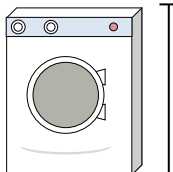
1)



Банка с горошком

- A. 2 метры
- B. 2 километров
- C. 10 сантиметровы
- D. 120 сантиметровы

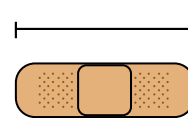
2)



Стиральная машина

- A. 30 сантиметровы
- B. 10 сантиметровы
- C. 2 метры
- D. 1 метр


3)



Пластырь

- A. 60 сантиметровы
- B. 3 километров
- C. 9 сантиметровы
- D. 1 метр


4)



Гора

- A. 700 миллиметры
- B. 9 метры
- C. 3 километров
- D. 60 сантиметровы


5)



Кусочек хлеба

- A. 10 сантиметровы
- B. 120 сантиметровы
- C. 2 метры
- D. 25 сантиметровы


6)



Слон

- A. 150 миллиметры
- B. 4 метры
- C. 2 километров
- D. 45 сантиметровы


7)



Собака

- A. 4 метры
- B. 60 сантиметровы
- C. 2 метры
- D. 10 сантиметровы

8)



Лист блокнота

- A. 25 сантиметровы
- B. 1 метр
- C. 15 сантиметровы
- D. 60 сантиметровы

9)




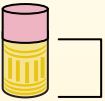
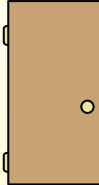

Утюг

- A. 240 сантиметровы
- B. 60 сантиметровы
- C. 40 сантиметровы
- D. 15 сантиметровы



Определите, какая буква наилучшим образом отражает длину/ высоту.

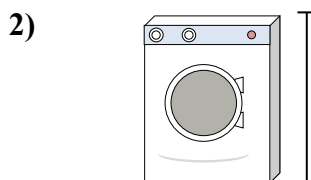
ОТВЕТЫ

Milímetro (mm)	Centímetro (cm)	Metro (m)	Kilómetro (km)
Un milímetro equivale al grosor de una tarjeta de crédito.	10 mm = 1 cm. La parte metálica de un lápiz mide aproximadamente 1 cm. Una regla mide unos 30 centímetros.	100 cm = 1 m Desde el suelo hasta la perilla de una puerta hay aproximadamente 1 metro.	1,000 m = 1 km La mayoría de las carreteras principales tienen al menos un kilómetro de largo.
			

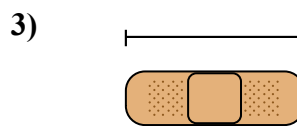
1. C
2. D
3. C
4. C
5. A
6. B
7. B
8. A
9. D




Банка с горошком
A. 2 метры
B. 2 километров
C. 10 сантиметровы
D. 120 сантиметровы




Стиральная машина
A. 30 сантиметровы
B. 10 сантиметровы
C. 2 метры
D. 1 метр




Пластырь
A. 60 сантиметровы
B. 3 километров
C. 9 сантиметровы
D. 1 метр




Гора
A. 700 миллиметры
B. 9 метры
C. 3 километров
D. 60 сантиметровы




Кусочек хлеба
A. 10 сантиметровы
B. 120 сантиметровы
C. 2 метры
D. 25 сантиметровы



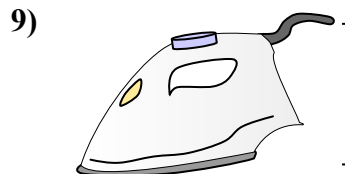
Слон
A. 150 миллиметры
B. 4 метры
C. 2 километров
D. 45 сантиметровы



Собака
A. 4 метры
B. 60 сантиметровы
C. 2 метры
D. 10 сантиметровы



Лист блокнота
A. 25 сантиметровы
B. 1 метр
C. 15 сантиметровы
D. 60 сантиметровы



Утюг
A. 240 сантиметровы
B. 60 сантиметровы
C. 40 сантиметровы
D. 15 сантиметровы



Определите, какая буква наилучшим образом отражает длину/ высоту.

ОТВЕТЫ

Milímetro (mm)

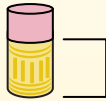
Un milímetro equivale al grosor de una tarjeta de crédito.



Centímetro (cm)

10 mm = 1 cm.

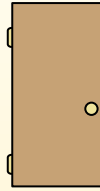
La parte metálica de un lápiz mide aproximadamente 1 cm. Una regla mide unos 30 centímetros.



Metro (m)

100 cm = 1 m

Desde el suelo hasta la perilla de una puerta hay aproximadamente 1 metro.



Kilómetro (km)

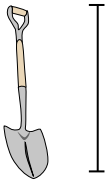
1,000 m = 1 km

La mayoría de las carreteras principales tienen al menos un kilómetro de largo.



1. _____
2. _____
3. _____
4. _____
5. _____
6. _____
7. _____
8. _____
9. _____

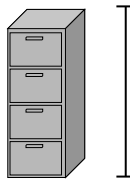
1)



Лопата

- A. 1 метр
- B. 60 сантиметров
- C. 3 метры
- D. 30 сантиметров


2)



Шкафчик для папок

- A. 30 сантиметров
- B. 60 сантиметров
- C. 1.5 миллиметры
- D. 30 миллиметры


3)



Гора

- A. 700 миллиметры
- B. 3 километров
- C. 9 метры
- D. 60 сантиметров

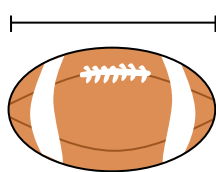
4)



Лист блокнота

- A. 1 метр
- B. 25 сантиметров
- C. 15 сантиметров
- D. 60 сантиметров

5)



Мяч для американского футбола

- A. 25 сантиметров
- B. 3 сантиметров
- C. 60 сантиметров
- D. 1 метр


6)



Ручка

- A. 12 сантиметров
- B. 30 сантиметров
- C. 30 миллиметры
- D. 5 метры

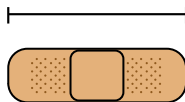
7)



Молоток

- A. 40 сантиметров
- B. 1 метр
- C. 10 сантиметров
- D. 3 сантиметров


8)



Пластырь

- A. 9 сантиметров
- B. 1 метр
- C. 60 сантиметров
- D. 3 километров

9)




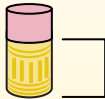
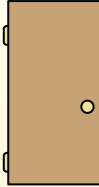

Поп-корн

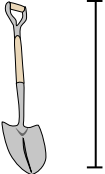
- A. 3 сантиметров
- B. 2 километров
- C. 3 миллиметры
- D. 90 сантиметров



Определите, какая буква наилучшим образом отражает длину/ высоту.

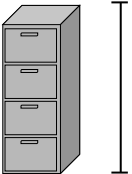
ОТВЕТЫ

Milímetro (mm)	Centímetro (cm)	Metro (m)	Kilómetro (km)
Un milímetro equivale al grosor de una tarjeta de crédito.	10 mm = 1 cm. La parte metálica de un lápiz mide aproximadamente 1 cm. Una regla mide unos 30 centímetros.	100 cm = 1 m Desde el suelo hasta la perilla de una puerta hay aproximadamente 1 metro.	1,000 m = 1 km La mayoría de las carreteras principales tienen al menos un kilómetro de largo.
			

1) 


Лопата

A. 1 метр
B. 60 сантиметров
C. 3 метры
D. 30 сантиметров

2) 

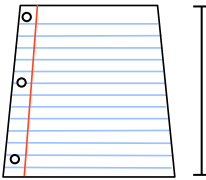
Шкафчик для папок

A. 30 сантиметров
B. 60 сантиметров
C. 1.5 миллиметры
D. 30 миллиметры

3) 


Гора

A. 700 миллиметры
B. 3 километров
C. 9 метры
D. 60 сантиметров

4) 


Лист блокнота

A. 1 метр
B. 25 сантиметров
C. 15 сантиметров
D. 60 сантиметров

5) 

Мяч для американского футбола

A. 25 сантиметров
B. 3 сантиметры
C. 60 сантиметров
D. 1 метр

6) 

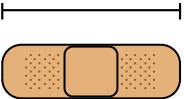
Ручка

A. 12 сантиметров
B. 30 сантиметров
C. 30 миллиметры
D. 5 метры

7) 


Молоток

A. 40 сантиметров
B. 1 метр
C. 10 сантиметров
D. 3 сантиметры

8) 

Пластырь

A. 9 сантиметров
B. 1 метр
C. 60 сантиметров
D. 3 километров

9) 

Поп-корн

A. 3 сантиметры
B. 2 километров
C. 3 миллиметры
D. 90 сантиметров

1. A
2. C
3. B
4. B
5. A
6. A
7. A
8. A
9. A



Определите, какая буква наилучшим образом отражает длину/ высоту.

ОТВЕТЫ

Milímetro (mm)

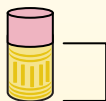
Un milímetro equivale al grosor de una tarjeta de crédito.



Centímetro (cm)

10 mm = 1 cm.


La parte metálica de un lápiz mide aproximadamente 1 cm. Una regla mide unos 30 centímetros.



Metro (m)

100 cm = 1 m

Desde el suelo hasta la perilla de una puerta hay aproximadamente 1 metro.



Kilómetro (km)


1,000 m = 1 km

La mayoría de las carreteras principales tienen al menos un kilómetro de largo.



1. _____
2. _____
3. _____
4. _____
5. _____
6. _____
7. _____
8. _____
9. _____


1)



Лист блокнота

- A. 60 сантиметры
- B. 15 сантиметры
- C. 1 метр
- D. 25 сантиметры


2)



Галлон молока

- A. 3 метры
- B. 20 сантиметры
- C. 10 миллиметры
- D. 8 сантиметры

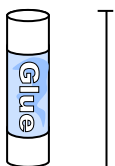
3)



Стиральная машина

- A. 10 сантиметры
- B. 30 сантиметры
- C. 1 метр
- D. 2 метры


4)



Клеющий карандаш

- A. 30 сантиметры
- B. 10 сантиметры
- C. 6 километров
- D. 25 сантиметры

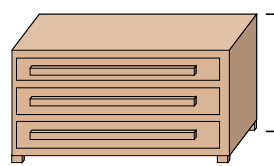
5)



Слон

- A. 45 сантиметры
- B. 4 метры
- C. 150 миллиметры
- D. 2 километров

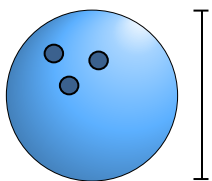
6)



Комод

- A. 45 сантиметры
- B. 30 сантиметры
- C. 90 сантиметры
- D. 3 метры

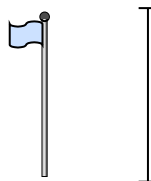
7)



Высота мяча для боулинга

- A. 10 сантиметры
- B. 1 метр
- C. 25 сантиметры
- D. 305 сантиметры

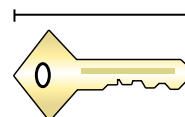
8)



Столб для флага

- A. 300 сантиметры
- B. 9 метры
- C. 2 метры
- D. 2 километров

9)




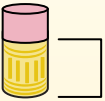
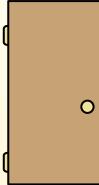

Ключ

- A. 2 метры
- B. 5 сантиметры
- C. 15 сантиметры
- D. 150 сантиметры

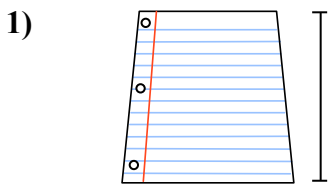


Определите, какая буква наилучшим образом отражает длину/ высоту.


ОТВЕТЫ

Milímetro (mm)	Centímetro (cm)	Metro (m)	Kilómetro (km)
Un milímetro equivale al grosor de una tarjeta de crédito.	10 mm = 1 cm. La parte metálica de un lápiz mide aproximadamente 1 cm. Una regla mide unos 30 centímetros.	100 cm = 1 m Desde el suelo hasta la perilla de una puerta hay aproximadamente 1 metro.	1,000 m = 1 km La mayoría de las carreteras principales tienen al menos un kilómetro de largo.
			

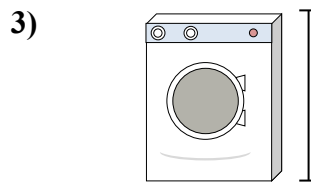
1. **D**
2. **B**
3. **C**
4. **B**
5. **B**
6. **C**
7. **C**
8. **B**
9. **B**




Лист блокнота
A. 60 сантиметры
B. 15 сантиметры
C. 1 метр
D. 25 сантиметры




Галлон молока
A. 3 метры
B. 20 сантиметры
C. 10 миллиметры
D. 8 сантиметры



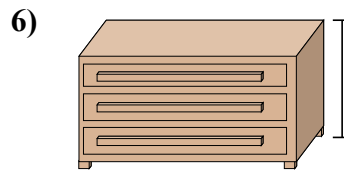
Стиральная машина
A. 10 сантиметры
B. 30 сантиметры
C. 1 метр
D. 2 метры



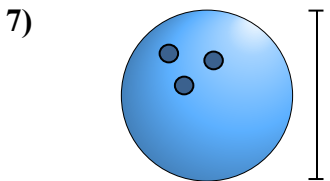
Клеющий карандаш
A. 30 сантиметры
B. 10 сантиметры
C. 6 километров
D. 25 сантиметры



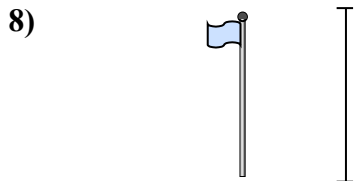
Слон
A. 45 сантиметры
B. 4 метры
C. 150 миллиметры
D. 2 километров



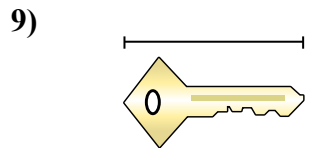
Комод
A. 45 сантиметры
B. 30 сантиметры
C. 90 сантиметры
D. 3 метры



Высота мяча для боулинга
A. 10 сантиметры
B. 1 метр
C. 25 сантиметры
D. 305 сантиметры



Столб для флага
A. 300 сантиметры
B. 9 метры
C. 2 метры
D. 2 километров



Ключ
A. 2 метры
B. 5 сантиметры
C. 15 сантиметры
D. 150 сантиметры



Определите, какая буква наилучшим образом отражает длину/ высоту.

ОТВЕТЫ

Milímetro (mm)

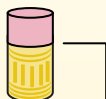
Un milímetro equivale al grosor de una tarjeta de crédito.



Centímetro (cm)

10 mm = 1 cm.

La parte metálica de un lápiz mide aproximadamente 1 cm. Una regla mide unos 30 centímetros.



Metro (m)

100 cm = 1 m

Desde el suelo hasta la perilla de una puerta hay aproximadamente 1 metro.



Kilómetro (km)


1,000 m = 1 km

La mayoría de las carreteras principales tienen al menos un kilómetro de largo.



1. _____
2. _____
3. _____
4. _____
5. _____
6. _____
7. _____
8. _____
9. _____


1)



Лист блокнота

- A. 15 сантиметров
- B. 25 сантиметров
- C. 60 сантиметров
- D. 1 метр

2)



Гора

- A. 9 метры
- B. 3 километров
- C. 60 сантиметров
- D. 700 миллиметры

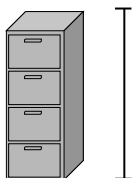
3)



Ручка

- A. 5 метры
- B. 30 миллиметры
- C. 12 сантиметров
- D. 30 сантиметров

4)



Шкафчик для папок

- A. 30 миллиметры
- B. 60 сантиметров
- C. 1.5 миллиметры
- D. 30 сантиметров

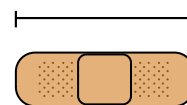
5)



Лягушка

- A. 4 миллиметры
- B. 60 сантиметров
- C. 8 сантиметров
- D. 20 сантиметров

6)



Пластырь

- A. 9 сантиметров
- B. 3 километров
- C. 60 сантиметров
- D. 1 метр

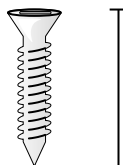
7)



Божья коровка

- A. 30 сантиметров
- B. 7 миллиметры
- C. 5 сантиметров
- D. 10 сантиметров

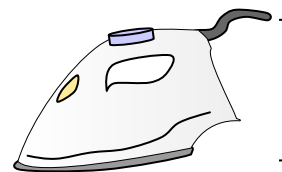
8)



Болт

- A. 3 сантиметров
- B. 25 сантиметров
- C. 20 сантиметров
- D. 1 метр

9)




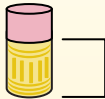
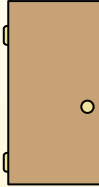

Утюг

- A. 40 сантиметров
- B. 15 сантиметров
- C. 60 сантиметров
- D. 240 сантиметров




Определите, какая буква наилучшим образом отражает длину/ высоту.


ОТВЕТЫ

Milímetro (mm)	Centímetro (cm)	Metro (m)	Kilómetro (km)
Un milímetro equivale al grosor de una tarjeta de crédito.	10 mm = 1 cm. La parte metálica de un lápiz mide aproximadamente 1 cm. Una regla mide unos 30 centímetros.	100 cm = 1 m Desde el suelo hasta la perilla de una puerta hay aproximadamente 1 metro.	1,000 m = 1 km La mayoría de las carreteras principales tienen al menos un kilómetro de largo.
			

1. **B**
2. **B**
3. **C**
4. **C**
5. **C**
6. **A**
7. **B**
8. **A**
9. **B**



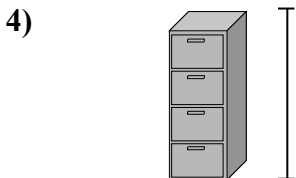
- Лист блокнота
- A. 15 сантиметров
 - B. 25 сантиметров
 - C. 60 сантиметров
 - D. 1 метр




- Гора
- A. 9 метры
 - B. 3 километров
 - C. 60 сантиметров
 - D. 700 миллиметры



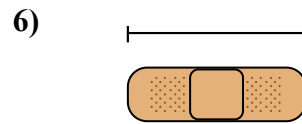
- Ручка
- A. 5 метры
 - B. 30 миллиметры
 - C. 12 сантиметров
 - D. 30 сантиметров




- Шкафчик для папок
- A. 30 миллиметры
 - B. 60 сантиметров
 - C. 1.5 миллиметры
 - D. 30 сантиметров



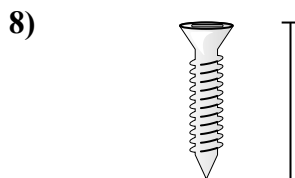
- Лягушка
- A. 4 миллиметры
 - B. 60 сантиметров
 - C. 8 сантиметров
 - D. 20 сантиметров



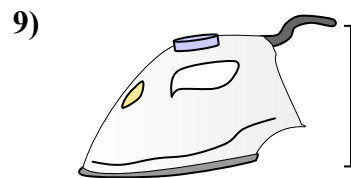
- Пластырь
- A. 9 сантиметров
 - B. 3 километров
 - C. 60 сантиметров
 - D. 1 метр



- Божья коровка
- A. 30 сантиметров
 - B. 7 миллиметры
 - C. 5 сантиметров
 - D. 10 сантиметров



- Болт
- A. 3 сантиметров
 - B. 25 сантиметров
 - C. 20 сантиметров
 - D. 1 метр



- Утюг
- A. 40 сантиметров
 - B. 15 сантиметров
 - C. 60 сантиметров
 - D. 240 сантиметров



Определите, какая буква наилучшим образом отражает длину/ высоту.

ОТВЕТЫ

Milímetro (mm)

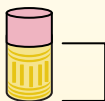
Un milímetro equivale al grosor de una tarjeta de crédito.



Centímetro (cm)

10 mm = 1 cm.

La parte metálica de un lápiz mide aproximadamente 1 cm. Una regla mide unos 30 centímetros.



Metro (m)

100 cm = 1 m

Desde el suelo hasta la perilla de una puerta hay aproximadamente 1 metro.



Kilómetro (km)


1,000 m = 1 km

La mayoría de las carreteras principales tienen al menos un kilómetro de largo.



1. _____
2. _____
3. _____
4. _____
5. _____
6. _____
7. _____
8. _____
9. _____


1)



Кастрюля

- A. 10 сантиметров
- B. 3 сантиметров
- C. 60 сантиметров
- D. 25 сантиметров

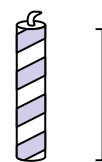
2)



Молоток

- A. 3 сантиметров
- B. 40 сантиметров
- C. 10 сантиметров
- D. 1 метр

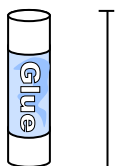
3)



Свеча

- A. 20 сантиметров
- B. 30 сантиметров
- C. 5 сантиметров
- D. 2 километров

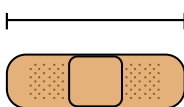
4)



Клеющий карандаш

- A. 30 сантиметров
- B. 6 километров
- C. 25 сантиметров
- D. 10 сантиметров

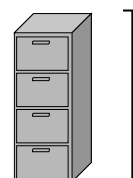
5)



Пластырь

- A. 60 сантиметров
- B. 3 километров
- C. 9 сантиметров
- D. 1 метр

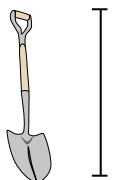
6)



Шкафчик для папок

- A. 1.5 миллиметров
- B. 30 миллиметров
- C. 60 сантиметров
- D. 30 сантиметров

7)



Лопата

- A. 60 сантиметров
- B. 1 метр
- C. 30 сантиметров
- D. 3 метры

8)



Высота дерева

- A. 2 километров
- B. 100 сантиметров
- C. 5 метры
- D. 30 сантиметров

9)





Флэшка

- A. 60 сантиметров
- B. 30 сантиметров
- C. 15 сантиметров
- D. 6 сантиметров



Определите, какая буква наилучшим образом отражает длину/ высоту.

ОТВЕТЫ


Milímetro (mm)	Centímetro (cm)	Metro (m)	Kilómetro (km)
Un milímetro equivale al grosor de una tarjeta de crédito.	10 mm = 1 cm. La parte metálica de un lápiz mide aproximadamente 1 cm. Una regla mide unos 30 centímetros.	100 cm = 1 m Desde el suelo hasta la perilla de una puerta hay aproximadamente 1 metro.	1,000 m = 1 km La mayoría de las carreteras principales tienen al menos un kilómetro de largo.
			

1. **D**
2. **B**
3. **C**
4. **D**
5. **C**
6. **A**
7. **B**
8. **C**
9. **D**

1) 

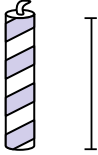
Кастрюля

A. 10 сантиметров
B. 3 сантиметры
C. 60 сантиметров
D. 25 сантиметров

2) 

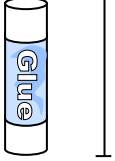
Молоток

A. 3 сантиметры
B. 40 сантиметры
C. 10 сантиметры
D. 1 метр

3) 

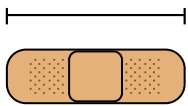
Свеча

A. 20 сантиметров
B. 30 сантиметров
C. 5 сантиметров
D. 2 километров

4) 

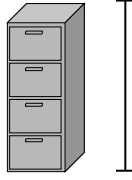
Клеющий карандаш

A. 30 сантиметров
B. 6 километров
C. 25 сантиметров
D. 10 сантиметров

5) 

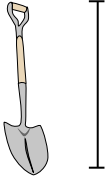
Пластырь

A. 60 сантиметров
B. 3 километров
C. 9 сантиметров
D. 1 метр

6) 

Шкафчик для папок

A. 1.5 миллиметры
B. 30 миллиметры
C. 60 сантиметров
D. 30 сантиметры

7) 


Лопата

A. 60 сантиметров
B. 1 метр
C. 30 сантиметры
D. 3 метры

8) 

Высота дерева

A. 2 километров
B. 100 сантиметры
C. 5 метры
D. 30 сантиметры

9) 

Флэшка

A. 60 сантиметры
B. 30 сантиметры
C. 15 сантиметры
D. 6 сантиметры



Определите, какая буква наилучшим образом отражает длину/ высоту.

ОТВЕТЫ

Milímetro (mm)

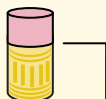
Un milímetro equivale al grosor de una tarjeta de crédito.



Centímetro (cm)

10 mm = 1 cm.

La parte metálica de un lápiz mide aproximadamente 1 cm. Una regla mide unos 30 centímetros.



Metro (m)

100 cm = 1 m

Desde el suelo hasta la perilla de una puerta hay aproximadamente 1 metro.



Kilómetro (km)

1,000 m = 1 km

La mayoría de las carreteras principales tienen al menos un kilómetro de largo.



1. _____
2. _____
3. _____
4. _____
5. _____
6. _____
7. _____
8. _____
9. _____

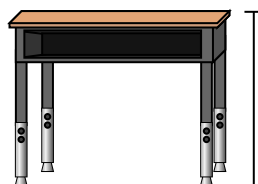
1)



Ручка

- A. 12 сантиметров
- B. 30 миллиметров
- C. 30 сантиметров
- D. 5 метров

2)



Парта

- A. 15 сантиметров
- B. 2 метров
- C. 70 сантиметров
- D. 30 сантиметров

3)



Лягушка

- A. 20 сантиметров
- B. 8 сантиметров
- C. 4 миллиметров
- D. 60 сантиметров

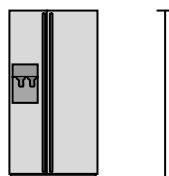
4)



Велосипед

- A. 10 сантиметров
- B. 1 метр
- C. 3 метров
- D. 25 сантиметров

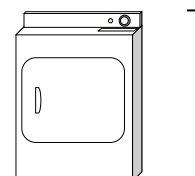
5)



Холодильник

- A. 180 сантиметров
- B. 30 сантиметров
- C. 5 километров
- D. 4 метров

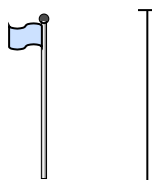
6)



Сушилка для одежды

- A. 60 сантиметров
- B. 1 метр
- C. 25 сантиметров
- D. 15 сантиметров


7)



Столб для флага

- A. 2 километров
- B. 9 метров
- C. 300 сантиметров
- D. 2 метров

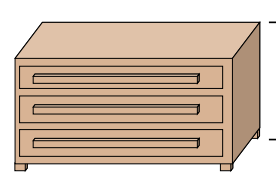
8)



Теннисный мяч

- A. 3 миллиметров
- B. 25 сантиметров
- C. 8 сантиметров
- D. 60 сантиметров

9)




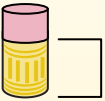
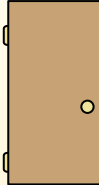

Комод

- A. 45 сантиметров
- B. 90 сантиметров
- C. 3 метров
- D. 30 сантиметров



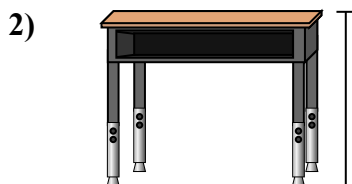
Определите, какая буква наилучшим образом отражает длину/ высоту.

ОТВЕТЫ


Milímetro (mm)	Centímetro (cm)	Metro (m)	Kilómetro (km)
Un milímetro equivale al grosor de una tarjeta de crédito.	10 mm = 1 cm. La parte metálica de un lápiz mide aproximadamente 1 cm. Una regla mide unos 30 centímetros.	100 cm = 1 m Desde el suelo hasta la perilla de una puerta hay aproximadamente 1 metro.	1,000 m = 1 km La mayoría de las carreteras principales tienen al menos un kilómetro de largo.
			



- Ручка
- A. 12 сантиметров
 - B. 30 миллиметров
 - C. 30 сантиметров
 - D. 5 метров



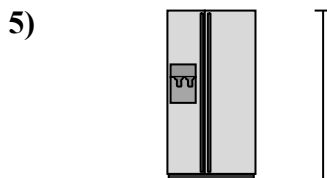
- Парта
- A. 15 сантиметров
 - B. 2 метров
 - C. 70 сантиметров
 - D. 30 сантиметров



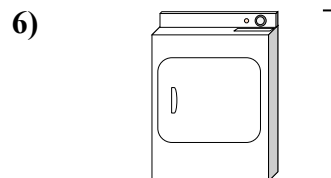
- Лягушка
- A. 20 сантиметров
 - B. 8 сантиметров
 - C. 4 миллиметров
 - D. 60 сантиметров



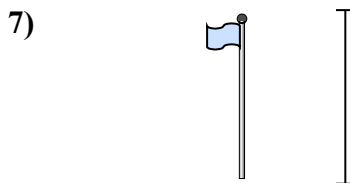
- Велосипед
- A. 10 сантиметров
 - B. 1 метр
 - C. 3 метров
 - D. 25 сантиметров




- Холодильник
- A. 180 сантиметров
 - B. 30 сантиметров
 - C. 5 километров
 - D. 4 метров




- Сушилка для одежды
- A. 60 сантиметров
 - B. 1 метр
 - C. 25 сантиметров
 - D. 15 сантиметров



- Столб для флага
- A. 2 километров
 - B. 9 метров
 - C. 300 сантиметров
 - D. 2 метров



- Теннисный мяч
- A. 3 миллиметров
 - B. 25 сантиметров
 - C. 8 сантиметров
 - D. 60 сантиметров




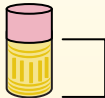
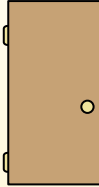

- Комод
- A. 45 сантиметров
 - B. 90 сантиметров
 - C. 3 метров
 - D. 30 сантиметров

- 1. A
- 2. C
- 3. B
- 4. B
- 5. A
- 6. B
- 7. B
- 8. C
- 9. B



Определите, какая буква наилучшим образом отражает длину/ высоту.

ОТВЕТЫ

Milímetro (mm)	Centímetro (cm)	Metro (m)	Kilómetro (km)
Un milímetro equivale al grosor de una tarjeta de crédito.	10 mm = 1 cm. La parte metálica de un lápiz mide aproximadamente 1 cm. Una regla mide unos 30 centímetros.	100 cm = 1 m Desde el suelo hasta la perilla de una puerta hay aproximadamente 1 metro.	1,000 m = 1 km La mayoría de las carreteras principales tienen al menos un kilómetro de largo.
			

1. _____
2. _____
3. _____
4. _____
5. _____
6. _____
7. _____
8. _____
9. _____



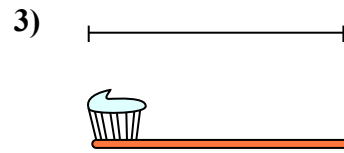
Велосипед

- A. 10 сантиметров
- B. 25 сантиметров
- C. 1 метр
- D. 3 метры




Пылесос

- A. 30 сантиметров
- B. 120 сантиметров
- C. 3 метры
- D. 35 сантиметров




Зубная щетка

- A. 3 метры
- B. 10 сантиметров
- C. 17 сантиметров
- D. 1 метр



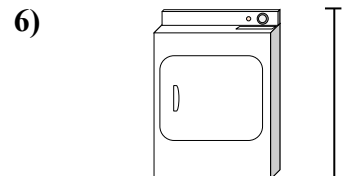
Высота коробки с крупой

- A. 10 сантиметров
- B. 60 сантиметров
- C. 3 сантиметров
- D. 30 сантиметров



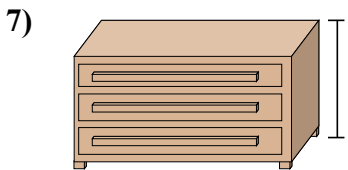
Слон

- A. 2 километров
- B. 150 миллиметры
- C. 45 сантиметров
- D. 4 метры



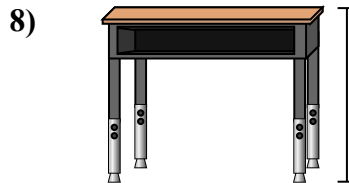
Сушилка для одежды

- A. 15 сантиметров
- B. 60 сантиметров
- C. 25 сантиметров
- D. 1 метр



Комод

- A. 30 сантиметров
- B. 3 метры
- C. 90 сантиметров
- D. 45 сантиметров



Парта

- A. 15 сантиметров
- B. 30 сантиметров
- C. 70 сантиметров
- D. 2 метры




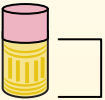
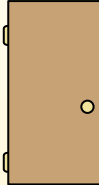

Божья коровка

- A. 30 сантиметров
- B. 10 сантиметров
- C. 5 сантиметров
- D. 7 миллиметры



Определите, какая буква наилучшим образом отражает длину/ высоту.

ОТВЕТЫ

Milímetro (mm)	Centímetro (cm)	Metro (m)	Kilómetro (km)
Un milímetro equivale al grosor de una tarjeta de crédito.	10 mm = 1 cm. La parte metálica de un lápiz mide aproximadamente 1 cm. Una regla mide unos 30 centímetros.	100 cm = 1 m Desde el suelo hasta la perilla de una puerta hay aproximadamente 1 metro.	1,000 m = 1 km La mayoría de las carreteras principales tienen al menos un kilómetro de largo.
			

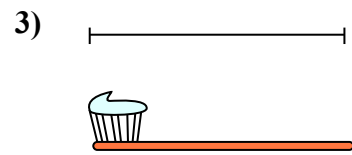
1. C
2. B
3. C
4. D
5. D
6. D
7. C
8. C
9. D



Велосипед
A. 10 сантиметров
B. 25 сантиметров
C. 1 метр
D. 3 метры




Пылесос
A. 30 сантиметров
B. 120 сантиметров
C. 3 метры
D. 35 сантиметров



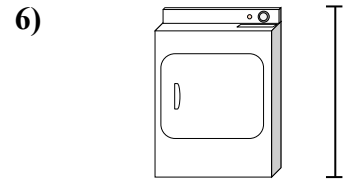
Зубная щетка
A. 3 метры
B. 10 сантиметров
C. 17 сантиметров
D. 1 метр



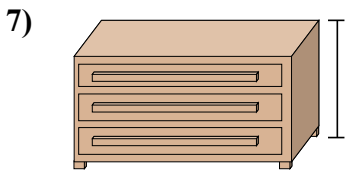
Высота коробки с крупой
A. 10 сантиметров
B. 60 сантиметров
C. 3 сантиметров
D. 30 сантиметров



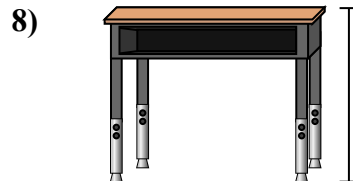
Слон
A. 2 километров
B. 150 миллиметры
C. 45 сантиметров
D. 4 метры



Сушилка для одежды
A. 15 сантиметров
B. 60 сантиметров
C. 25 сантиметров
D. 1 метр



Комод
A. 30 сантиметров
B. 3 метры
C. 90 сантиметров
D. 45 сантиметров



Парта
A. 15 сантиметров
B. 30 сантиметров
C. 70 сантиметров
D. 2 метры



Божья коровка
A. 30 сантиметров
B. 10 сантиметров
C. 5 сантиметров
D. 7 миллиметры



Определите, какая буква наилучшим образом отражает длину/ высоту.

ОТВЕТЫ

Milímetro (mm)

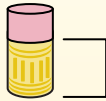
Un milímetro equivale al grosor de una tarjeta de crédito.



Centímetro (cm)

10 mm = 1 cm.

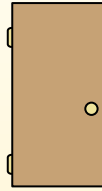
La parte metálica de un lápiz mide aproximadamente 1 cm. Una regla mide unos 30 centímetros.



Metro (m)

100 cm = 1 m

Desde el suelo hasta la perilla de una puerta hay aproximadamente 1 metro.



Kilómetro (km)


1,000 m = 1 km

La mayoría de las carreteras principales tienen al menos un kilómetro de largo.



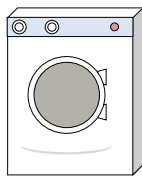
1. _____
2. _____
3. _____
4. _____
5. _____
6. _____
7. _____
8. _____
9. _____

1)





Банка газировки
A. 30 сантиметров
B. 3 сантиметры
C. 1 метр
D. 10 сантиметров

2)



Стиральная машина
A. 1 метр
B. 30 сантиметров
C. 2 метры
D. 10 сантиметров

3)



Леденец
A. 30 миллиметры
B. 30 сантиметров
C. 2 километров
D. 10 сантиметров

4)




Велосипед
A. 25 сантиметров
B. 10 сантиметров
C. 1 метр
D. 3 метры

5)



Лопата
A. 30 сантиметров
B. 60 сантиметров
C. 1 метр
D. 3 метры

6)



Высота мяча для боулинга
A. 25 сантиметров
B. 305 сантиметров
C. 1 метр
D. 10 сантиметров

7)



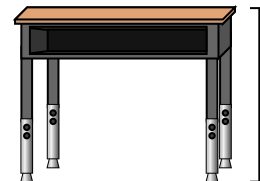
Шкафчик для папок
A. 30 сантиметров
B. 1.5 миллиметры
C. 30 миллиметры
D. 60 сантиметров

8)



Карандаш
A. 30 миллиметры
B. 20 сантиметров
C. 150 сантиметров
D. 1 метр

9)


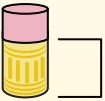
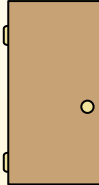



Парта
A. 2 метры
B. 15 сантиметров
C. 30 сантиметров
D. 70 сантиметров



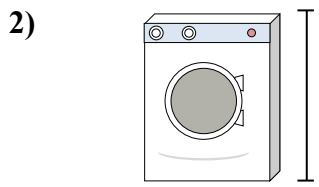
Определите, какая буква наилучшим образом отражает длину/ высоту.

ОТВЕТЫ


Milímetro (mm)	Centímetro (cm)	Metro (m)	Kilómetro (km)
Un milímetro equivale al grosor de una tarjeta de crédito.	10 mm = 1 cm. La parte metálica de un lápiz mide aproximadamente 1 cm. Una regla mide unos 30 centímetros.	100 cm = 1 m Desde el suelo hasta la perilla de una puerta hay aproximadamente 1 metro.	1,000 m = 1 km La mayoría de las carreteras principales tienen al menos un kilómetro de largo.
			



Банка газировки
A. 30 сантиметров
B. 3 сантиметры
C. 1 метр
D. 10 сантиметров




Стиральная машина
A. 1 метр
B. 30 сантиметров
C. 2 метры
D. 10 сантиметров




Леденец
A. 30 миллиметры
B. 30 сантиметров
C. 2 километров
D. 10 сантиметров



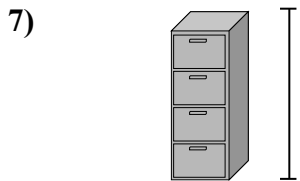
Велосипед
A. 25 сантиметров
B. 10 сантиметров
C. 1 метр
D. 3 метры



Лопата
A. 30 сантиметров
B. 60 сантиметров
C. 1 метр
D. 3 метры



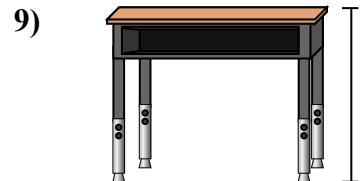
Высота мяча для боулинга
A. 25 сантиметров
B. 305 сантиметров
C. 1 метр
D. 10 сантиметров



Шкафчик для папок
A. 30 сантиметров
B. 1.5 миллиметры
C. 30 миллиметры
D. 60 сантиметров



Карандаш
A. 30 миллиметры
B. 20 сантиметров
C. 150 сантиметров
D. 1 метр



Парта
A. 2 метры
B. 15 сантиметров
C. 30 сантиметров
D. 70 сантиметров

1. D

2. A

3. D

4. C

5. C

6. A

7. B


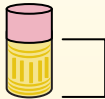
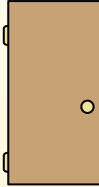

8. B

9. D





Определите, какая буква наилучшим образом отражает длину/ высоту.


ОТВЕТЫ


Milímetro (mm)	Centímetro (cm)	Metro (m)	Kilómetro (km)
Un milímetro equivale al grosor de una tarjeta de crédito.	10 mm = 1 cm. La parte metálica de un lápiz mide aproximadamente 1 cm. Una regla mide unos 30 centímetros.	100 cm = 1 m Desde el suelo hasta la perilla de una puerta hay aproximadamente 1 metro.	1,000 m = 1 km La mayoría de las carreteras principales tienen al menos un kilómetro de largo.
			

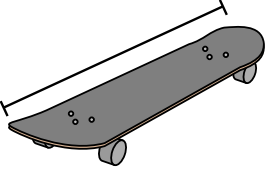
1. _____
2. _____
3. _____
4. _____
5. _____
6. _____
7. _____
8. _____
9. _____


1)  DVD
 A. 10 сантиметров
 B. 1 метр
 C. 30 миллиметров
 D. 30 сантиметров


2)  Гора
 A. 700 миллиметров
 B. 3 километров
 C. 60 сантиметров
 D. 9 метров

3)  Кусочек хлеба
 A. 120 сантиметров
 B. 2 метры
 C. 10 сантиметров
 D. 25 сантиметров


4)  Велосипед
 A. 3 метры
 B. 25 сантиметров
 C. 10 сантиметров
 D. 1 метр

5)  Доска для скейт-борда
 A. 80 сантиметров
 B. 2 метры
 C. 30 сантиметров
 D. 3 сантиметры

6)  Мяч для американского футбола
 A. 1 метр
 B. 25 сантиметров
 C. 3 сантиметры
 D. 60 сантиметров

7)  Скрепка
 A. 3 сантиметры
 B. 60 сантиметров
 C. 10 сантиметров
 D. 30 сантиметров





8)  Стиральная машина
 A. 30 сантиметров
 B. 1 метр
 C. 2 метры
 D. 10 сантиметров

9)  Клеющий карандаш
 A. 10 сантиметров
 B. 30 сантиметров
 C. 25 сантиметров
 D. 6 километров





Определите, какая буква наилучшим образом отражает длину/ высоту.


ОТВЕТЫ

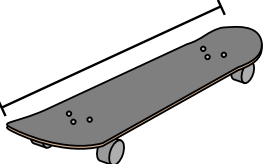
Milímetro (mm)	Centímetro (cm)	Metro (m)	Kilómetro (km)
Un milímetro equivale al grosor de una tarjeta de crédito.	10 mm = 1 cm. La parte metálica de un lápiz mide aproximadamente 1 cm. Una regla mide unos 30 centímetros.	100 cm = 1 m Desde el suelo hasta la perilla de una puerta hay aproximadamente 1 metro.	1,000 m = 1 km La mayoría de las carreteras principales tienen al menos un kilómetro de largo.
			

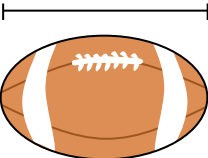
- 1) DVD
A. 10 сантиметров
B. 1 метр
C. 30 миллиметров
D. 30 сантиметров

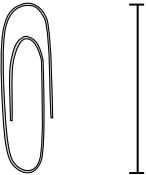
- 2) 
Гора
A. 700 миллиметров
B. 3 километров
C. 60 сантиметров
D. 9 метров

- 3) 
Кусочек хлеба
A. 120 сантиметров
B. 2 метры
C. 10 сантиметров
D. 25 сантиметров


- 4) 
Велосипед
A. 3 метры
B. 25 сантиметров
C. 10 сантиметров
D. 1 метр

- 5) 
Доска для скейт-борда
A. 80 сантиметров
B. 2 метры
C. 30 сантиметров
D. 3 сантиметры

- 6) 
Мяч для американского футбола
A. 1 метр
B. 25 сантиметров
C. 3 сантиметры
D. 60 сантиметров

- 7) 
Скрепка
A. 3 сантиметры
B. 60 сантиметров
C. 10 сантиметров
D. 30 сантиметров

- 8) 
Стиральная машина
A. 30 сантиметры
B. 1 метр
C. 2 метры
D. 10 сантиметры

- 9) 
Клеющий карандаш
A. 10 сантиметры
B. 30 сантиметры
C. 25 сантиметры
D. 6 километров

1. A
2. B
3. C
4. D
5. A
6. B
7. A
8. B
9. A