



Решите каждую задачу.

ОТВЕТЫ

1) ? потратил \$16,71 на конфеты в торговом центре. Он дал кассиру банкнота в двадцать долларов. Сколько сдачи он должен получить обратно?




1. _____

2. _____

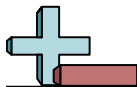
3. _____

2) ? закупил продуктов на \$8,64. Он дал кассиру десятидолларовая купюра. Сколько сдачи он должен получить обратно?



3) ? потратил \$7,33 на покупку новых игрушек. Он купил их на банкнота в двадцать долларов. Сколько сдачи он должен получить обратно?





Решите каждую задачу.

ОТВЕТЫ

1) ? потратил \$16,71 на конфеты в торговом центре. Он дал кассиру банкнота в двадцать долларов. Сколько сдачи он должен получить обратно?




1. A

2. C

3. A

2) ? закупил продуктов на \$8,64. Он дал кассиру десятидолларовая купюра. Сколько сдачи он должен получить обратно?



3) ? потратил \$7,33 на покупку новых игрушек. Он купил их на банкнота в двадцать долларов. Сколько сдачи он должен получить обратно?

