




Подсчитайте количество четвертей (25), десятицентовиков (10), пятак (5) и пенсов (1).

ОТВЕТЫ

об) 

1) 

2) 


3) 


4) 

5) 

6) 

7) 

8) 

9) 

10) 

| | | | | |
|-----|----------|----------|----------|----------|
| об. | <u>2</u> | <u>2</u> | <u>3</u> | <u>2</u> |
| 1. | _____ | _____ | _____ | _____ |
| 2. | _____ | _____ | _____ | _____ |
| 3. | _____ | _____ | _____ | _____ |
| 4. | _____ | _____ | _____ | _____ |
| 5. | _____ | _____ | _____ | _____ |
| 6. | _____ | _____ | _____ | _____ |
| 7. | _____ | _____ | _____ | _____ |
| 8. | _____ | _____ | _____ | _____ |
| 9. | _____ | _____ | _____ | _____ |
| 10. | _____ | _____ | _____ | _____ |



Подсчитайте количество четвертей (25), десятицентовиков (10), пятак (5) и пенсов (1).


об) 

1) 


2) 

3) 

4) 


5) 

6) 

7) 

8) 

9) 

10) 

ОТВЕТЫ

| | | | | |
|-----|----------|----------|----------|----------|
| об. | <u>2</u> | <u>2</u> | <u>3</u> | <u>2</u> |
| 1. | <u>2</u> | <u>2</u> | <u>3</u> | <u>2</u> |
| 2. | <u>3</u> | <u>3</u> | <u>2</u> | <u>1</u> |
| 3. | <u>2</u> | <u>2</u> | <u>2</u> | <u>3</u> |
| 4. | <u>3</u> | <u>4</u> | <u>1</u> | <u>1</u> |
| 5. | <u>4</u> | <u>2</u> | <u>1</u> | <u>2</u> |
| 6. | <u>1</u> | <u>2</u> | <u>3</u> | <u>3</u> |
| 7. | <u>2</u> | <u>3</u> | <u>1</u> | <u>3</u> |
| 8. | <u>2</u> | <u>2</u> | <u>3</u> | <u>2</u> |
| 9. | <u>2</u> | <u>2</u> | <u>2</u> | <u>3</u> |
| 10. | <u>2</u> | <u>2</u> | <u>2</u> | <u>3</u> |