



Определите, какой вариант лучше всего описывает монеты в указанном порядке.

Ответы


1)



- A. никель , копейка, четверть , пенни
- B. пенни , копейка, четверть , никель
- C. никель , четверть , пенни , копейка
- D. никель , четверть , копейка, пенни

1. _____

2)




- A. четверть , никель , пенни , копейка
- B. копейка, никель , четверть , пенни
- C. пенни , никель , четверть , копейка
- D. никель , пенни , четверть , копейка

2. _____

3. _____

3)



- A. пенни , копейка, никель , четверть
- B. четверть , копейка, никель , пенни
- C. четверть , пенни , никель , копейка
- D. пенни , четверть , никель , копейка

4. _____

5. _____

6. _____

7. _____


8. _____

4)




- A. четверть , пенни , копейка, никель
- B. пенни , никель , четверть , копейка
- C. четверть , пенни , никель , копейка
- D. никель , пенни , копейка, четверть

5)



- A. пенни , копейка, никель , четверть
- B. копейка, четверть , никель , пенни
- C. четверть , копейка, пенни , никель
- D. пенни , четверть , копейка, никель

6)



- A. копейка, пенни , четверть , никель
- B. копейка, четверть , никель , пенни
- C. пенни , никель , четверть , копейка



Определите, какой вариант лучше всего описывает монеты в указанном порядке.

ОТВЕТЫ

1)



- A. никель , копейка, четверть , пенни
- B. пенни , копейка, четверть , никель
- C. никель , четверть , пенни , копейка
- D. никель , четверть , копейка, пенни

1. **C**

2)



- A. четверть , никель , пенни , копейка
- B. копейка, никель , четверть , пенни
- C. пенни , никель , четверть , копейка
- D. никель , пенни , четверть , копейка

2. **D**

3. **C**

3)



- A. пенни , копейка, никель , четверть
- B. четверть , копейка, никель , пенни
- C. четверть , пенни , никель , копейка
- D. пенни , четверть , никель , копейка

4. **B**

5. **C**

6. **D**

7. **B**

8. **A**

4)




- A. четверть , пенни , копейка, никель
- B. пенни , никель , четверть , копейка
- C. четверть , пенни , никель , копейка
- D. никель , пенни , копейка, четверть

5)



- A. пенни , копейка, никель , четверть
- B. копейка, четверть , никель , пенни
- C. четверть , копейка, пенни , никель
- D. пенни , четверть , копейка, никель

6)



- A. копейка, пенни , четверть , никель
- B. копейка, четверть , никель , пенни
- C. пенни , никель , четверть , копейка