

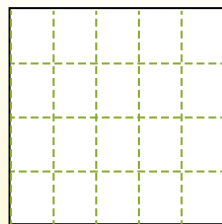
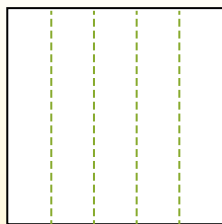
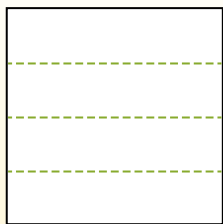


Разделите фигуры, как показано, и сосчитайте количество частей.


Las filas van de izquierda a derecha.

Las columnas van de arriba a abajo.


Aqui tem 4 linhas e 5 colunas .
Existem 20 caixas no total.




1) 3 ряда(ов)
2 колонки(ок)




2) 4 ряда(ов)
2 колонки(ок)




3) 2 ряда(ов)
3 колонки(ок)




4) 5 ряда(ов)
4 колонки(ок)




5) 5 ряда(ов)
2 колонки(ок)




6) 2 ряда(ов)
2 колонки(ок)




7) 3 ряда(ов)
4 колонки(ок)



8) 5 ряда(ов)
5 колонки(ок)



9) 4 ряда(ов)
3 колонки(ок)



Ответы

- 1. _____
- 2. _____
- 3. _____
- 4. _____
- 5. _____
- 6. _____
- 7. _____
- 8. _____
- 9. _____

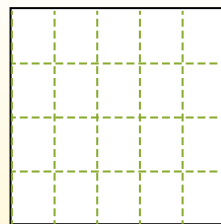
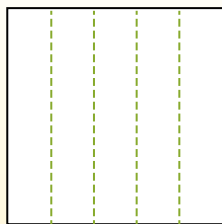
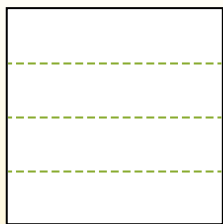


Разделите фигуры, как показано, и сосчитайте количество частей.

Las filas van de izquierda a derecha.

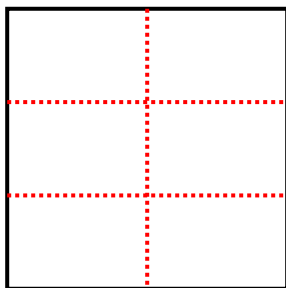
Las columnas van de arriba a abajo.

Aqui tem 4 linhas e 5 colunas. Existem 20 caixas no total.



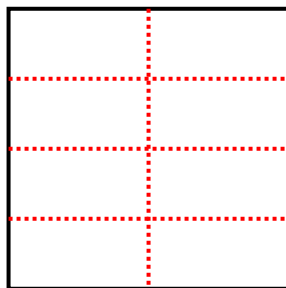
1) 3 ряда(ов)

2 колонки(ок)



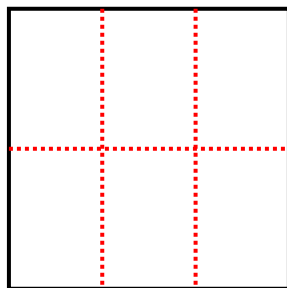
2) 4 ряда(ов)

2 колонки(ок)




3) 2 ряда(ов)

3 колонки(ок)



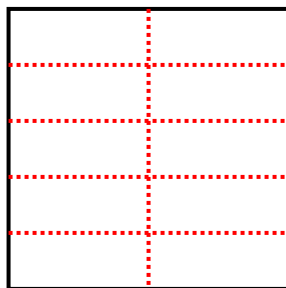
4) 5 ряда(ов)

4 колонки(ок)



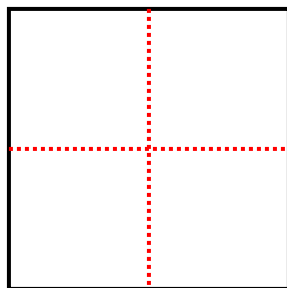
5) 5 ряда(ов)

2 колонки(ок)



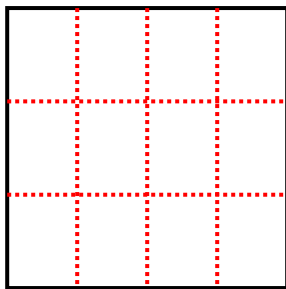
6) 2 ряда(ов)

2 колонки(ок)



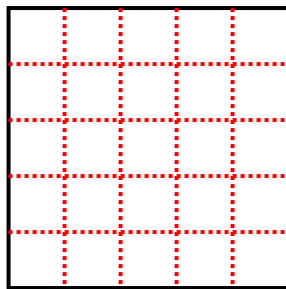
7) 3 ряда(ов)

4 колонки(ок)



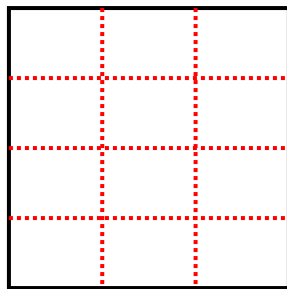
8) 5 ряда(ов)

5 колонки(ок)



9) 4 ряда(ов)

3 колонки(ок)



Ответы

1. 6

2. 8

3. 6

4. 20

5. 10

6. 4

7. 12

8. 25

9. 12