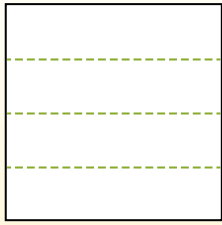


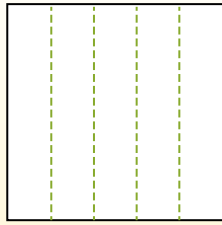


Разделите фигуры, как показано, и сосчитайте количество частей.

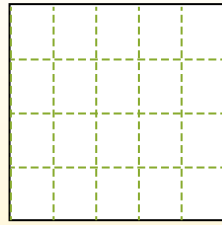
Las filas van de izquierda a derecha.




Las columnas van de arriba a abajo.



Aqui tem 4 linhas e 5 colunas .  
Existem 20 caixas no total.




1) 5 ряда(ов)  
2 колонки(ок)




2) 3 ряда(ов)  
3 колонки(ок)



3) 2 ряда(ов)  
3 колонки(ок)




4) 3 ряда(ов)  
4 колонки(ок)




5) 2 ряда(ов)  
2 колонки(ок)




6) 5 ряда(ов)  
4 колонки(ок)




7) 3 ряда(ов)  
2 колонки(ок)



8) 5 ряда(ов)  
3 колонки(ок)



9) 2 ряда(ов)  
5 колонки(ок)



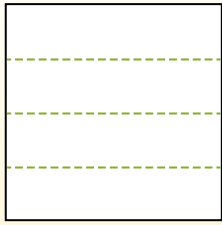
Ответы

- 1. \_\_\_\_\_
- 2. \_\_\_\_\_
- 3. \_\_\_\_\_
- 4. \_\_\_\_\_
- 5. \_\_\_\_\_
- 6. \_\_\_\_\_
- 7. \_\_\_\_\_
- 8. \_\_\_\_\_
- 9. \_\_\_\_\_

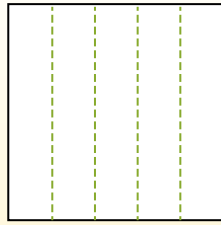


Разделите фигуры, как показано, и сосчитайте количество частей.

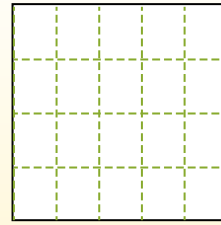
Las filas van de izquierda a derecha.



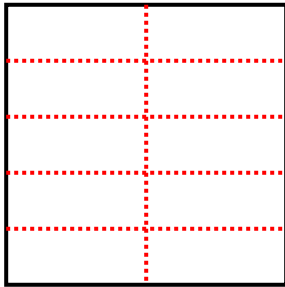
Las columnas van de arriba a abajo.



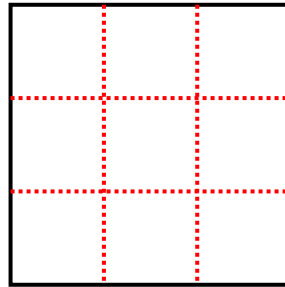
Aqui tem 4 linhas e 5 colunas. Existem 20 caixas no total.



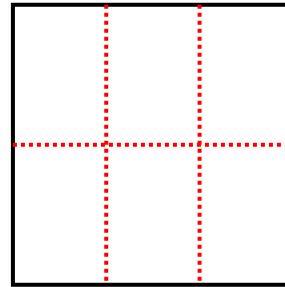
1) 5 ряда(ов)  
2 колонки(ок)



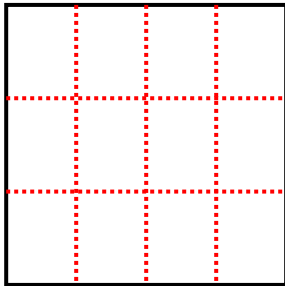
2) 3 ряда(ов)  
3 колонки(ок)



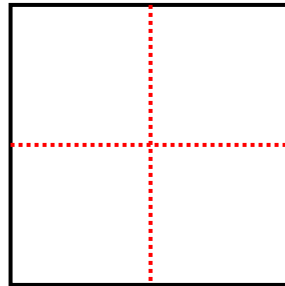
3) 2 ряда(ов)  
3 колонки(ок)



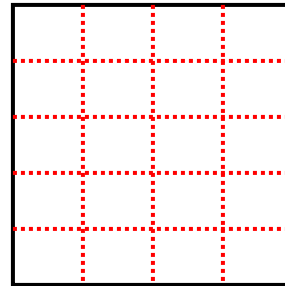
4) 3 ряда(ов)  
4 колонки(ок)



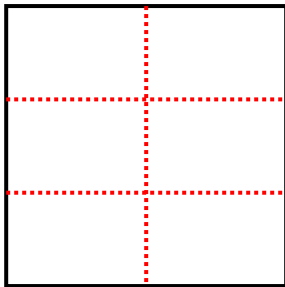
5) 2 ряда(ов)  
2 колонки(ок)



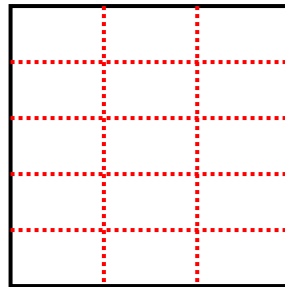
6) 5 ряда(ов)  
4 колонки(ок)



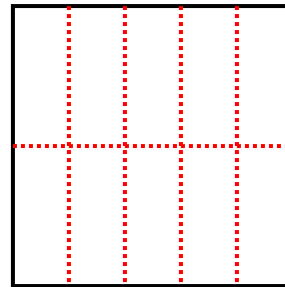
7) 3 ряда(ов)  
2 колонки(ок)



8) 5 ряда(ов)  
3 колонки(ок)



9) 2 ряда(ов)  
5 колонки(ок)



**Ответы**

1. 10

2. 9

3. 6

4. 12

5. 4

6. 20

7. 6

8. 15

9. 10