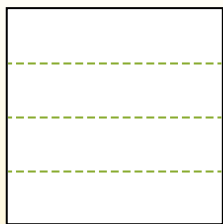


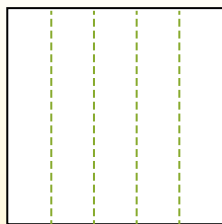


Разделите фигуры, как показано, и сосчитайте количество частей.

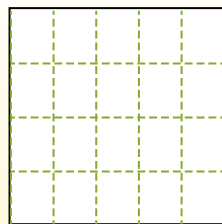
Las filas van de izquierda a derecha.




Las columnas van de arriba a abajo.




Aqui tem 4 linhas e 5 colunas .
Existem 20 caixas no total.




1) 3 ряда(ов)
3 колонки(ок)




2) 2 ряда(ов)
3 колонки(ок)




3) 4 ряда(ов)
3 колонки(ок)




4) 5 ряда(ов)
4 колонки(ок)




5) 2 ряда(ов)
5 колонки(ок)




6) 3 ряда(ов)
2 колонки(ок)




7) 2 ряда(ов)
4 колонки(ок)



8) 4 ряда(ов)
4 колонки(ок)



9) 5 ряда(ов)
3 колонки(ок)



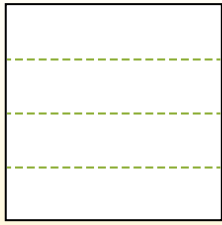
Отвeты

- 1. _____
- 2. _____
- 3. _____
- 4. _____
- 5. _____
- 6. _____
- 7. _____
- 8. _____
- 9. _____

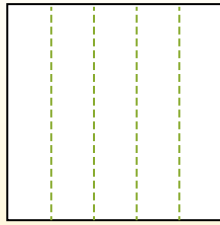


Разделите фигуры, как показано, и сосчитайте количество частей.

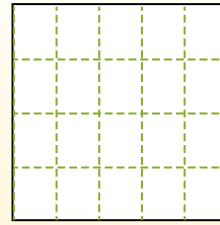
Las filas van de izquierda a derecha.



Las columnas van de arriba a abajo.

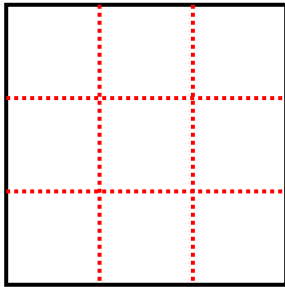


Aqui tem 4 linhas e 5 colunas. Existem 20 caixas no total.



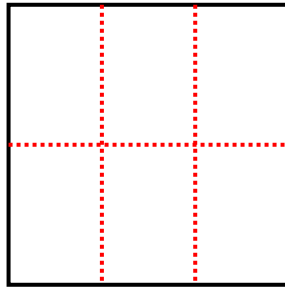
1) 3 ряда(ов)

3 колонки(ок)



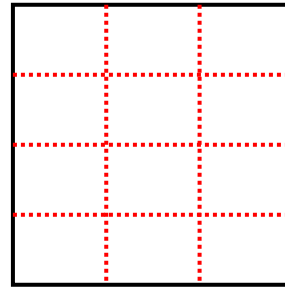
2) 2 ряда(ов)

3 колонки(ок)



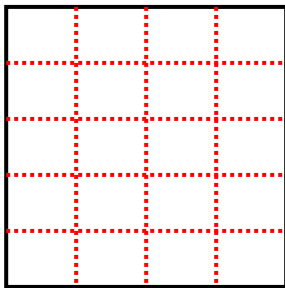
3) 4 ряда(ов)

3 колонки(ок)



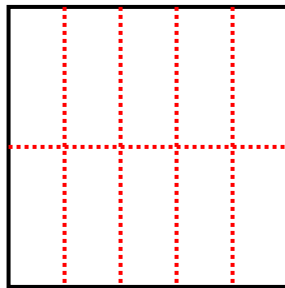
4) 5 ряда(ов)

4 колонки(ок)



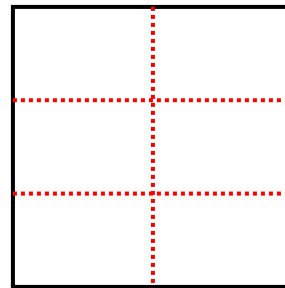
5) 2 ряда(ов)

5 колонки(ок)



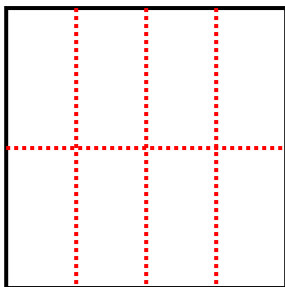
6) 3 ряда(ов)

2 колонки(ок)



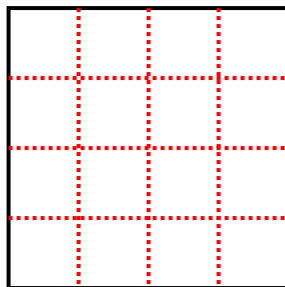
7) 2 ряда(ов)

4 колонки(ок)



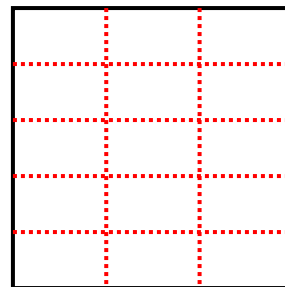
8) 4 ряда(ов)

4 колонки(ок)



9) 5 ряда(ов)

3 колонки(ок)



Ответы

1. 9

2. 6

3. 12

4. 20

5. 10

6. 6

7. 8

8. 16

9. 15