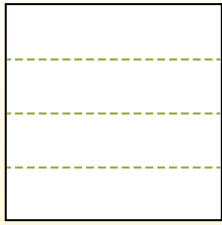


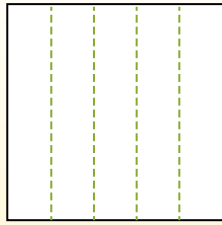


Разделите фигуры, как показано, и сосчитайте количество частей.

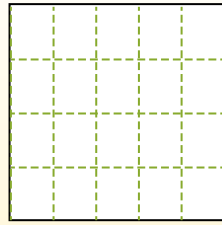
Las filas van de izquierda a derecha.




Las columnas van de arriba a abajo.



Aqui tem 4 linhas e 5 colunas .  
Existem 20 caixas no total.




1) 3 ряда(ов)  
4 колонки(ок)




2) 3 ряда(ов)  
5 колонки(ок)



3) 2 ряда(ов)  
3 колонки(ок)




4) 3 ряда(ов)  
3 колонки(ок)




5) 5 ряда(ов)  
2 колонки(ок)




6) 4 ряда(ов)  
2 колонки(ок)




7) 2 ряда(ов)  
4 колонки(ок)



8) 4 ряда(ов)  
3 колонки(ок)



9) 5 ряда(ов)  
3 колонки(ок)



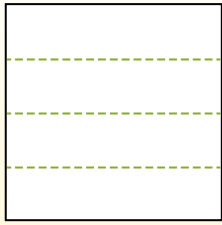
**Отвeты**

- 1. \_\_\_\_\_
- 2. \_\_\_\_\_
- 3. \_\_\_\_\_
- 4. \_\_\_\_\_
- 5. \_\_\_\_\_
- 6. \_\_\_\_\_
- 7. \_\_\_\_\_
- 8. \_\_\_\_\_
- 9. \_\_\_\_\_

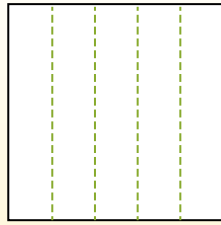


Разделите фигуры, как показано, и сосчитайте количество частей.

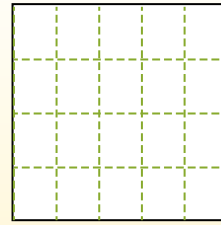
Las filas van de izquierda a derecha.



Las columnas van de arriba a abajo.

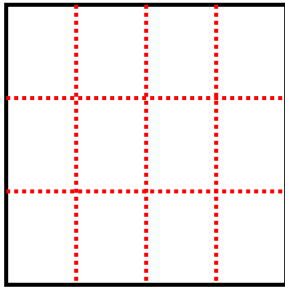


Aqui tem 4 linhas e 5 colunas. Existem 20 caixas no total.



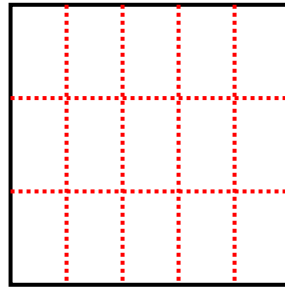
1) 3 ряда(ов)

4 колонки(ок)



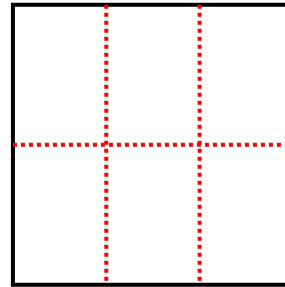
2) 3 ряда(ов)

5 колонки(ок)



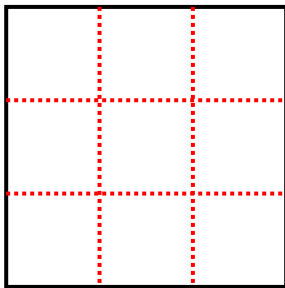
3) 2 ряда(ов)

3 колонки(ок)



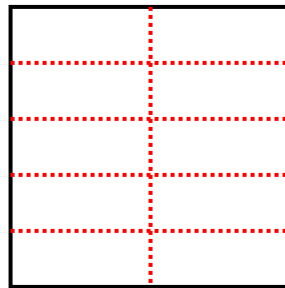
4) 3 ряда(ов)

3 колонки(ок)



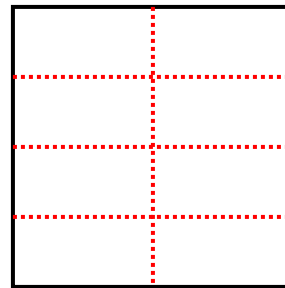
5) 5 ряда(ов)

2 колонки(ок)



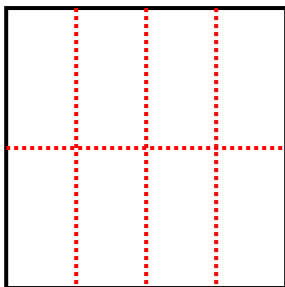
6) 4 ряда(ов)

2 колонки(ок)



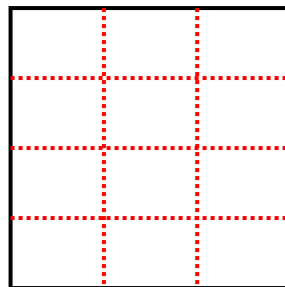
7) 2 ряда(ов)

4 колонки(ок)



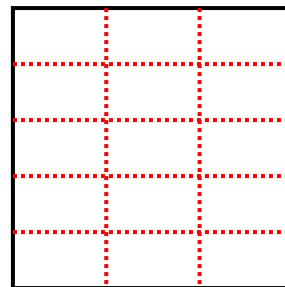
8) 4 ряда(ов)

3 колонки(ок)



9) 5 ряда(ов)

3 колонки(ок)



**Отвeты**

1. 12

2. 15

3. 6

4. 9

5. 10

6. 8

7. 8

8. 12

9. 15