


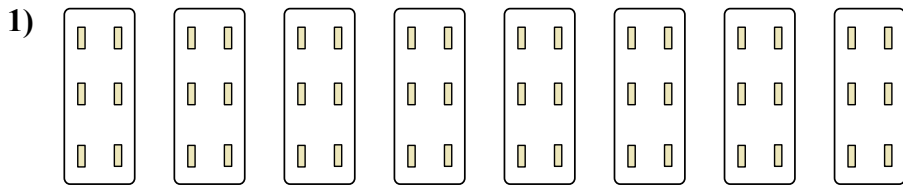


Определите, как нужно изобразить численно данные задачи.

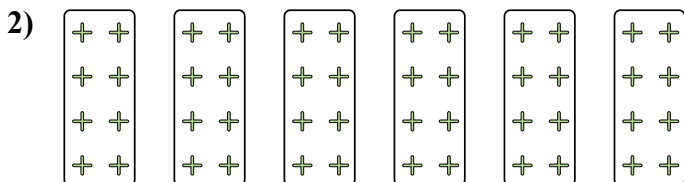
ОТВЕТЫ




об. $7 \times 7 = 49$



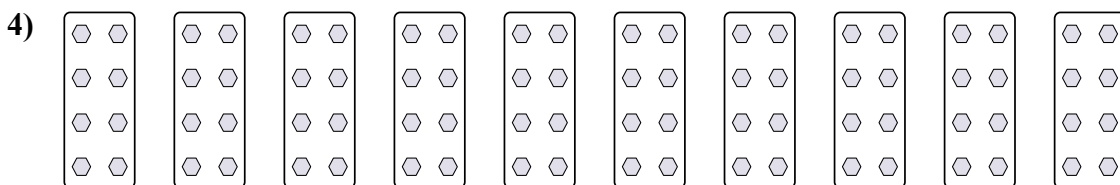
1. _____



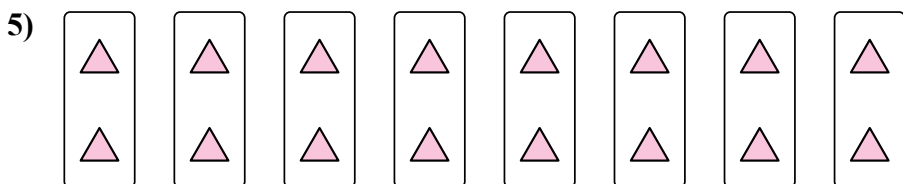
2. _____



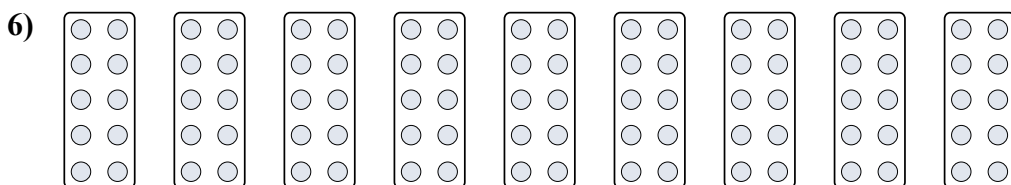
3. _____



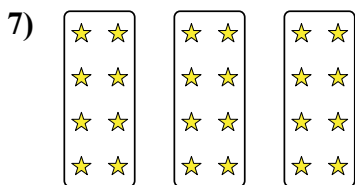
4. _____



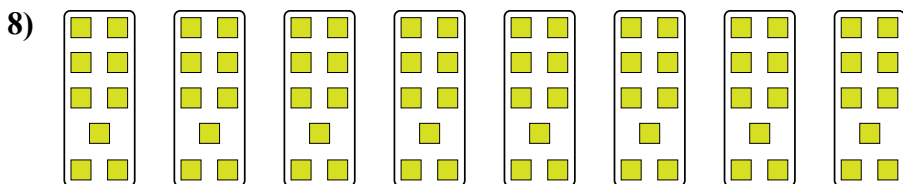
5. _____



6. _____



7. _____



8. _____



Определите, как нужно изобразить численно данные задачи.

об)

1)

2)

3)

4)

5)

6)

7)

8)

ОТВЕТЫ

- об. 7×7=49
- 1. 8×6=48
- 2. 6×8=48
- 3. 5×2=10
- 4. 10×8=80
- 5. 8×2=16
- 6. 9×10=90
- 7. 3×8=24
- 8. 8×9=72