




Определите, как нужно изобразить численно данные задачи.

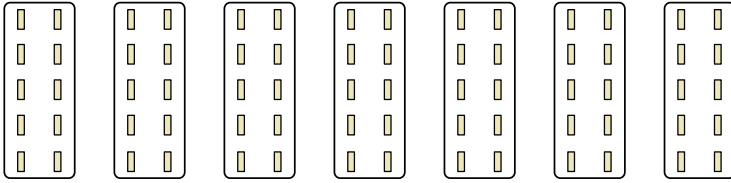
Ответы

об)



об. $6 \times 7 = 42$

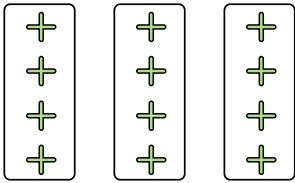
1)



1. _____

2. _____

2)




3. _____

4. _____

5. _____

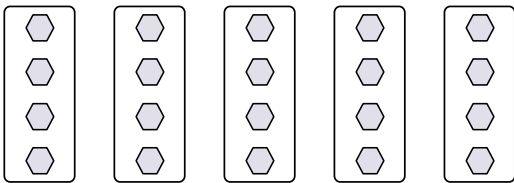
3)



6. _____

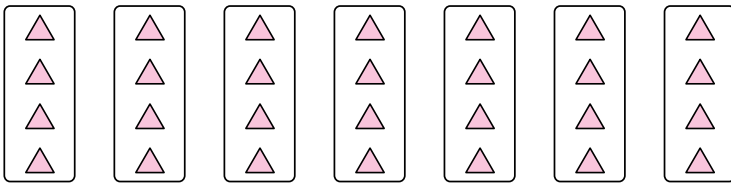
7. _____

4)

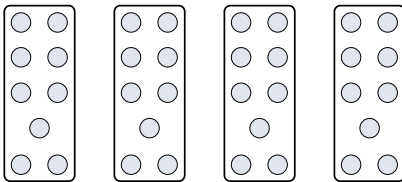


8. _____


5)



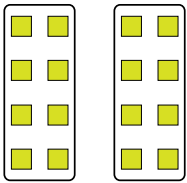
6)



7)



8)





Определите, как нужно изобразить численно данные задачи.

об)

1)

2)

3)

4)

5)

6)

7)

8)

Ответы

- об. $6 \times 7 = 42$
1. $7 \times 10 = 70$
2. $3 \times 4 = 12$
3. $3 \times 7 = 21$
4. $5 \times 4 = 20$
5. $7 \times 4 = 28$
6. $4 \times 9 = 36$
7. $4 \times 10 = 40$
8. $2 \times 8 = 16$