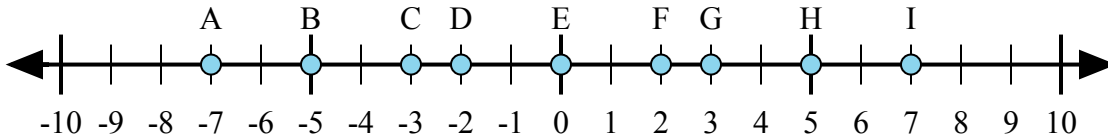




Определите какой ответ отражает ответ каждой задачи на числовой прямой.

Ответы



1) $2 + (-5) =$

2) $(-5) + (-2) =$

3) $(-5) + 2 =$

4) $5 + (-2) =$

5) $(-2) + 5 =$

1. _____

2. _____

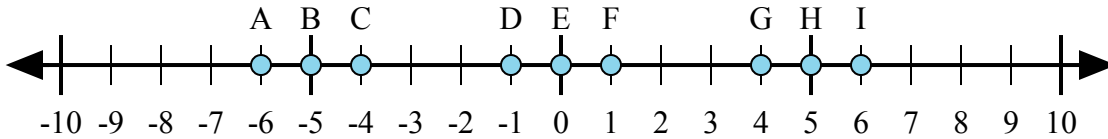
3. _____

4. _____

5. _____

6. _____

7. _____



6) $1 + 5 =$

7) $(-1) + 5 =$

8) $5 + (-1) =$

9) $(-1) + (-5) =$

10) $(-5) + 1 =$

8. _____

9. _____

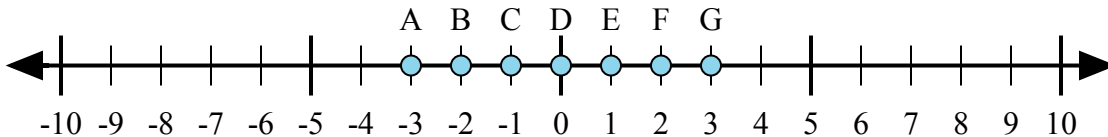
10. _____

11. _____

12. _____

13. _____

14. _____



11) $(-1) + 2 =$

12) $1 + (-2) =$

13) $2 + 1 =$

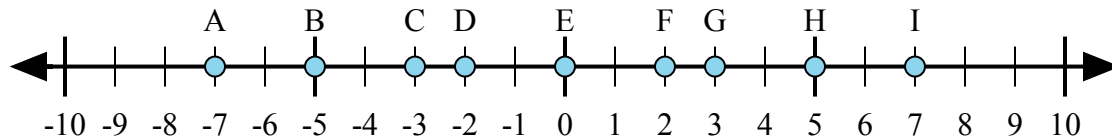
14) $2 + (-1) =$

15) $(-2) + 1 =$

15. _____



Определите какой ответ отражает ответ каждой задачи на числовой прямой.



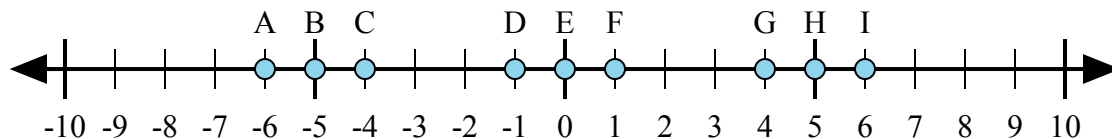
1) $2 + (-5) =$

2) $(-5) + (-2) =$

3) $(-5) + 2 =$

4) $5 + (-2) =$

5) $(-2) + 5 =$



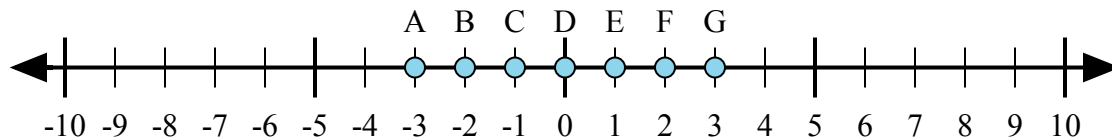
6) $1 + 5 =$

7) $(-1) + 5 =$

8) $5 + (-1) =$

9) $(-1) + (-5) =$

10) $(-5) + 1 =$



11) $(-1) + 2 =$

12) $1 + (-2) =$

13) $2 + 1 =$

14) $2 + (-1) =$

15) $(-2) + 1 =$

ОТВЕТЫ

1. **C**

2. **A**

3. **C**

4. **G**

5. **G**

6. **I**

7. **G**

8. **G**

9. **A**

10. **C**

11. **E**

12. **C**

13. **G**

14. **E**

15. **C**