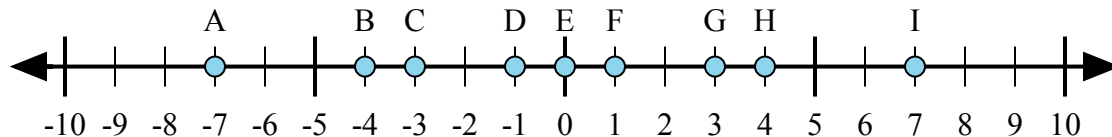




Определите какой ответ отражает ответ каждой задачи на числовой прямой.

Ответы



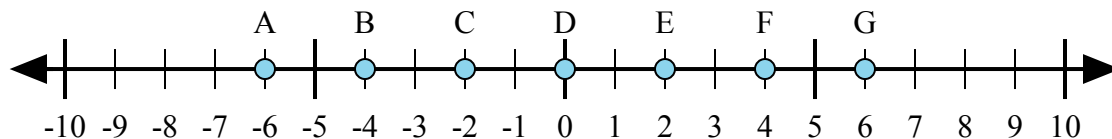
1) $3 + (-4) =$

2) $(-4) + (-3) =$

3) $(-3) + 4 =$

4) $4 + (-3) =$

5) $(-4) + 3 =$



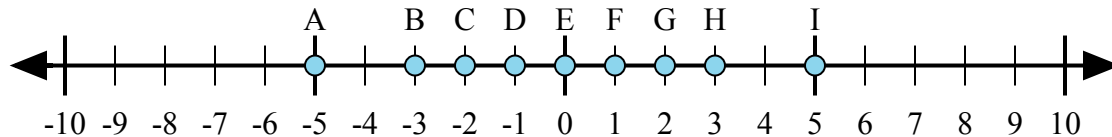
6) $4 + 2 =$

7) $(-2) + 4 =$

8) $(-4) + (-2) =$

9) $(-4) + 2 =$

10) $4 + (-2) =$



11) $2 + (-3) =$

12) $2 + 3 =$

13) $(-3) + 2 =$

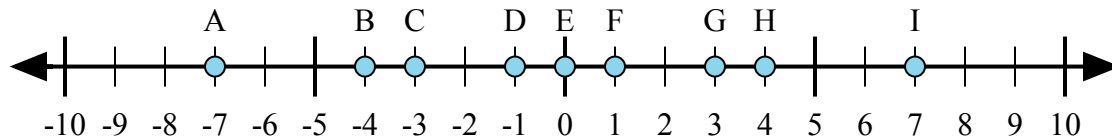
14) $3 + (-2) =$

15) $(-2) + (-3) =$

1. _____
2. _____
3. _____
4. _____
5. _____
6. _____
7. _____
8. _____
9. _____
10. _____
11. _____
12. _____
13. _____
14. _____
15. _____



Определите какой ответ отражает ответ каждой задачи на числовой прямой.



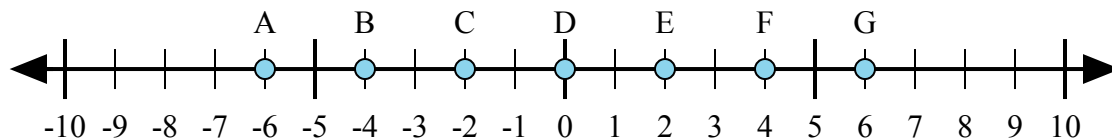
1) $3 + (-4) =$

2) $(-4) + (-3) =$

3) $(-3) + 4 =$

4) $4 + (-3) =$

5) $(-4) + 3 =$



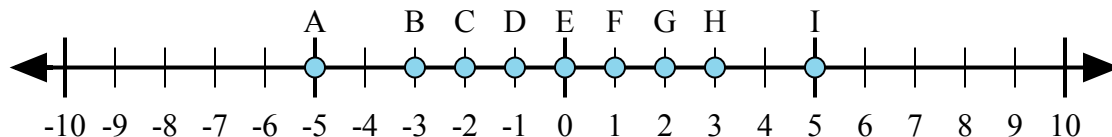
6) $4 + 2 =$

7) $(-2) + 4 =$

8) $(-4) + (-2) =$

9) $(-4) + 2 =$

10) $4 + (-2) =$



11) $2 + (-3) =$

12) $2 + 3 =$

13) $(-3) + 2 =$

14) $3 + (-2) =$

15) $(-2) + (-3) =$

ОТВЕТЫ

1. **D**

2. **A**

3. **F**

4. **F**

5. **D**

6. **G**

7. **E**

8. **A**

9. **C**

10. **E**

11. **D**

12. **I**

13. **D**

14. **F**

15. **A**