





Решите каждую задачу.

**ОТВЕТЫ**1) Какая буква отражает значение  $-37$ 


1. \_\_\_\_\_

2) Какая буква отражает значение  $-113$ 


2. \_\_\_\_\_

3) Какая буква отражает значение  $-97$ 

3. \_\_\_\_\_

4) Какая буква отражает значение  $-80$ 


4. \_\_\_\_\_

5) Какая буква отражает значение  $-40$ 

5. \_\_\_\_\_

6) Какая буква отражает значение  $-101$ 


6. \_\_\_\_\_

7) Какая буква отражает значение  $-22$ 


7. \_\_\_\_\_

8) Какая буква отражает значение  $-105$ 

8. \_\_\_\_\_

9) Какая буква отражает значение  $-115$ 

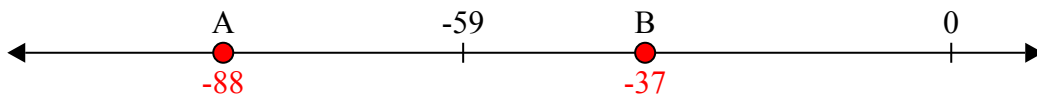
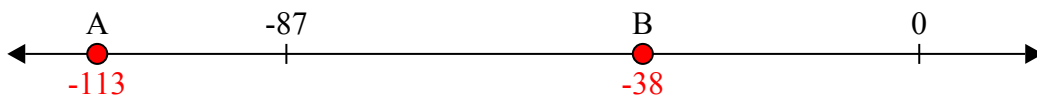
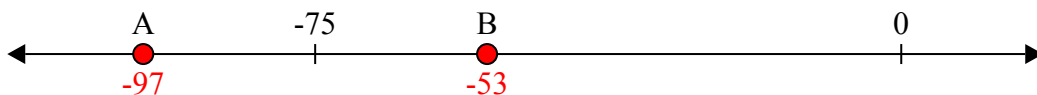





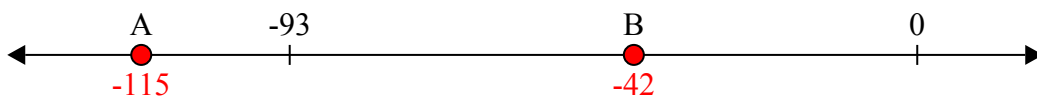
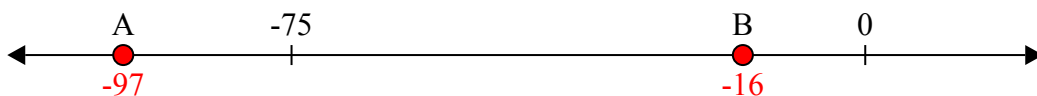
9. \_\_\_\_\_

10) Какая буква отражает значение  $-97$ 

10. \_\_\_\_\_



Решите каждую задачу.

**ОТВЕТЫ**1) Какая буква отражает значение  $-37$ 1. В2) Какая буква отражает значение  $-113$ 2. А3) Какая буква отражает значение  $-97$ 3. А4) Какая буква отражает значение  $-80$ 4. А5) Какая буква отражает значение  $-40$ 5. В6) Какая буква отражает значение  $-101$ 6. А7) Какая буква отражает значение  $-22$ 7. В8) Какая буква отражает значение  $-105$ 8. А9) Какая буква отражает значение  $-115$ 9. А10) Какая буква отражает значение  $-97$ 10. А