




Решите каждую задачу.


**ОТВЕТЫ**

- 1) Какая буква отражает значение -98




1. \_\_\_\_\_

- 2) Какая буква отражает значение -39




2. \_\_\_\_\_

- 3) Какая буква отражает значение -20



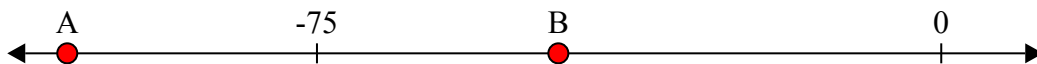
3. \_\_\_\_\_

- 4) Какая буква отражает значение -11



4. \_\_\_\_\_

- 5) Какая буква отражает значение -105




5. \_\_\_\_\_

- 6) Какая буква отражает значение -106




6. \_\_\_\_\_

- 7) Какая буква отражает значение -12




7. \_\_\_\_\_

- 8) Какая буква отражает значение -111




8. \_\_\_\_\_

- 9) Какая буква отражает значение -12



9. \_\_\_\_\_

- 10) Какая буква отражает значение -28




10. \_\_\_\_\_



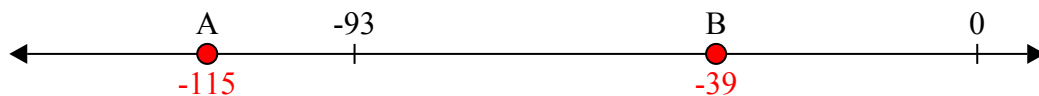
Решите каждую задачу.

**ОТВЕТЫ**

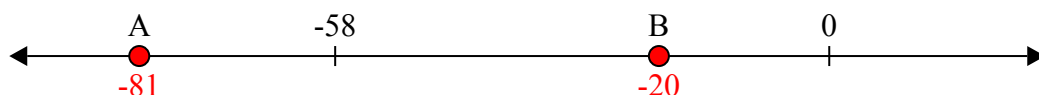
- 1) Какая буква отражает значение -98

1.   **A**  


- 2) Какая буква отражает значение -39

2.   **B**  

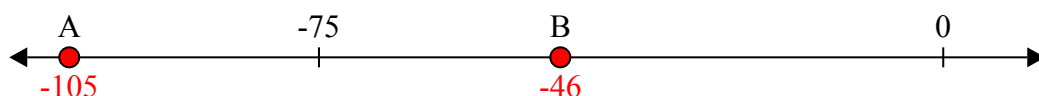
- 3) Какая буква отражает значение -20

3.   **B**  

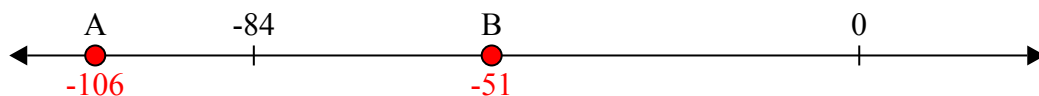
- 4) Какая буква отражает значение -11

4.   **B**  


- 5) Какая буква отражает значение -105

5.   **A**  


- 6) Какая буква отражает значение -106

6.   **A**  

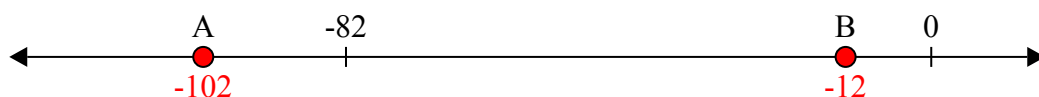
- 7) Какая буква отражает значение -12

7.   **B**  

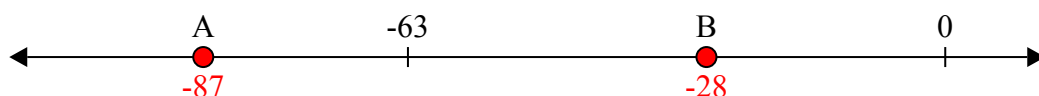
- 8) Какая буква отражает значение -111

8.   **A**  

- 9) Какая буква отражает значение -12

9.   **B**  

- 10) Какая буква отражает значение -28

10.   **B**