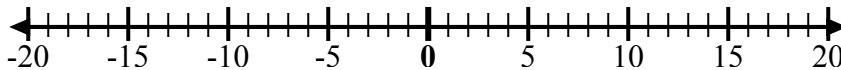


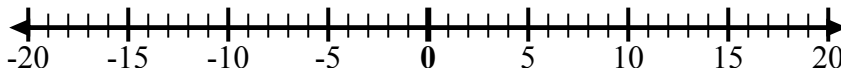


Используйте числовые линии, чтобы показать каждое выражение и решить.

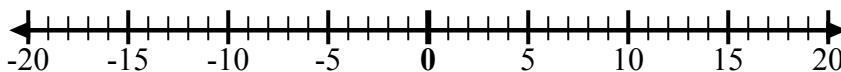
об) Начните с -8
и добавьте
18



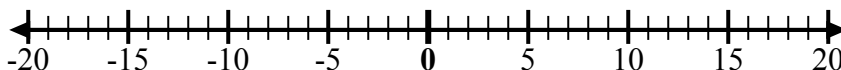
1) Начните с -6
и добавьте 3



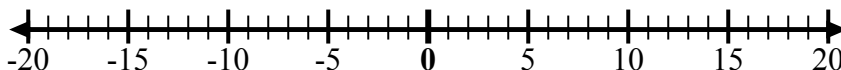
2) Начните с -4
и добавьте -6



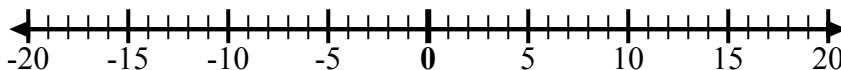
3) Начните с -1
и добавьте -8



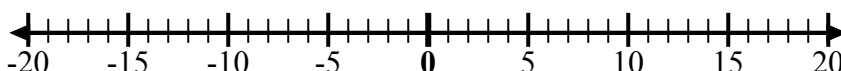
4) Начните с -4
и добавьте -3



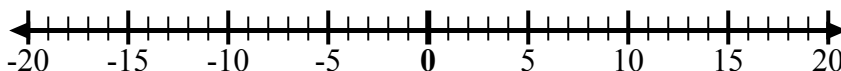
5) Начните с 0
и добавьте
-10



6) Начните с -7
и добавьте
12



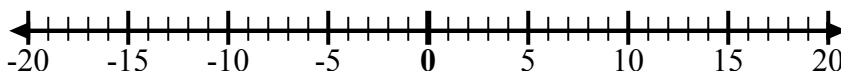
7) Начните с 2
и добавьте
-10



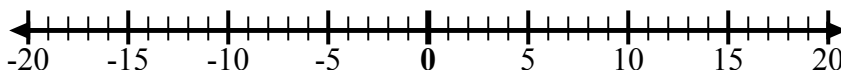
8) Начните с -6
и добавьте -2



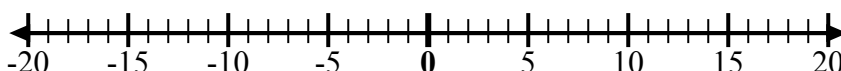
9) Начните с 1
и добавьте
-10



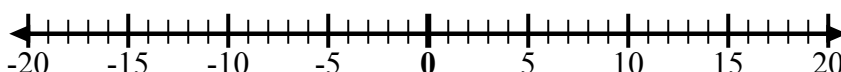
10) Начните с 3
и добавьте
-10



11) Начните с -4
и добавьте -2



12) Начните с
-10 и
добавьте 6



ОТВЕТЫ

об. $-8 + 18 = 10$

1. _____

2. _____

3. _____

4. _____

5. _____

6. _____

7. _____

8. _____

9. _____

10. _____

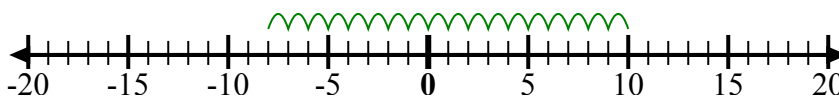
11. _____

12. _____

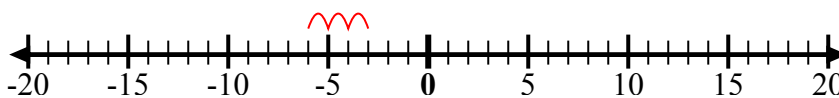


Используйте числовые линии, чтобы показать каждое выражение и решить.

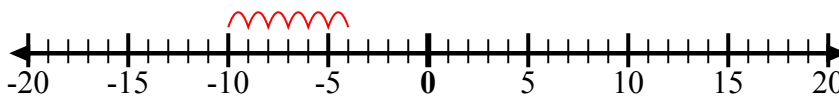
об) Начните с -8
и добавьте
18



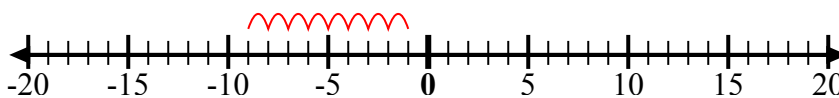
1) Начните с -6
и добавьте 3



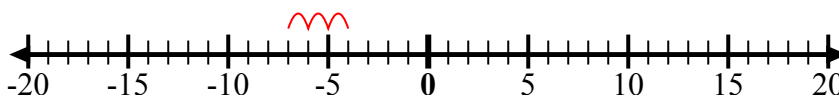
2) Начните с -4
и добавьте -6



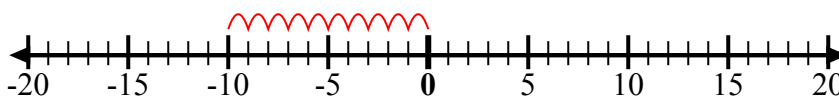
3) Начните с -1
и добавьте -8



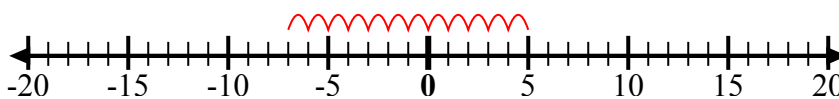
4) Начните с -4
и добавьте -3



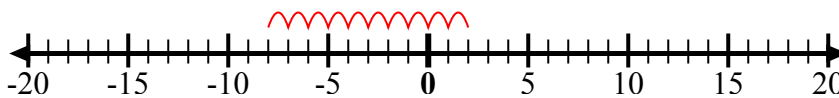
5) Начните с 0
и добавьте
-10



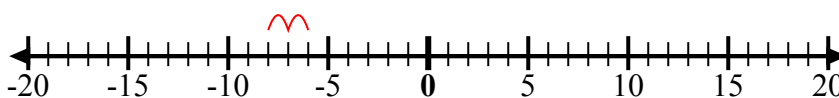
6) Начните с -7
и добавьте
12



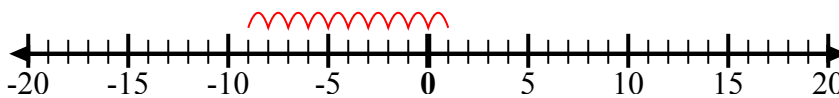
7) Начните с 2
и добавьте
-10



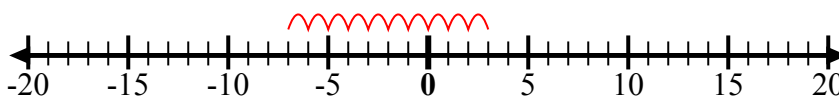
8) Начните с -6
и добавьте -2



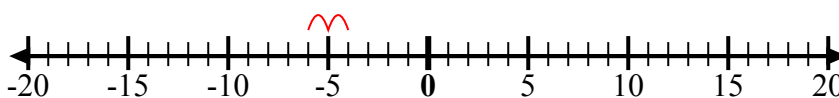
9) Начните с 1
и добавьте
-10



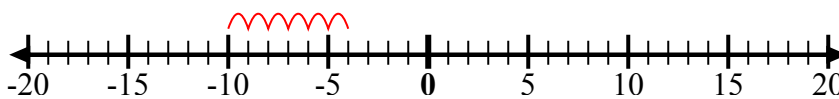
10) Начните с 3
и добавьте
-10



11) Начните с -4
и добавьте -2



12) Начните с
-10 и
добавьте 6



ОТВЕТЫ

об. $-8 + 18 = 10$

1. $-6 + 3 = -3$

2. $-4 + -6 = -10$

3. $-1 + -8 = -9$

4. $-4 + -3 = -7$

5. $0 + -10 = -10$

6. $-7 + 12 = 5$

7. $2 + -10 = -8$

8. $-6 + -2 = -8$

9. $1 + -10 = -9$

10. $3 + -10 = -7$

11. $-4 + -2 = -6$

12. $-10 + 6 = -4$