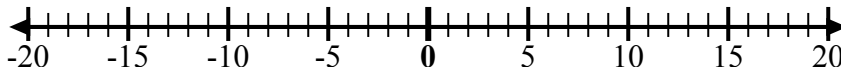


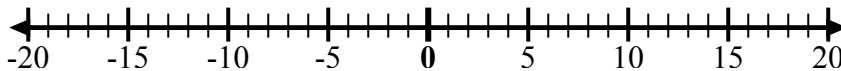


Используйте числовые линии, чтобы показать каждое выражение и решить.

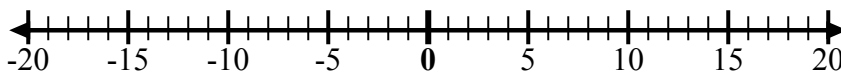
об) Начните с 4
и добавьте -8



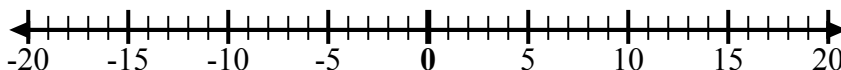
1) Начните с -9
и добавьте 5



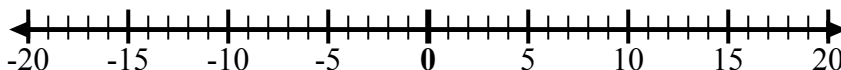
2) Начните с -6
и добавьте -4



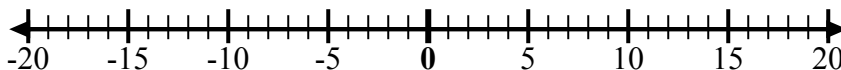
3) Начните с -5
и добавьте 4



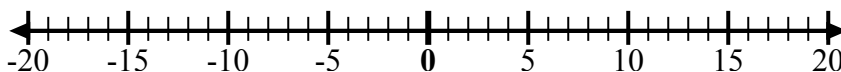
4) Начните с -7
и добавьте -2



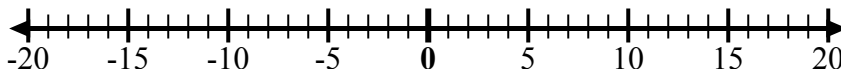
5) Начните с 9
и добавьте
-12



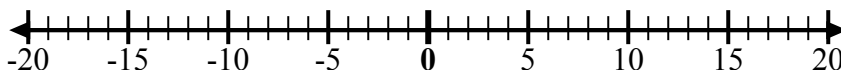
6) Начните с 7
и добавьте -3



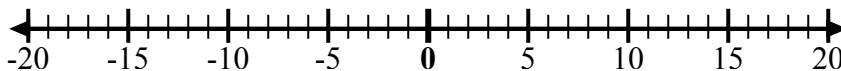
7) Начните с 1
и добавьте
-11



8) Начните с -2
и добавьте -3



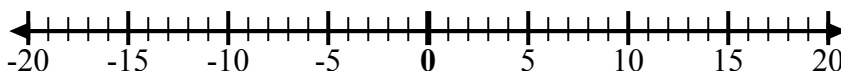
9) Начните с -3
и добавьте -3



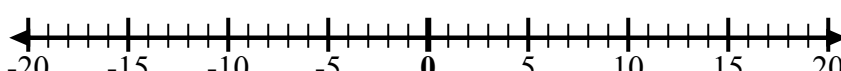
10) Начните с -5
и добавьте 2



11) Начните с
-10 и
добавьте 6



12) Начните с -4
и добавьте 8



ОТВЕТЫ

об. $4 + -8 = -4$

1. _____

2. _____

3. _____

4. _____

5. _____

6. _____

7. _____

8. _____

9. _____

10. _____

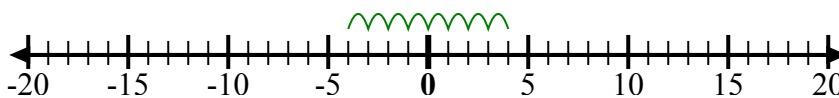
11. _____

12. _____

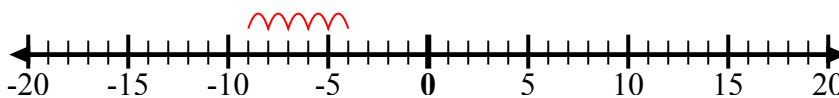


Используйте числовые линии, чтобы показать каждое выражение и решить.

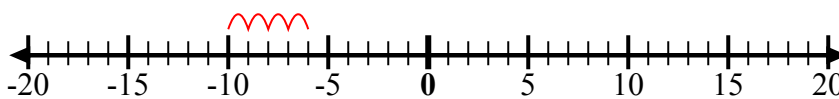
об) Начните с 4
и добавьте -8



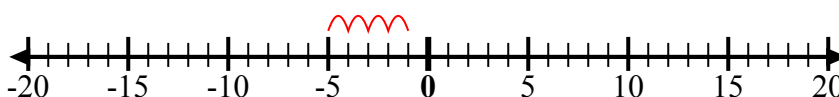
1) Начните с -9
и добавьте 5



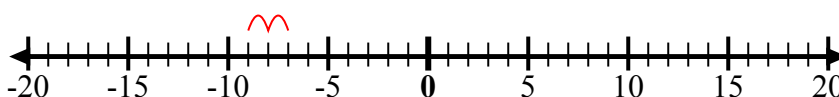
2) Начните с -6
и добавьте -4



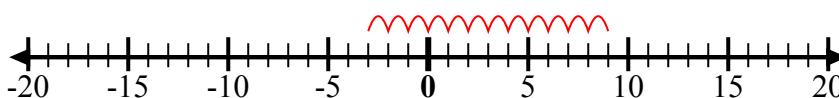
3) Начните с -5
и добавьте 4



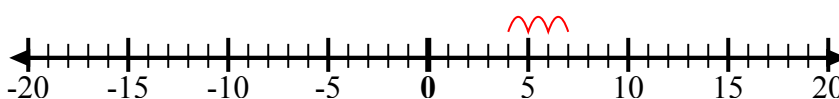
4) Начните с -7
и добавьте -2



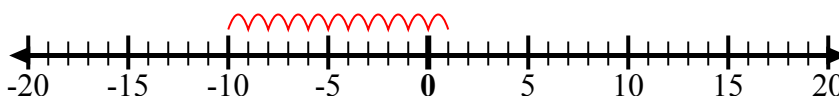
5) Начните с 9
и добавьте
-12



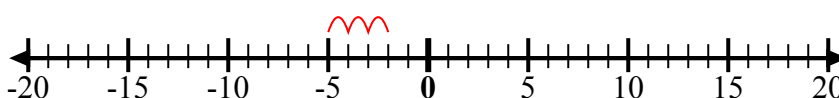
6) Начните с 7
и добавьте -3



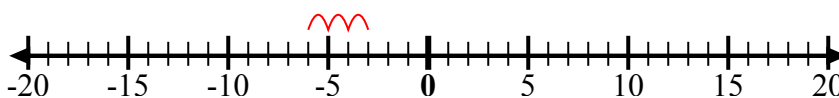
7) Начните с 1
и добавьте
-11



8) Начните с -2
и добавьте -3



9) Начните с -3
и добавьте -3



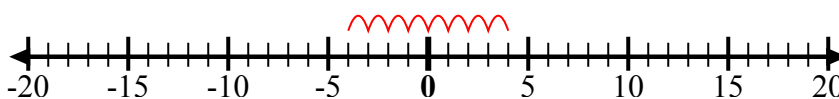
10) Начните с -5
и добавьте 2



11) Начните с
-10 и
добавьте 6



12) Начните с -4
и добавьте 8



ОТВЕТЫ

об. $4 + -8 = -4$

1. $-9 + 5 = -4$

2. $-6 + -4 = -10$

3. $-5 + 4 = -1$

4. $-7 + -2 = -9$

5. $9 + -12 = -3$

6. $7 + -3 = 4$

7. $1 + -11 = -10$

8. $-2 + -3 = -5$

9. $-3 + -3 = -6$

10. $-5 + 2 = -3$

11. $-10 + 6 = -4$

12. $-4 + 8 = 4$