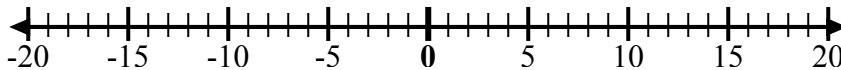


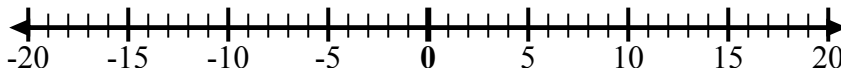


Используйте числовые линии, чтобы показать каждое выражение и решить.

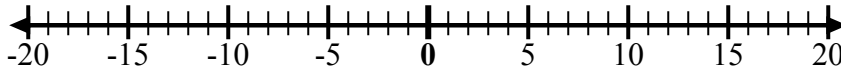
об) Начните с -4  
и добавьте 8



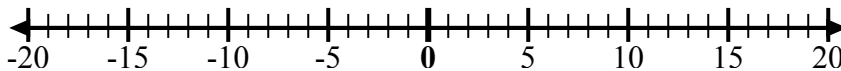
1) Начните с -3  
и добавьте  
10



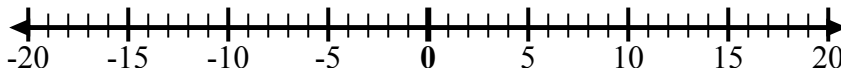
2) Начните с 2  
и добавьте  
-12



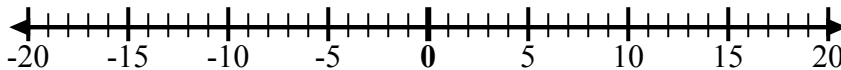
3) Начните с -5  
и добавьте 3



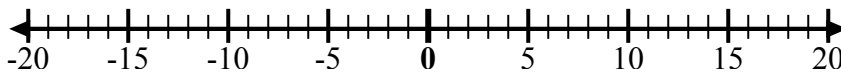
4) Начните с -7  
и добавьте 5



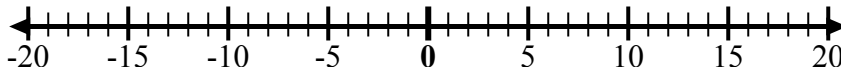
5) Начните с -3  
и добавьте -3



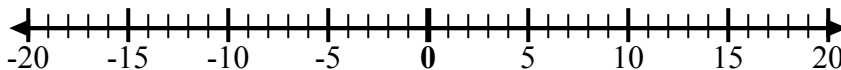
6) Начните с -1  
и добавьте -9



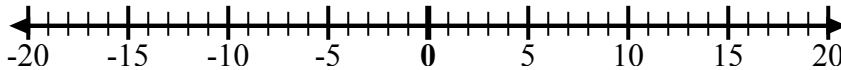
7) Начните с 1  
и добавьте  
-10



8) Начните с -6  
и добавьте -2



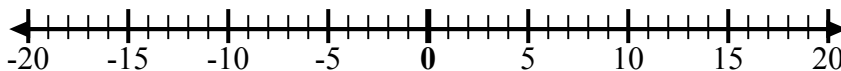
9) Начните с -8  
и добавьте  
10



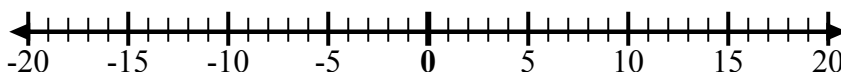
10) Начните с 0  
и добавьте  
-10



11) Начните с -8  
и добавьте -2



12) Начните с 5  
и добавьте  
-13



**ОТВЕТЫ**

об.  $-4 + 8 = 4$

1. \_\_\_\_\_

2. \_\_\_\_\_

3. \_\_\_\_\_

4. \_\_\_\_\_

5. \_\_\_\_\_

6. \_\_\_\_\_

7. \_\_\_\_\_

8. \_\_\_\_\_

9. \_\_\_\_\_

10. \_\_\_\_\_

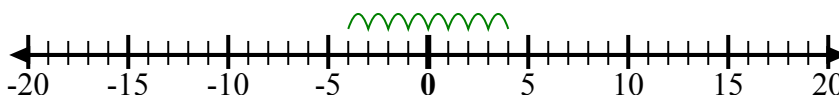
11. \_\_\_\_\_

12. \_\_\_\_\_

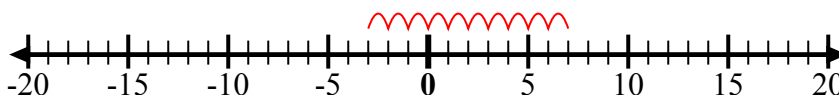


Используйте числовые линии, чтобы показать каждое выражение и решить.

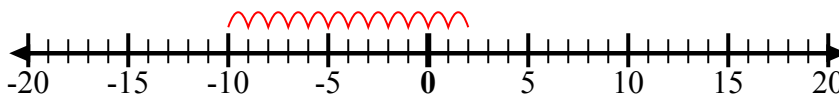
об) Начните с -4  
и добавьте 8



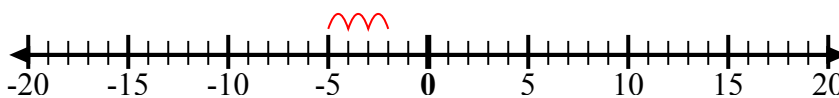
1) Начните с -3  
и добавьте  
10



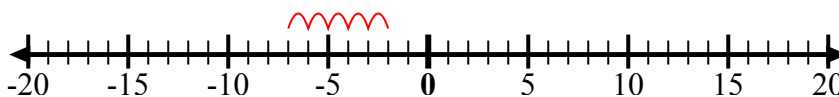
2) Начните с 2  
и добавьте  
-12



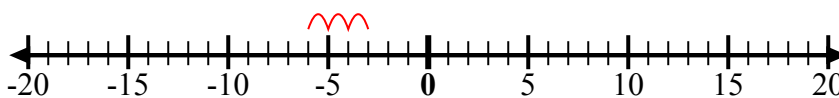
3) Начните с -5  
и добавьте 3



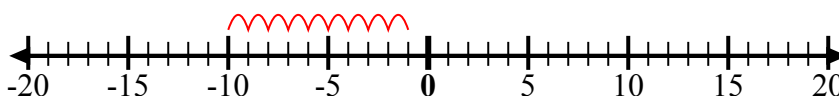
4) Начните с -7  
и добавьте 5



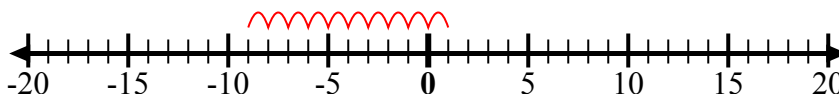
5) Начните с -3  
и добавьте -3



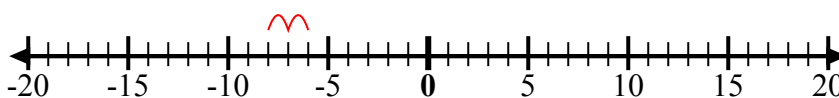
6) Начните с -1  
и добавьте -9



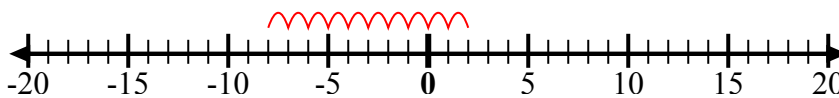
7) Начните с 1  
и добавьте  
-10



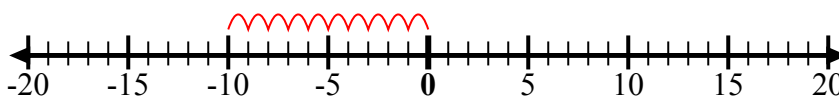
8) Начните с -6  
и добавьте -2



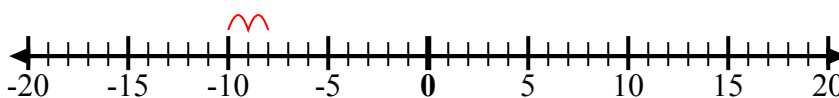
9) Начните с -8  
и добавьте  
10



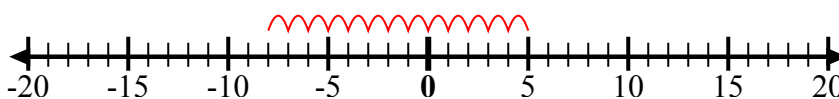
10) Начните с 0  
и добавьте  
-10



11) Начните с -8  
и добавьте -2



12) Начните с 5  
и добавьте  
-13



**ОТВЕТЫ**

об.  $-4 + 8 = 4$

1.  $-3 + 10 = 7$

2.  $2 + -12 = -10$

3.  $-5 + 3 = -2$

4.  $-7 + 5 = -2$

5.  $-3 + -3 = -6$

6.  $-1 + -9 = -10$

7.  $1 + -10 = -9$

8.  $-6 + -2 = -8$

9.  $-8 + 10 = 2$

10.  $0 + -10 = -10$

11.  $-8 + -2 = -10$

12.  $5 + -13 = -8$