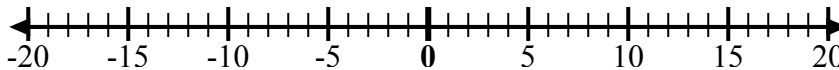




Используйте числовые линии, чтобы показать каждое выражение и решить.

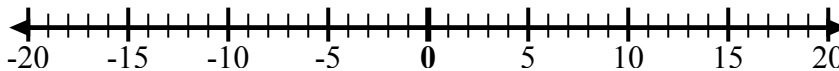
**ОТВЕТЫ**

об) Начните с 0  
и добавьте -2



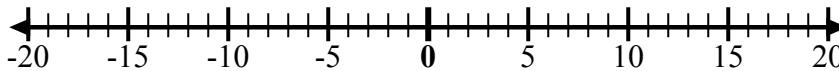
об.  $0 + -2 = -2$

1) Начните с 0  
и добавьте -5



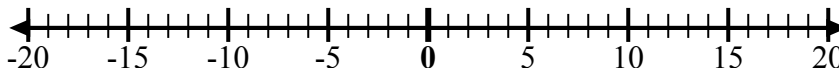
1. \_\_\_\_\_

2) Начните с 0  
и добавьте 7



2. \_\_\_\_\_

3) Начните с -6  
и добавьте 12



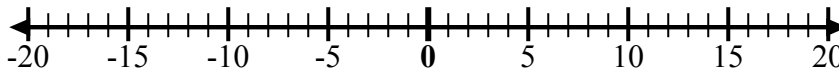
3. \_\_\_\_\_

4) Начните с -2  
и добавьте -2



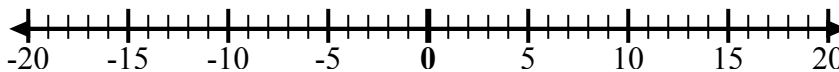
4. \_\_\_\_\_

5) Начните с 2  
и добавьте -8



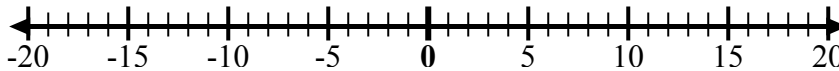
5. \_\_\_\_\_

6) Начните с 3  
и добавьте -11



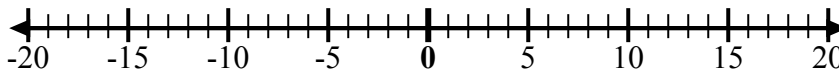
6. \_\_\_\_\_

7) Начните с -7  
и добавьте 16



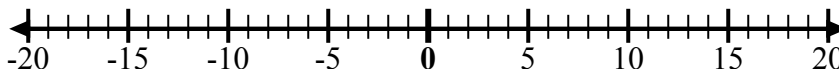
7. \_\_\_\_\_

8) Начните с -9  
и добавьте 7



8. \_\_\_\_\_

9) Начните с -8  
и добавьте 3



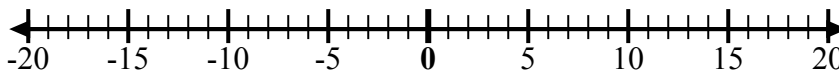
9. \_\_\_\_\_

10) Начните с 5  
и добавьте -15



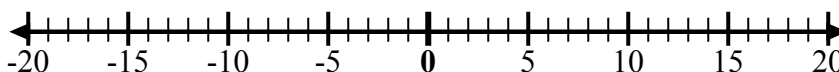
10. \_\_\_\_\_

11) Начните с -8  
и добавьте 4



11. \_\_\_\_\_

12) Начните с 5  
и добавьте -6

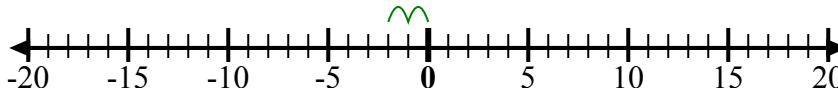


12. \_\_\_\_\_

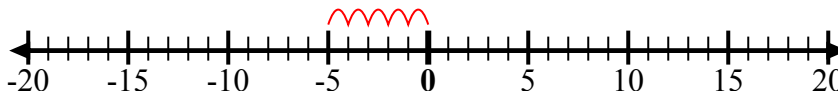


Используйте числовые линии, чтобы показать каждое выражение и решить.

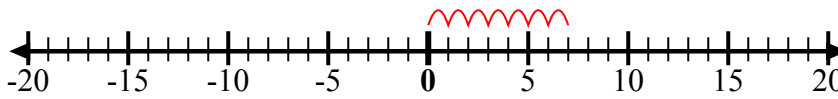
об) Начните с 0  
и добавьте -2



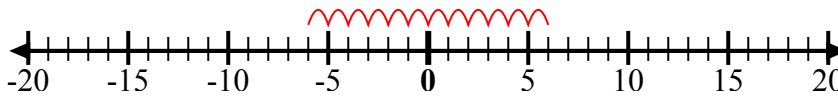
1) Начните с 0  
и добавьте -5



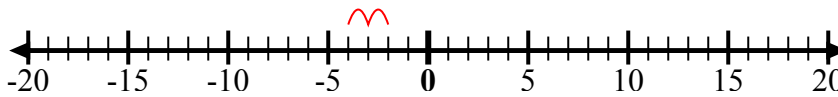
2) Начните с 0  
и добавьте 7



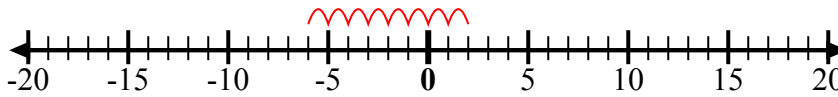
3) Начните с -6  
и добавьте 12



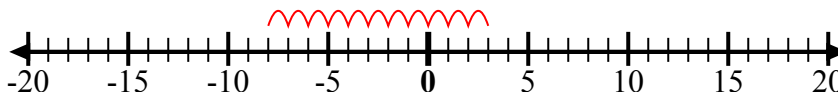
4) Начните с -2  
и добавьте -2



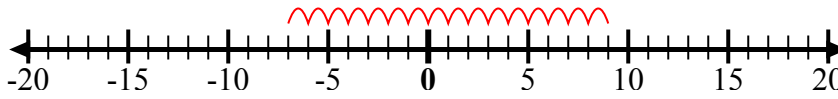
5) Начните с 2  
и добавьте -8



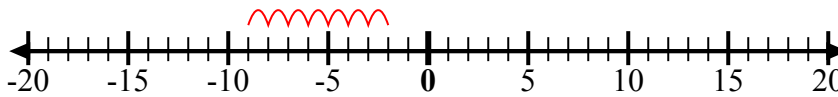
6) Начните с 3  
и добавьте -11



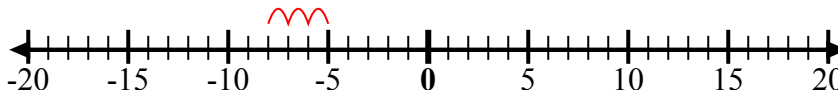
7) Начните с -7  
и добавьте 16



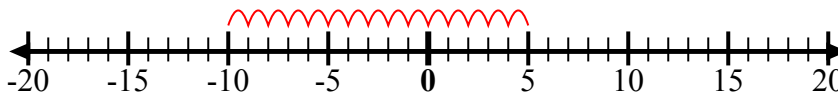
8) Начните с -9  
и добавьте 7



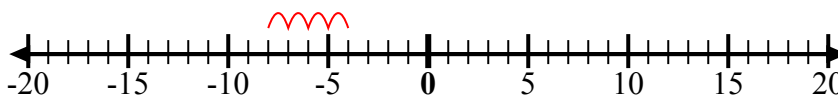
9) Начните с -8  
и добавьте 3



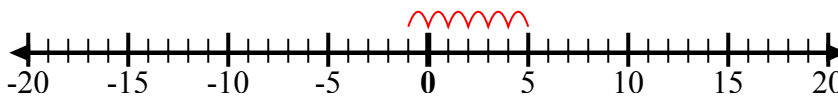
10) Начните с 5  
и добавьте -15



11) Начните с -8  
и добавьте 4



12) Начните с 5  
и добавьте -6



**ОТВЕТЫ**

об.  $0 + -2 = -2$

1.  $0 + -5 = -5$

2.  $0 + 7 = 7$

3.  $-6 + 12 = 6$

4.  $-2 + -2 = -4$

5.  $2 + -8 = -6$

6.  $3 + -11 = -8$

7.  $-7 + 16 = 9$

8.  $-9 + 7 = -2$

9.  $-8 + 3 = -5$

10.  $5 + -15 = -10$

11.  $-8 + 4 = -4$

12.  $5 + -6 = -1$