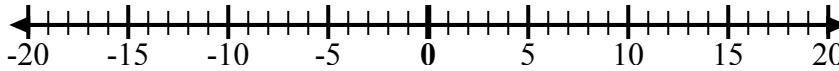


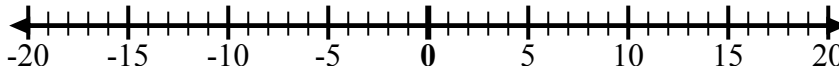


Используйте числовые линии, чтобы показать каждое выражение и решить.

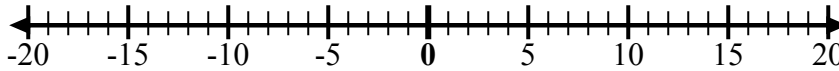
об) Начните с 9
и добавьте -4



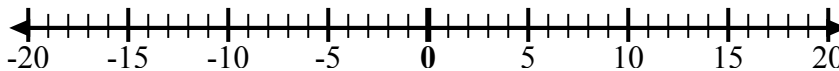
1) Начните с 5
и добавьте
-11



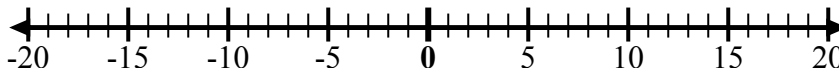
2) Начните с 2
и добавьте -8



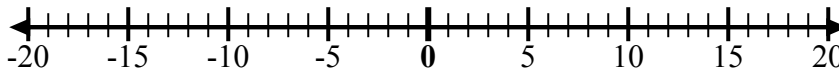
3) Начните с -5
и добавьте -4



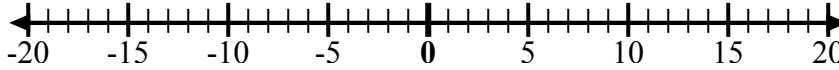
4) Начните с 0
и добавьте 8



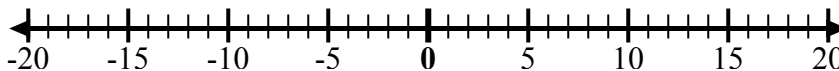
5) Начните с 5
и добавьте -8



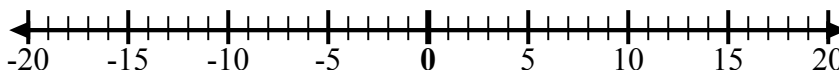
6) Начните с -7
и добавьте
15



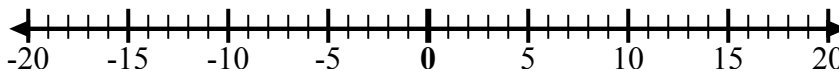
7) Начните с -9
и добавьте 8



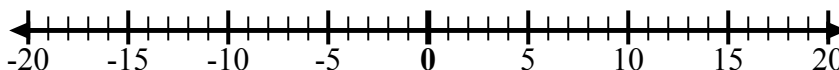
8) Начните с -2
и добавьте -6



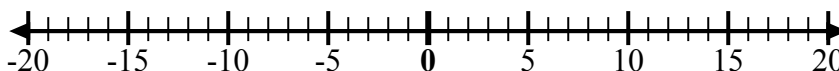
9) Начните с -5
и добавьте 5



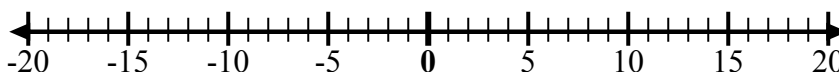
10) Начните с -1
и добавьте -8



11) Начните с -1
и добавьте 7



12) Начните с
-10 и
добавьте 14



ОТВЕТЫ

об. $9 + -4 = 5$

1. _____

2. _____

3. _____

4. _____

5. _____

6. _____

7. _____

8. _____

9. _____

10. _____

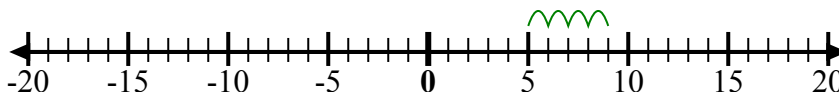
11. _____

12. _____

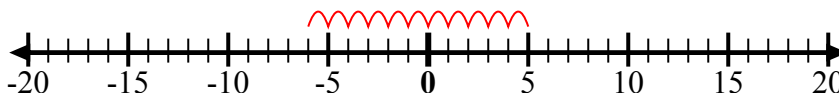


Используйте числовые линии, чтобы показать каждое выражение и решить.

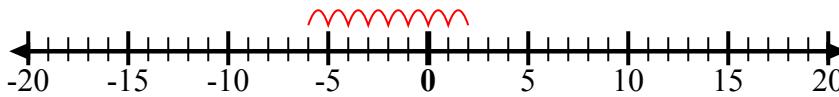
об) Начните с 9
и добавьте -4



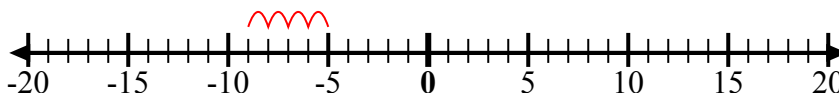
1) Начните с 5
и добавьте -11



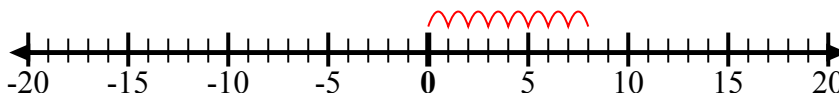
2) Начните с 2
и добавьте -8



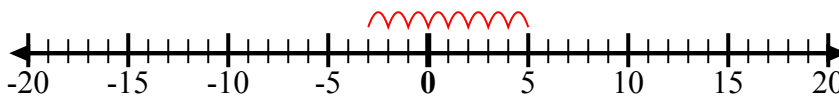
3) Начните с -5
и добавьте -4



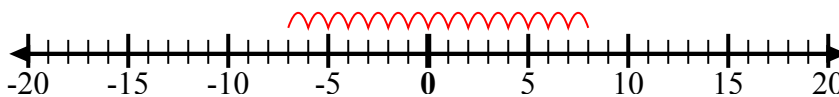
4) Начните с 0
и добавьте 8



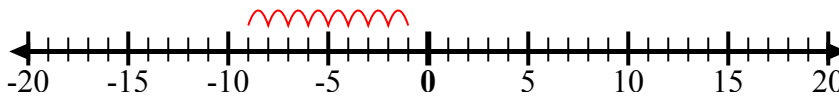
5) Начните с 5
и добавьте -8



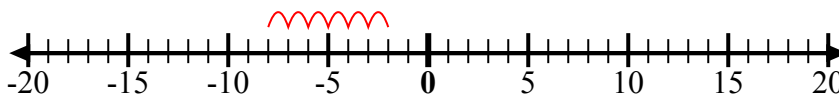
6) Начните с -7
и добавьте 15



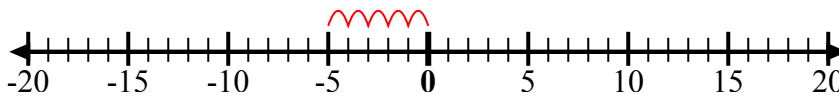
7) Начните с -9
и добавьте 8



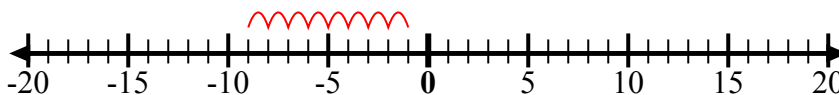
8) Начните с -2
и добавьте -6



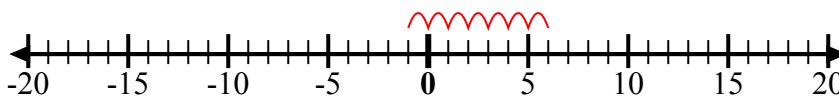
9) Начните с -5
и добавьте 5



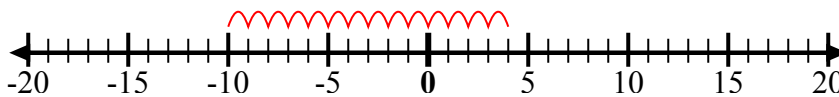
10) Начните с -1
и добавьте -8



11) Начните с -1
и добавьте 7



12) Начните с -10
и добавьте 14



ОТВЕТЫ

об. $9 + -4 = 5$

1. $5 + -11 = -6$

2. $2 + -8 = -6$

3. $-5 + -4 = -9$

4. $0 + 8 = 8$

5. $5 + -8 = -3$

6. $-7 + 15 = 8$

7. $-9 + 8 = -1$

8. $-2 + -6 = -8$

9. $-5 + 5 = 0$

10. $-1 + -8 = -9$

11. $-1 + 7 = 6$

12. $-10 + 14 = 4$