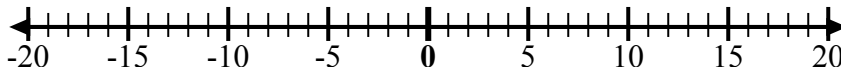


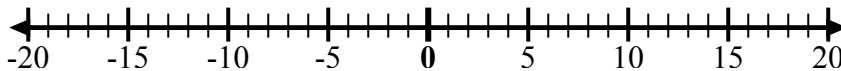


Используйте числовые линии, чтобы показать каждое выражение и решить.

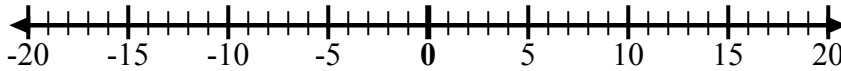
об) Начните с 7
и добавьте
-12



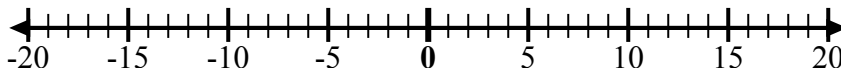
1) Начните с -2
и добавьте 5



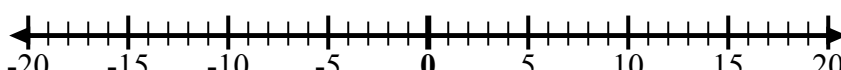
2) Начните с 8
и добавьте
-13



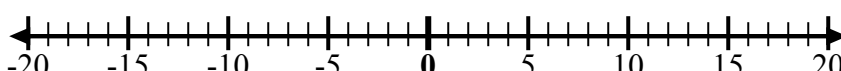
3) Начните с -7
и добавьте -2



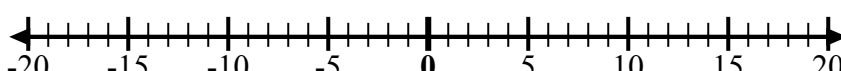
4) Начните с -4
и добавьте -3



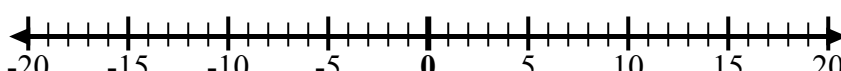
5) Начните с -3
и добавьте -2



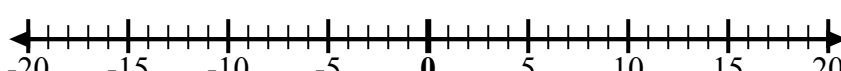
6) Начните с -7
и добавьте 5



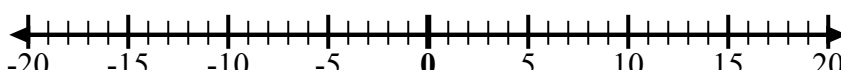
7) Начните с -6
и добавьте -2



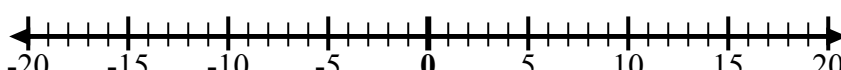
8) Начните с 1
и добавьте
-11



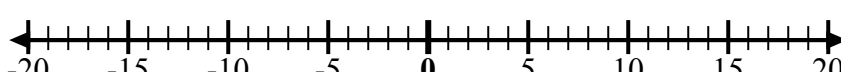
9) Начните с -7
и добавьте 8



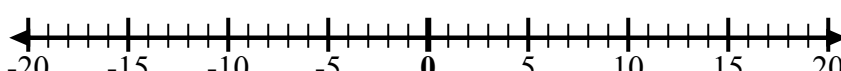
10) Начните с 1
и добавьте -9



11) Начните с -3
и добавьте -3



12) Начните с 2
и добавьте
-11



ОТВЕТЫ

об. $7 + -12 = -5$

1. _____

2. _____

3. _____

4. _____

5. _____

6. _____

7. _____

8. _____

9. _____

10. _____

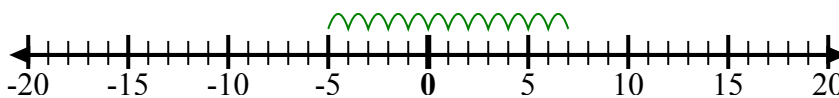
11. _____

12. _____

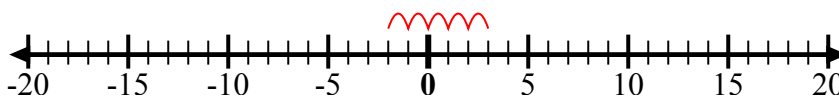


Используйте числовые линии, чтобы показать каждое выражение и решить.

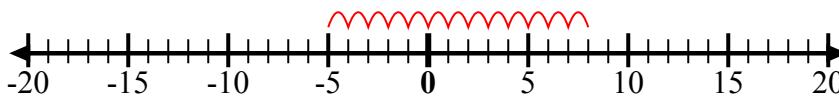
об) Начните с 7
и добавьте
-12



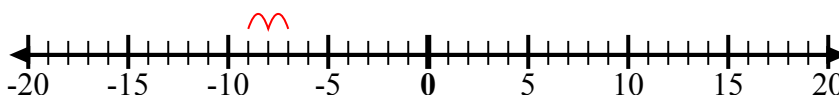
1) Начните с -2
и добавьте 5



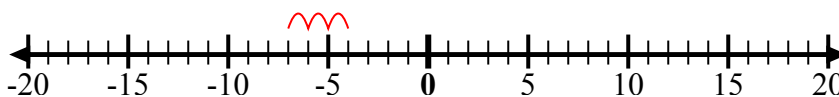
2) Начните с 8
и добавьте
-13



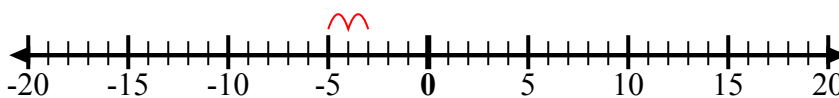
3) Начните с -7
и добавьте -2



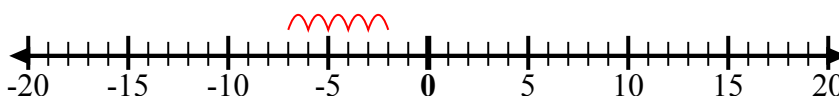
4) Начните с -4
и добавьте -3



5) Начните с -3
и добавьте -2



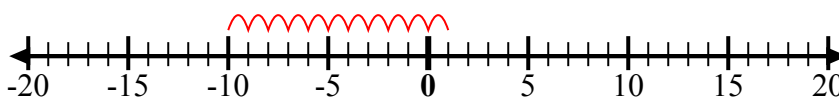
6) Начните с -7
и добавьте 5



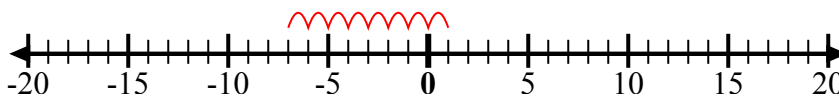
7) Начните с -6
и добавьте -2



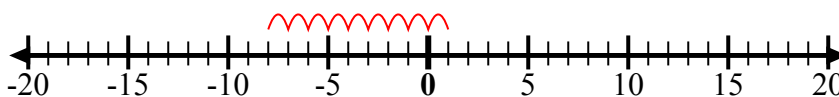
8) Начните с 1
и добавьте
-11



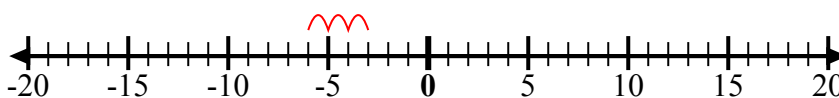
9) Начните с -7
и добавьте 8



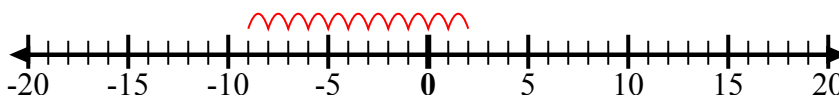
10) Начните с 1
и добавьте -9



11) Начните с -3
и добавьте -3



12) Начните с 2
и добавьте
-11



ОТВЕТЫ

об. $7 + -12 = -5$

1. $-2 + 5 = 3$

2. $8 + -13 = -5$

3. $-7 + -2 = -9$

4. $-4 + -3 = -7$

5. $-3 + -2 = -5$

6. $-7 + 5 = -2$

7. $-6 + -2 = -8$

8. $1 + -11 = -10$

9. $-7 + 8 = 1$

10. $1 + -9 = -8$

11. $-3 + -3 = -6$

12. $2 + -11 = -9$