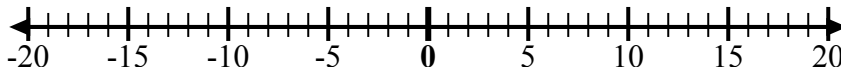


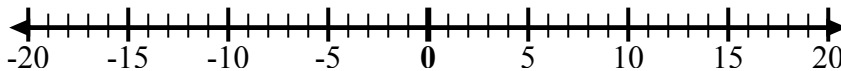


Используйте числовые линии, чтобы показать каждое выражение и решить.

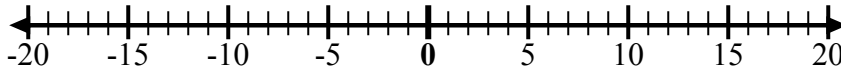
об) Начните с -9  
и добавьте 5



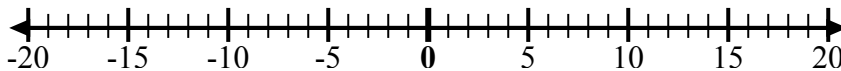
1) Начните с  
-10 и  
добавьте 14



2) Начните с 3  
и добавьте  
-10



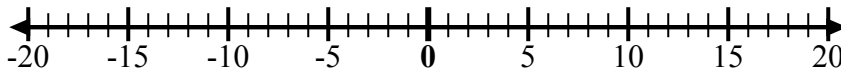
3) Начните с 7  
и добавьте -6



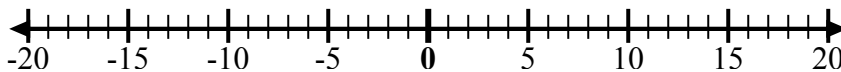
4) Начните с -8  
и добавьте -2



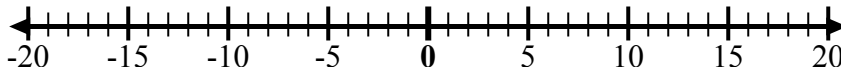
5) Начните с 5  
и добавьте -9



6) Начните с -5  
и добавьте 4



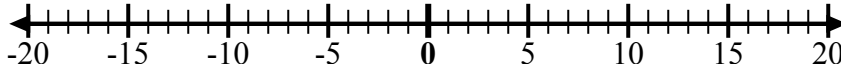
7) Начните с -6  
и добавьте 9



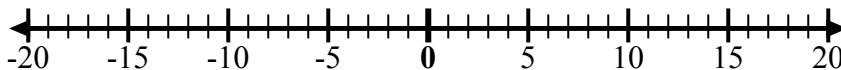
8) Начните с -4  
и добавьте  
14



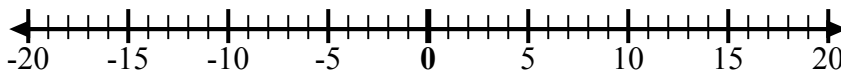
9) Начните с -4  
и добавьте -3



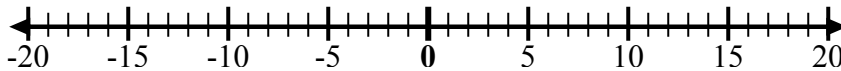
10) Начните с -7  
и добавьте -2



11) Начните с 0  
и добавьте -7



12) Начните с -2  
и добавьте -2



**ОТВЕТЫ**

об.  $-9 + 5 = -4$

1. \_\_\_\_\_

2. \_\_\_\_\_

3. \_\_\_\_\_

4. \_\_\_\_\_

5. \_\_\_\_\_

6. \_\_\_\_\_

7. \_\_\_\_\_

8. \_\_\_\_\_

9. \_\_\_\_\_

10. \_\_\_\_\_

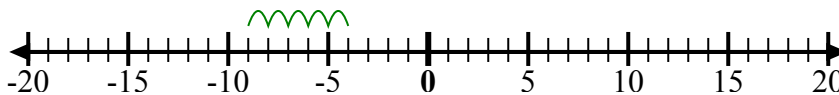
11. \_\_\_\_\_

12. \_\_\_\_\_

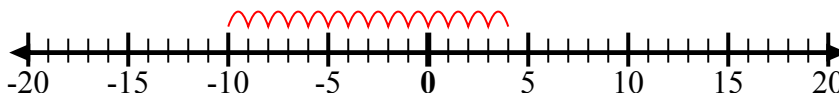


Используйте числовые линии, чтобы показать каждое выражение и решить.

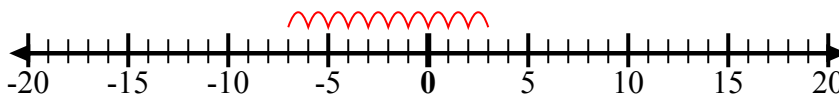
об) Начните с -9  
и добавьте 5



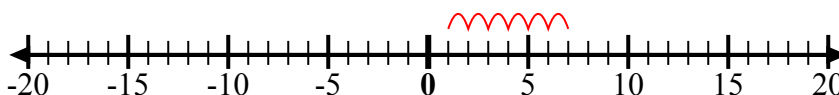
1) Начните с  
-10 и  
добавьте 14



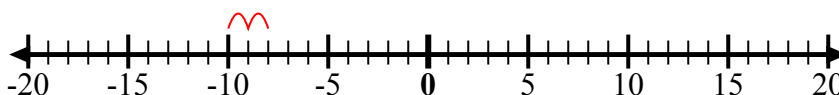
2) Начните с 3  
и добавьте  
-10



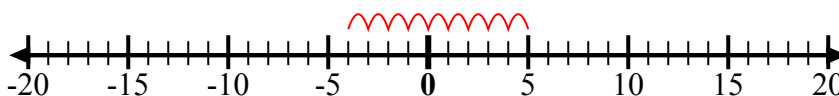
3) Начните с 7  
и добавьте -6



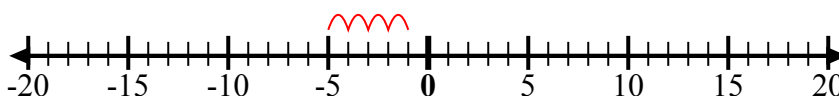
4) Начните с -8  
и добавьте -2



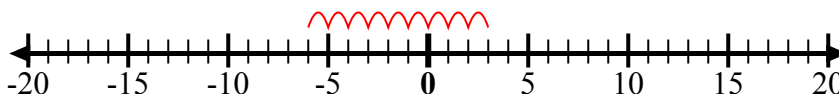
5) Начните с 5  
и добавьте -9



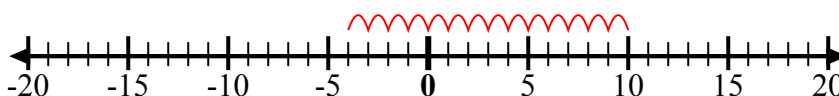
6) Начните с -5  
и добавьте 4



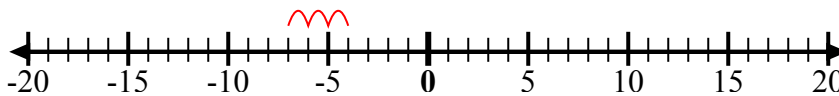
7) Начните с -6  
и добавьте 9



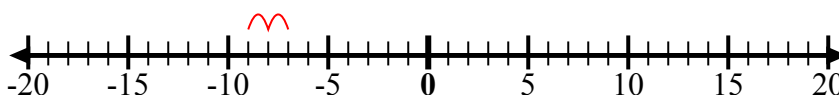
8) Начните с -4  
и добавьте  
14



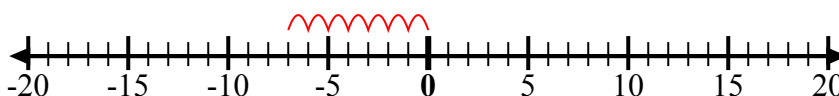
9) Начните с -4  
и добавьте -3



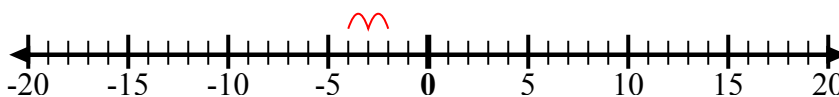
10) Начните с -7  
и добавьте -2



11) Начните с 0  
и добавьте -7



12) Начните с -2  
и добавьте -2



**ОТВЕТЫ**

об.  $-9 + 5 = -4$

1.  $-10 + 14 = 4$

2.  $3 + -10 = -7$

3.  $7 + -6 = 1$

4.  $-8 + -2 = -10$

5.  $5 + -9 = -4$

6.  $-5 + 4 = -1$

7.  $-6 + 9 = 3$

8.  $-4 + 14 = 10$

9.  $-4 + -3 = -7$

10.  $-7 + -2 = -9$

11.  $0 + -7 = -7$

12.  $-2 + -2 = -4$