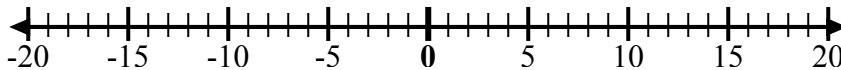


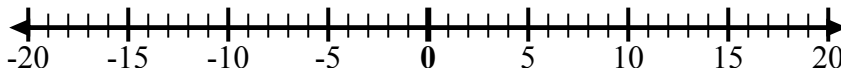


Используйте числовые линии, чтобы показать каждое выражение и решить.

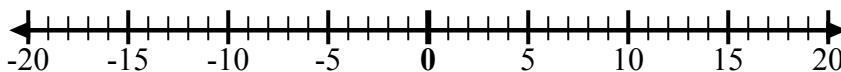
об) Начните с -8
и добавьте
18



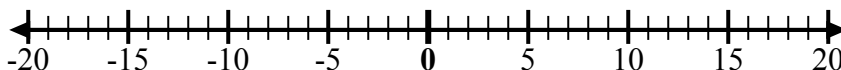
1) Начните с -6
и добавьте 3



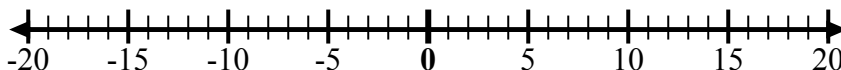
2) Начните с -4
и добавьте -6



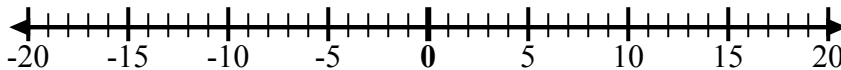
3) Начните с -1
и добавьте -8



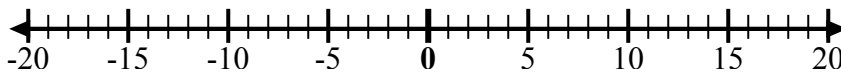
4) Начните с -4
и добавьте -3



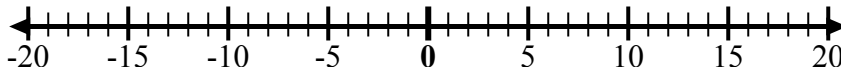
5) Начните с 0
и добавьте
-10



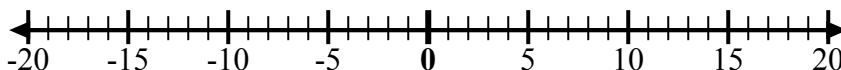
6) Начните с -7
и добавьте
12



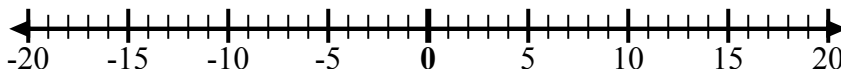
7) Начните с 2
и добавьте
-10



8) Начните с -6
и добавьте -2



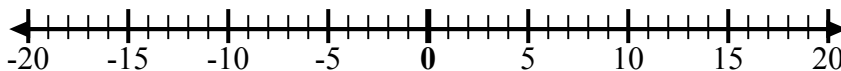
9) Начните с 1
и добавьте
-10



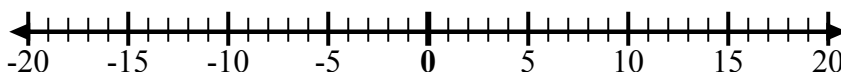
10) Начните с 3
и добавьте
-10



11) Начните с -4
и добавьте -2



12) Начните с
-10 и
добавьте 6



ОТВЕТЫ

об. $-8 + 18 = 10$

1. _____

2. _____

3. _____

4. _____

5. _____

6. _____

7. _____

8. _____

9. _____

10. _____

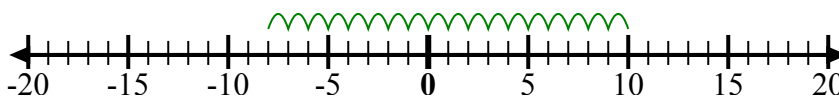
11. _____

12. _____

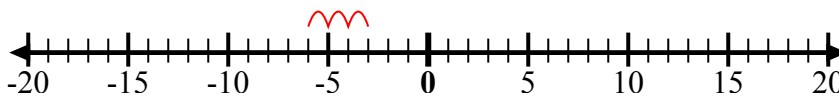


Используйте числовые линии, чтобы показать каждое выражение и решить.

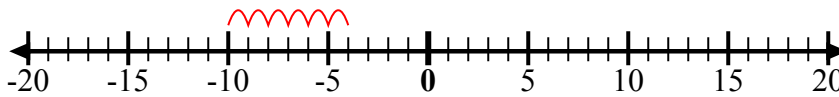
об) Начните с -8
и добавьте
18



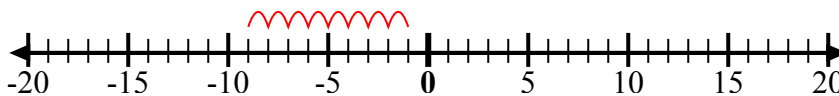
1) Начните с -6
и добавьте 3



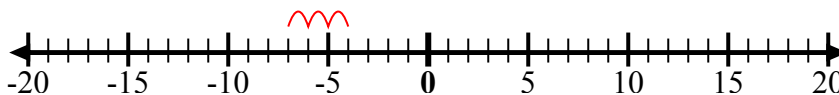
2) Начните с -4
и добавьте -6



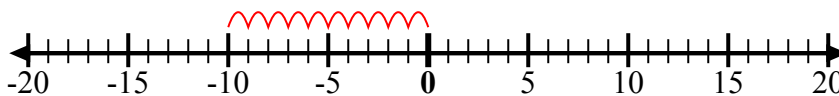
3) Начните с -1
и добавьте -8



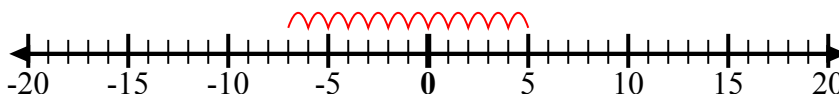
4) Начните с -4
и добавьте -3



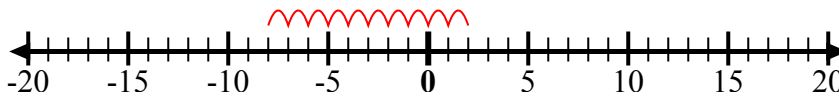
5) Начните с 0
и добавьте
-10



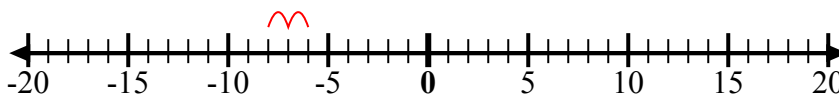
6) Начните с -7
и добавьте
12



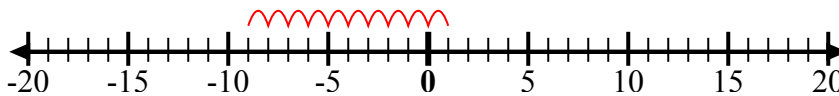
7) Начните с 2
и добавьте
-10



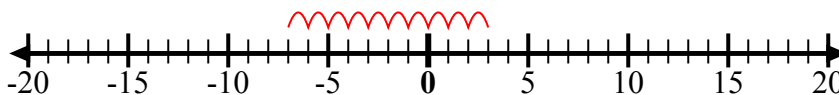
8) Начните с -6
и добавьте -2



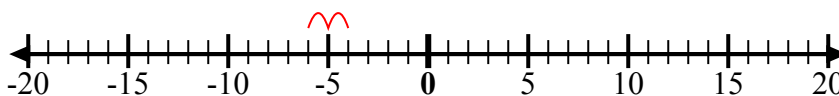
9) Начните с 1
и добавьте
-10



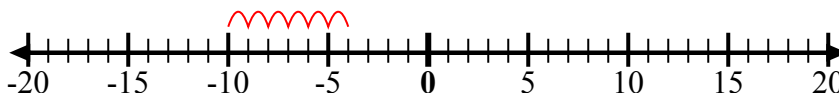
10) Начните с 3
и добавьте
-10



11) Начните с -4
и добавьте -2



12) Начните с
-10 и
добавьте 6



ОТВЕТЫ

об. $-8 + 18 = 10$

1. $-6 + 3 = -3$

2. $-4 + -6 = -10$

3. $-1 + -8 = -9$

4. $-4 + -3 = -7$

5. $0 + -10 = -10$

6. $-7 + 12 = 5$

7. $2 + -10 = -8$

8. $-6 + -2 = -8$

9. $1 + -10 = -9$

10. $3 + -10 = -7$

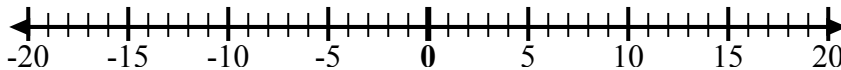
11. $-4 + -2 = -6$

12. $-10 + 6 = -4$

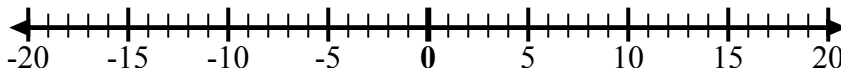


Используйте числовые линии, чтобы показать каждое выражение и решить.

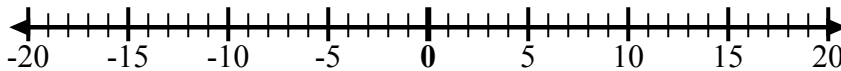
об) Начните с 4
и добавьте -8



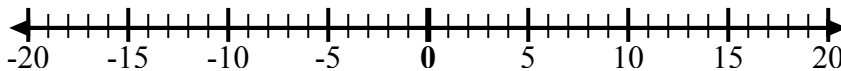
1) Начните с -9
и добавьте 5



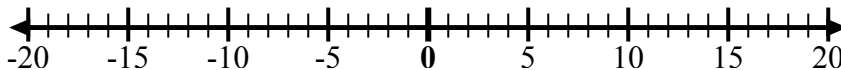
2) Начните с -6
и добавьте -4



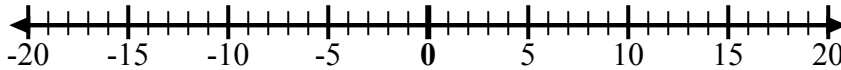
3) Начните с -5
и добавьте 4



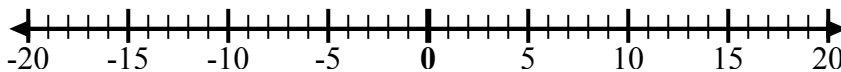
4) Начните с -7
и добавьте -2



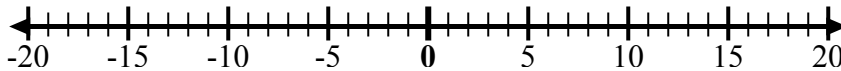
5) Начните с 9
и добавьте
-12



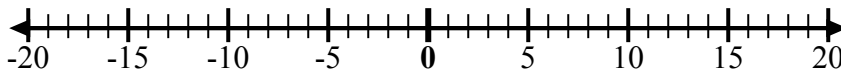
6) Начните с 7
и добавьте -3



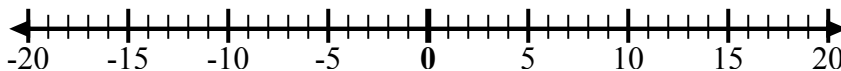
7) Начните с 1
и добавьте
-11



8) Начните с -2
и добавьте -3



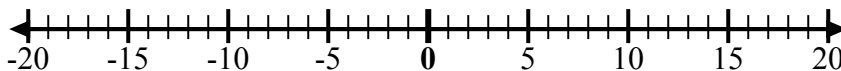
9) Начните с -3
и добавьте -3



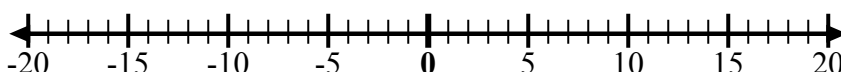
10) Начните с -5
и добавьте 2



11) Начните с
-10 и
добавьте 6



12) Начните с -4
и добавьте 8



ОТВЕТЫ

об. $4 + -8 = -4$

1. _____

2. _____

3. _____

4. _____

5. _____

6. _____

7. _____

8. _____

9. _____

10. _____

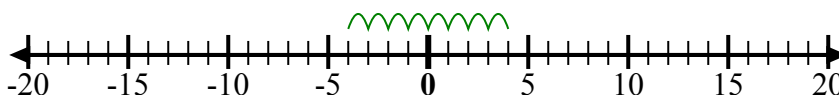
11. _____

12. _____

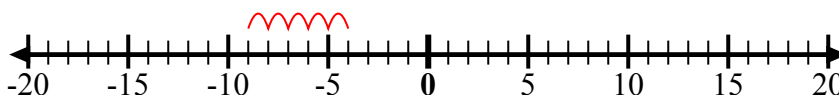


Используйте числовые линии, чтобы показать каждое выражение и решить.

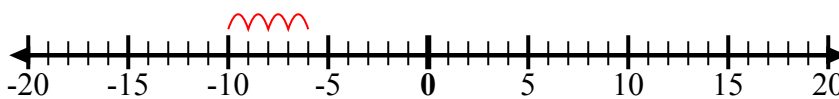
об) Начните с 4
и добавьте -8



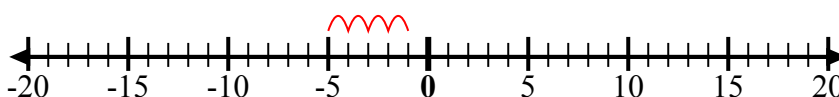
1) Начните с -9
и добавьте 5



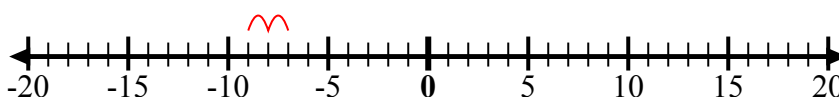
2) Начните с -6
и добавьте -4



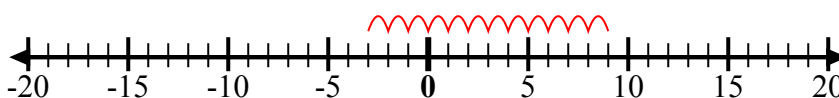
3) Начните с -5
и добавьте 4



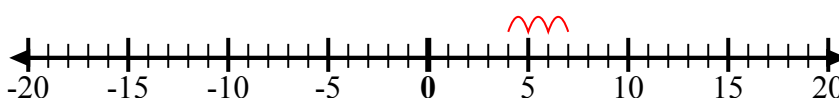
4) Начните с -7
и добавьте -2



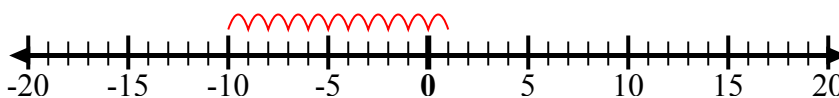
5) Начните с 9
и добавьте
-12



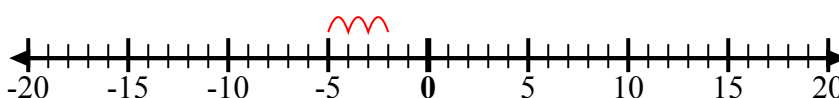
6) Начните с 7
и добавьте -3



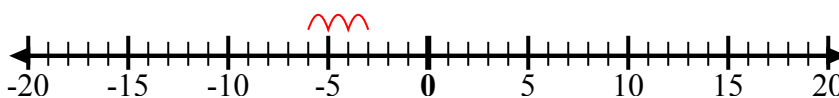
7) Начните с 1
и добавьте
-11



8) Начните с -2
и добавьте -3



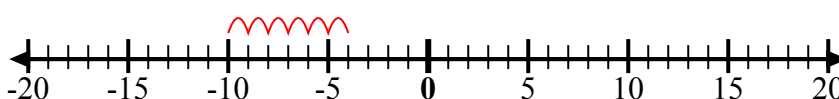
9) Начните с -3
и добавьте -3



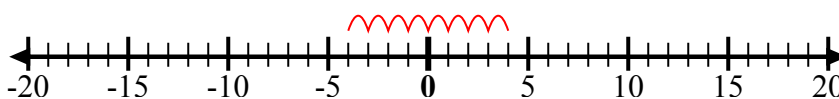
10) Начните с -5
и добавьте 2



11) Начните с
-10 и
добавьте 6



12) Начните с -4
и добавьте 8



ОТВЕТЫ

об. $4 + -8 = -4$

1. $-9 + 5 = -4$

2. $-6 + -4 = -10$

3. $-5 + 4 = -1$

4. $-7 + -2 = -9$

5. $9 + -12 = -3$

6. $7 + -3 = 4$

7. $1 + -11 = -10$

8. $-2 + -3 = -5$

9. $-3 + -3 = -6$

10. $-5 + 2 = -3$

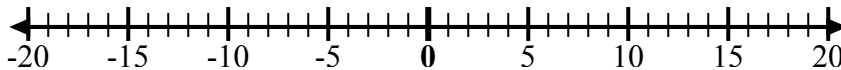
11. $-10 + 6 = -4$

12. $-4 + 8 = 4$

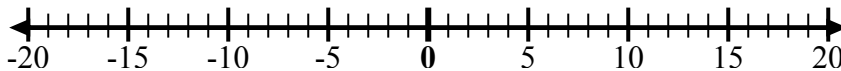


Используйте числовые линии, чтобы показать каждое выражение и решить.

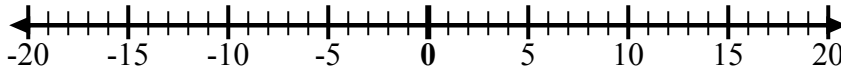
об) Начните с -4
и добавьте 8



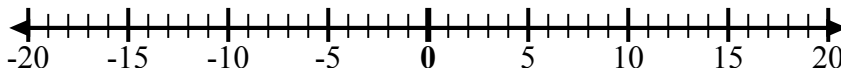
1) Начните с -3
и добавьте
10



2) Начните с 2
и добавьте
-12



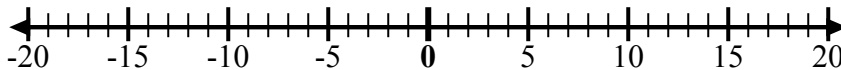
3) Начните с -5
и добавьте 3



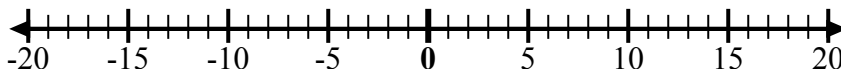
4) Начните с -7
и добавьте 5



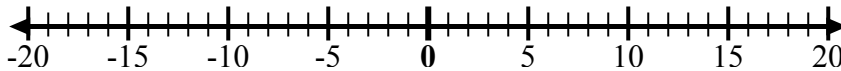
5) Начните с -3
и добавьте -3



6) Начните с -1
и добавьте -9



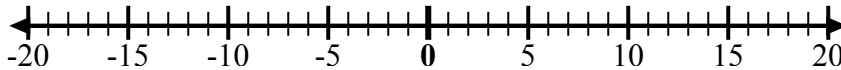
7) Начните с 1
и добавьте
-10



8) Начните с -6
и добавьте -2



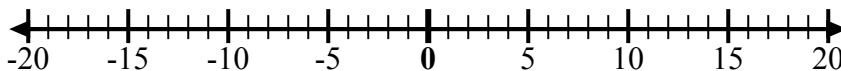
9) Начните с -8
и добавьте
10



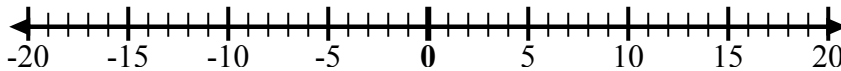
10) Начните с 0
и добавьте
-10



11) Начните с -8
и добавьте -2



12) Начните с 5
и добавьте
-13



ОТВЕТЫ

об. $-4 + 8 = 4$

1. _____

2. _____

3. _____

4. _____

5. _____

6. _____

7. _____

8. _____

9. _____

10. _____

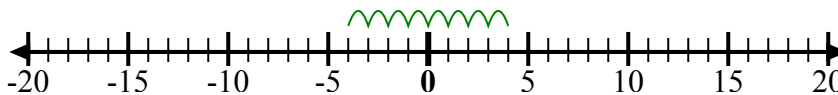
11. _____

12. _____

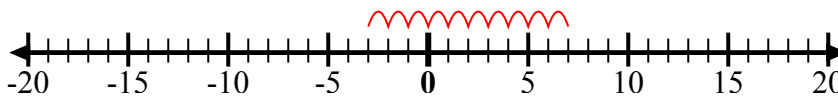


Используйте числовые линии, чтобы показать каждое выражение и решить.

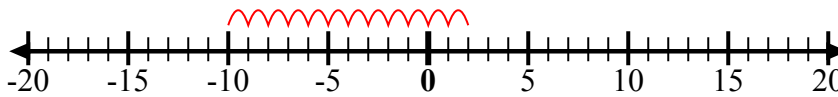
об) Начните с -4
и добавьте 8



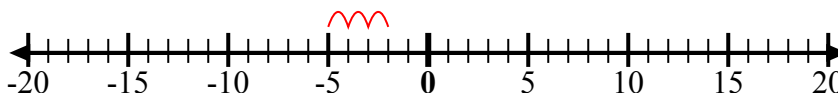
1) Начните с -3
и добавьте
10



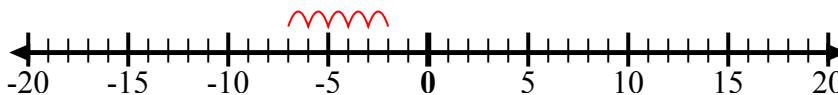
2) Начните с 2
и добавьте
-12



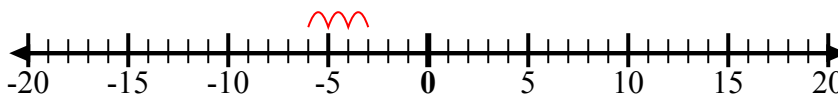
3) Начните с -5
и добавьте 3



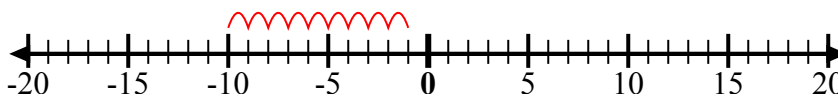
4) Начните с -7
и добавьте 5



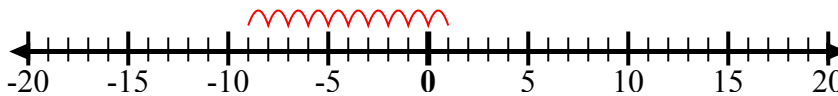
5) Начните с -3
и добавьте -3



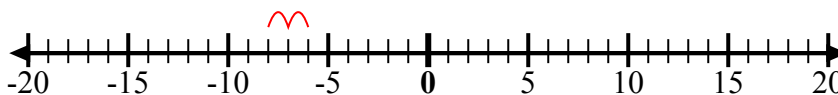
6) Начните с -1
и добавьте -9



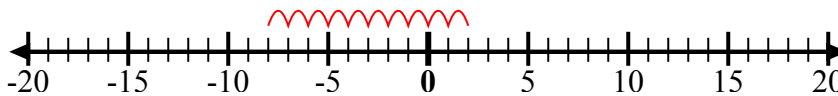
7) Начните с 1
и добавьте
-10



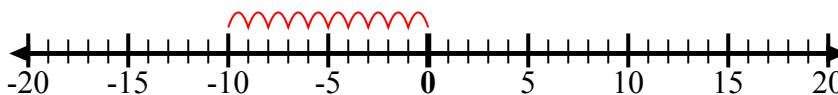
8) Начните с -6
и добавьте -2



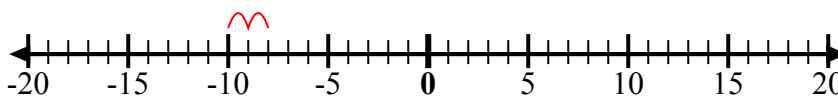
9) Начните с -8
и добавьте
10



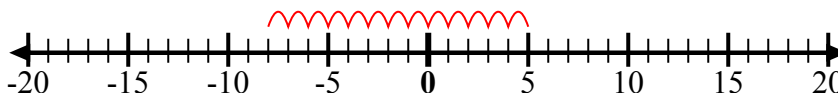
10) Начните с 0
и добавьте
-10



11) Начните с -8
и добавьте -2



12) Начните с 5
и добавьте
-13



ОТВЕТЫ

об. $-4 + 8 = 4$

1. $-3 + 10 = 7$

2. $2 + -12 = -10$

3. $-5 + 3 = -2$

4. $-7 + 5 = -2$

5. $-3 + -3 = -6$

6. $-1 + -9 = -10$

7. $1 + -10 = -9$

8. $-6 + -2 = -8$

9. $-8 + 10 = 2$

10. $0 + -10 = -10$

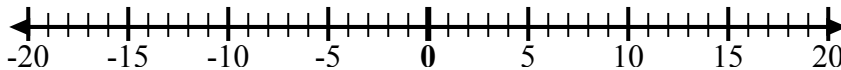
11. $-8 + -2 = -10$

12. $5 + -13 = -8$

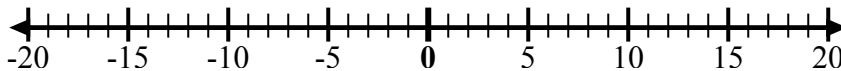


Используйте числовые линии, чтобы показать каждое выражение и решить.

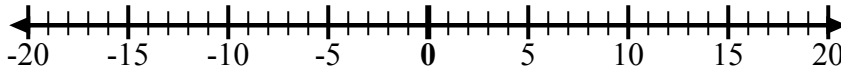
об) Начните с -2
и добавьте -8



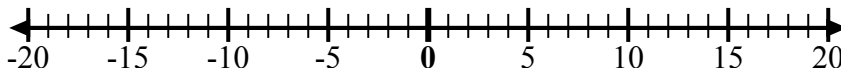
1) Начните с 8
и добавьте -18



2) Начните с 4
и добавьте -11



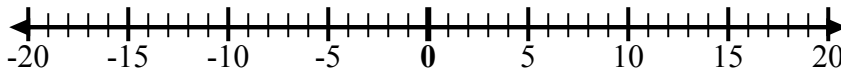
3) Начните с -5
и добавьте -5



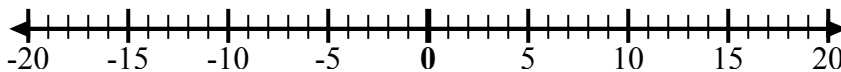
4) Начните с -8
и добавьте 5



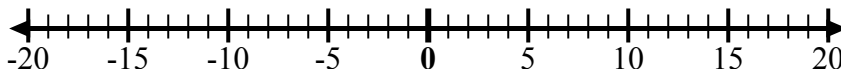
5) Начните с -6
и добавьте 3



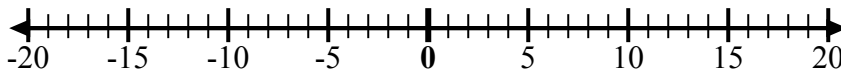
6) Начните с -1
и добавьте -7



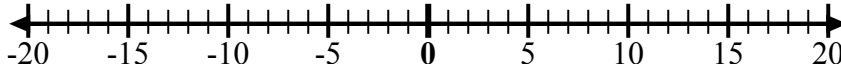
7) Начните с -2
и добавьте -6



8) Начните с -3
и добавьте 12



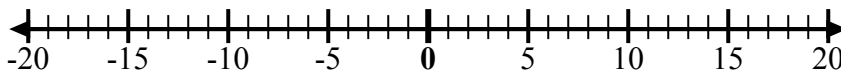
9) Начните с -1
и добавьте 11



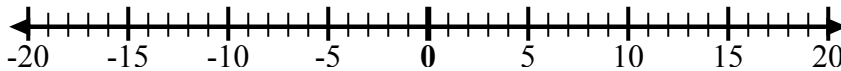
10) Начните с 2
и добавьте -9



11) Начните с -3
и добавьте 13



12) Начните с 10
и добавьте -12



ОТВЕТЫ

об. $-2 + -8 = -10$

1. _____

2. _____

3. _____

4. _____

5. _____

6. _____

7. _____

8. _____

9. _____

10. _____

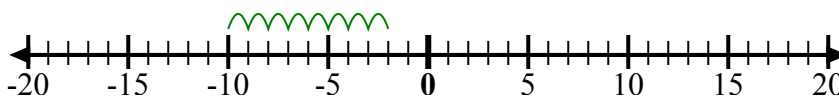
11. _____

12. _____

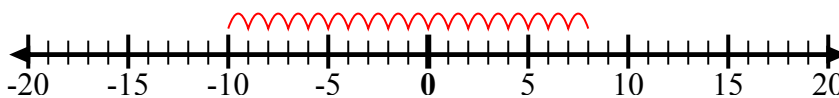


Используйте числовые линии, чтобы показать каждое выражение и решить.

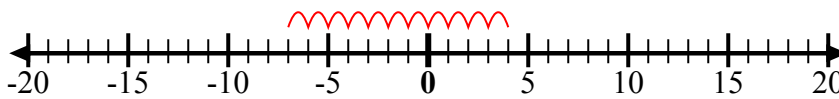
об) Начните с -2
и добавьте -8



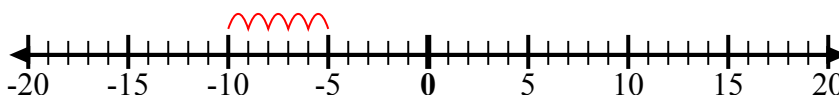
1) Начните с 8
и добавьте -18



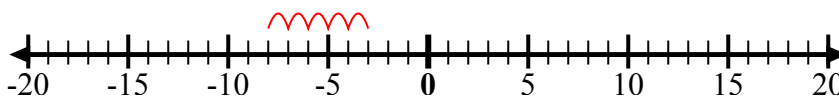
2) Начните с 4
и добавьте -11



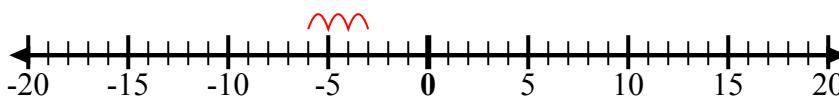
3) Начните с -5
и добавьте -5



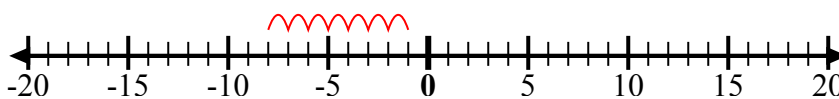
4) Начните с -8
и добавьте 5



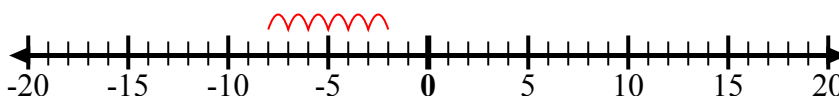
5) Начните с -6
и добавьте 3



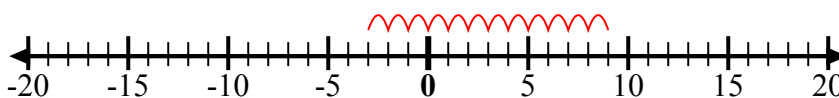
6) Начните с -1
и добавьте -7



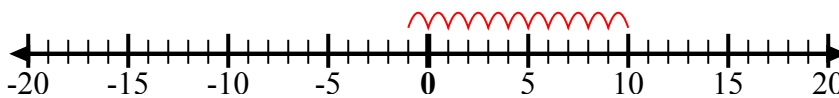
7) Начните с -2
и добавьте -6



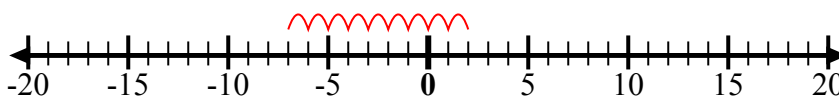
8) Начните с -3
и добавьте 12



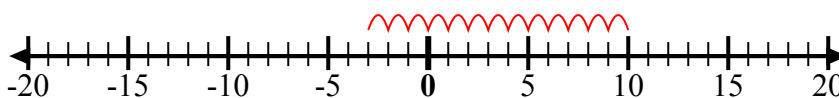
9) Начните с -1
и добавьте 11



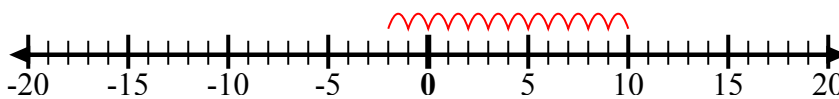
10) Начните с 2
и добавьте -9



11) Начните с -3
и добавьте 13



12) Начните с 10
и добавьте -12



ОТВЕТЫ

об. $-2 + -8 = -10$

1. $8 + -18 = -10$

2. $4 + -11 = -7$

3. $-5 + -5 = -10$

4. $-8 + 5 = -3$

5. $-6 + 3 = -3$

6. $-1 + -7 = -8$

7. $-2 + -6 = -8$

8. $-3 + 12 = 9$

9. $-1 + 11 = 10$

10. $2 + -9 = -7$

11. $-3 + 13 = 10$

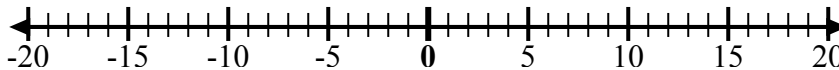
12. $10 + -12 = -2$



Используйте числовые линии, чтобы показать каждое выражение и решить.

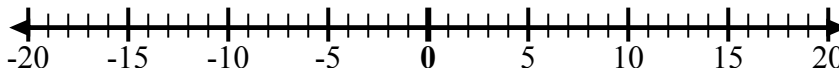
ОТВЕТЫ

об) Начните с 0
и добавьте -2



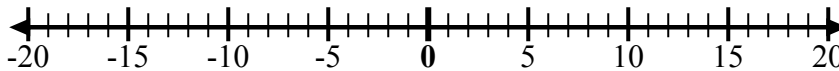
об. $0 + -2 = -2$

1) Начните с 0
и добавьте -5



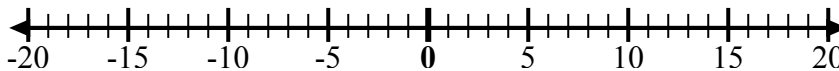
1. _____

2) Начните с 0
и добавьте 7



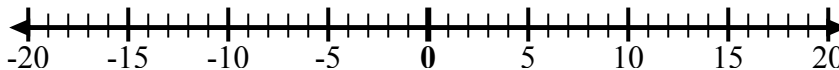
2. _____

3) Начните с -6
и добавьте 12



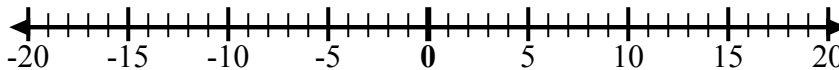
3. _____

4) Начните с -2
и добавьте -2



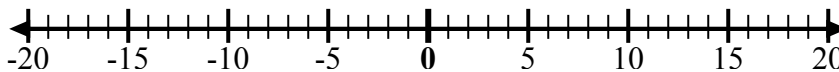
4. _____

5) Начните с 2
и добавьте -8



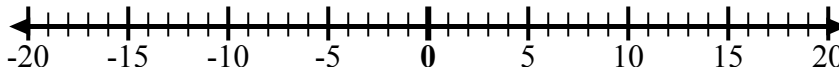
5. _____

6) Начните с 3
и добавьте -11



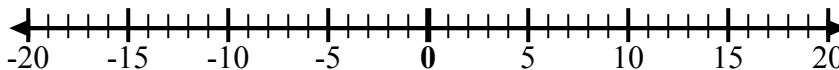
6. _____

7) Начните с -7
и добавьте 16



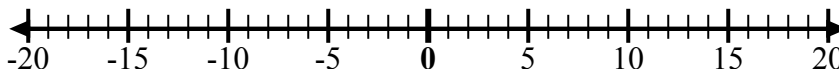
7. _____

8) Начните с -9
и добавьте 7



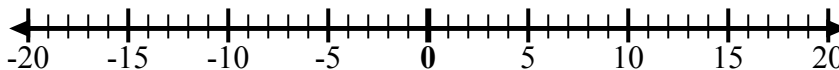
8. _____

9) Начните с -8
и добавьте 3



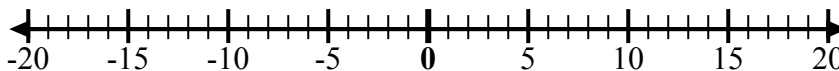
9. _____

10) Начните с 5
и добавьте -15



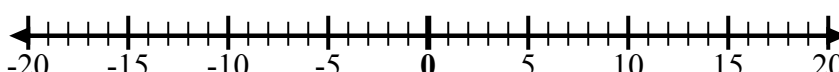
10. _____

11) Начните с -8
и добавьте 4



11. _____

12) Начните с 5
и добавьте -6

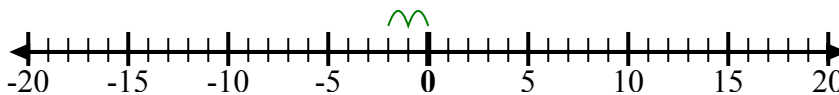


12. _____

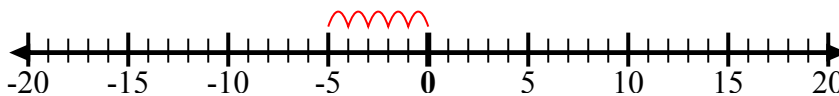


Используйте числовые линии, чтобы показать каждое выражение и решить.

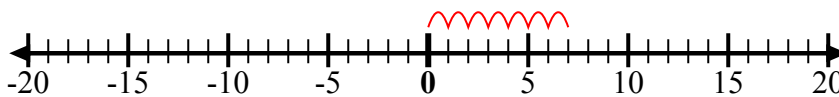
об) Начните с 0
и добавьте -2



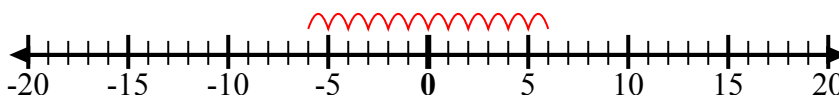
1) Начните с 0
и добавьте -5



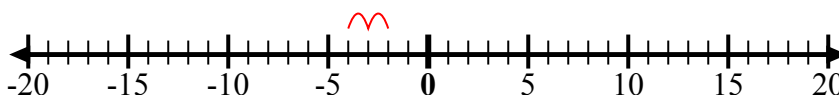
2) Начните с 0
и добавьте 7



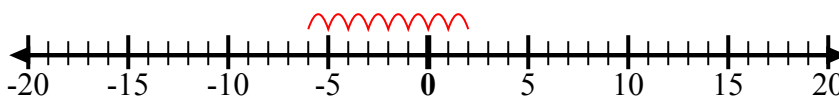
3) Начните с -6
и добавьте 12



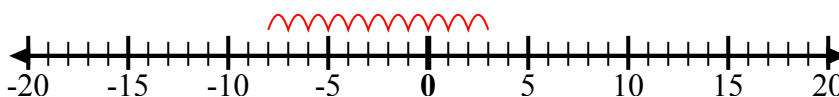
4) Начните с -2
и добавьте -2



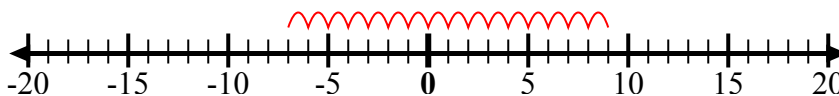
5) Начните с 2
и добавьте -8



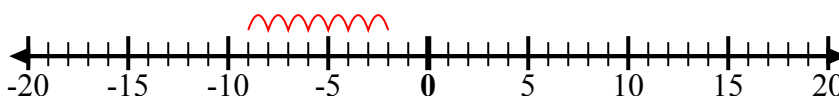
6) Начните с 3
и добавьте -11



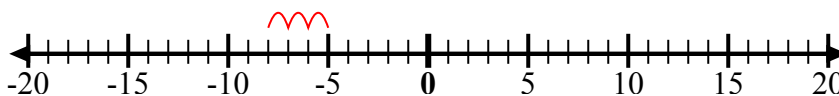
7) Начните с -7
и добавьте 16



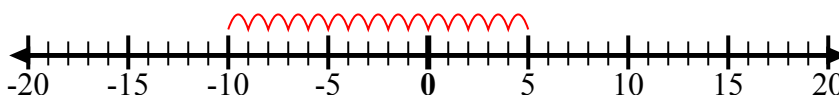
8) Начните с -9
и добавьте 7



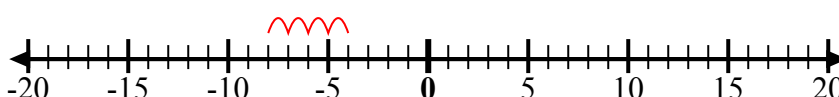
9) Начните с -8
и добавьте 3



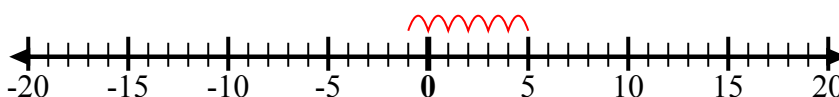
10) Начните с 5
и добавьте -15



11) Начните с -8
и добавьте 4



12) Начните с 5
и добавьте -6



ОТВЕТЫ

об. $0 + -2 = -2$

1. $0 + -5 = -5$

2. $0 + 7 = 7$

3. $-6 + 12 = 6$

4. $-2 + -2 = -4$

5. $2 + -8 = -6$

6. $3 + -11 = -8$

7. $-7 + 16 = 9$

8. $-9 + 7 = -2$

9. $-8 + 3 = -5$

10. $5 + -15 = -10$

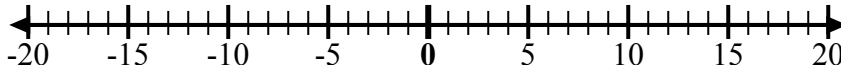
11. $-8 + 4 = -4$

12. $5 + -6 = -1$

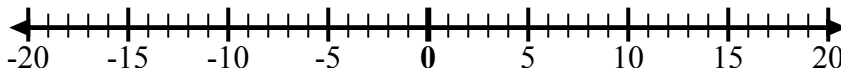


Используйте числовые линии, чтобы показать каждое выражение и решить.

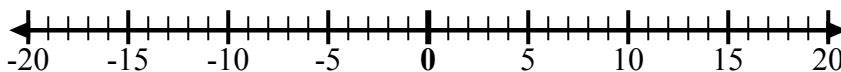
об) Начните с -6
и добавьте
15



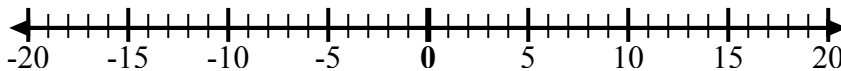
1) Начните с -3
и добавьте -3



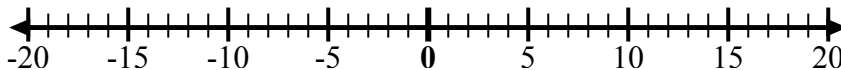
2) Начните с 10
и добавьте 0



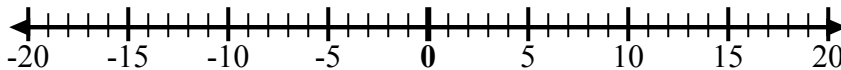
3) Начните с -1
и добавьте
10



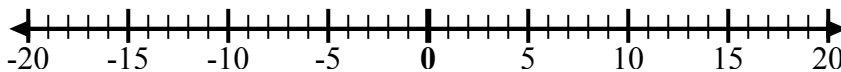
4) Начните с 2
и добавьте
-11



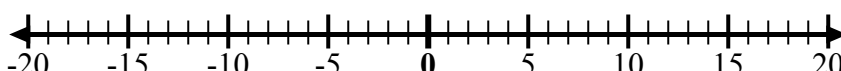
5) Начните с 3
и добавьте
-12



6) Начните с -8
и добавьте 7



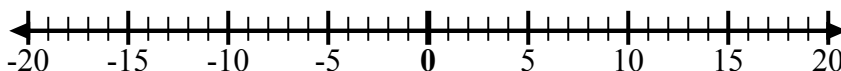
7) Начните с 0
и добавьте -5



8) Начните с -6
и добавьте -2



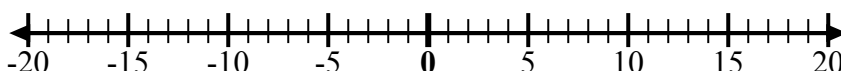
9) Начните с 9
и добавьте
-15



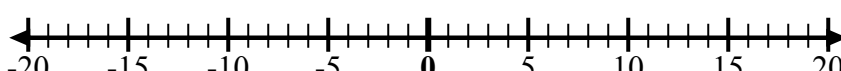
10) Начните с 4
и добавьте -9



11) Начните с 1
и добавьте
-10



12) Начните с -5
и добавьте -3



ОТВЕТЫ

об. $-6 + 15 = 9$

1. _____

2. _____

3. _____

4. _____

5. _____

6. _____

7. _____

8. _____

9. _____

10. _____

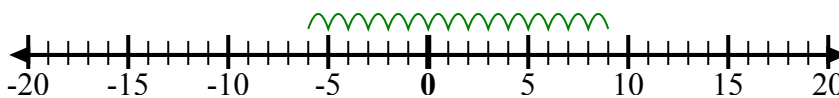
11. _____

12. _____

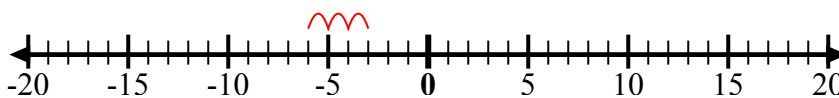


Используйте числовые линии, чтобы показать каждое выражение и решить.

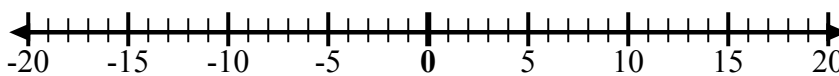
об) Начните с -6
и добавьте
15



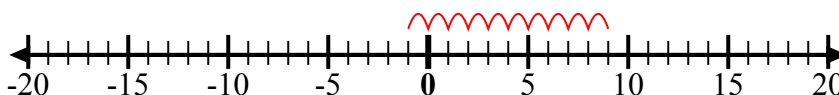
1) Начните с -3
и добавьте -3



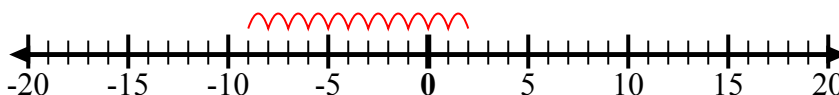
2) Начните с 10
и добавьте 0



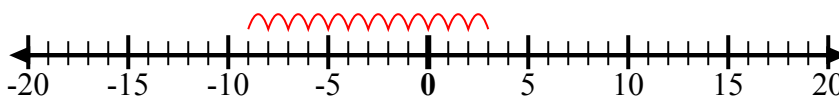
3) Начните с -1
и добавьте
10



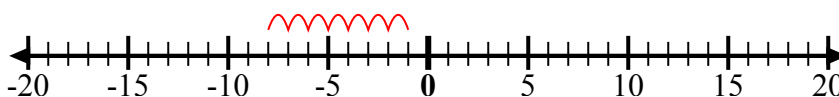
4) Начните с 2
и добавьте
-11



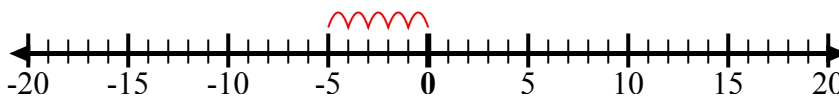
5) Начните с 3
и добавьте
-12



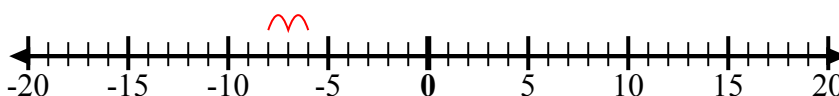
6) Начните с -8
и добавьте 7



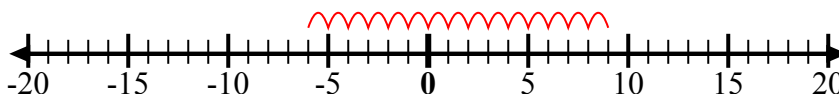
7) Начните с 0
и добавьте -5



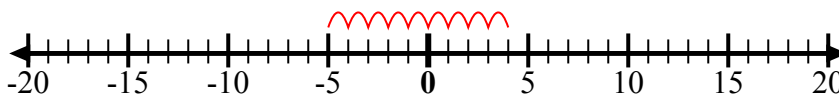
8) Начните с -6
и добавьте -2



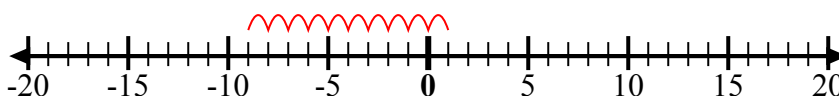
9) Начните с 9
и добавьте
-15



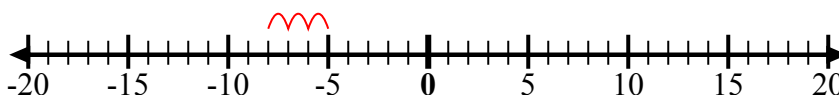
10) Начните с 4
и добавьте -9



11) Начните с 1
и добавьте
-10



12) Начните с -5
и добавьте -3



ОТВЕТЫ

об. $-6 + 15 = 9$

1. $-3 + -3 = -6$

2. $10 + 0 = 10$

3. $-1 + 10 = 9$

4. $2 + -11 = -9$

5. $3 + -12 = -9$

6. $-8 + 7 = -1$

7. $0 + -5 = -5$

8. $-6 + -2 = -8$

9. $9 + -15 = -6$

10. $4 + -9 = -5$

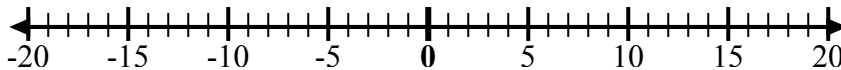
11. $1 + -10 = -9$

12. $-5 + -3 = -8$

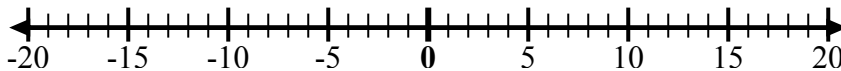


Используйте числовые линии, чтобы показать каждое выражение и решить.

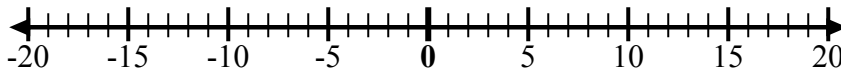
об) Начните с 9
и добавьте -4



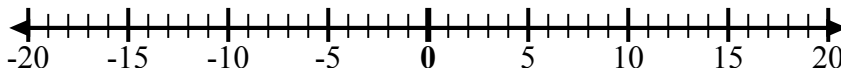
1) Начните с 5
и добавьте
-11



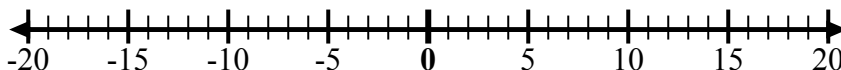
2) Начните с 2
и добавьте -8



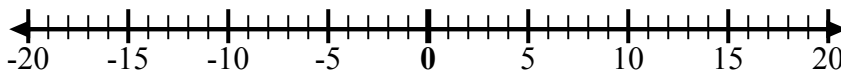
3) Начните с -5
и добавьте -4



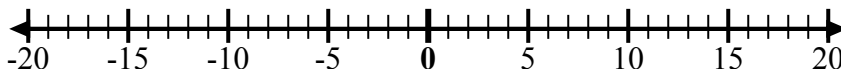
4) Начните с 0
и добавьте 8



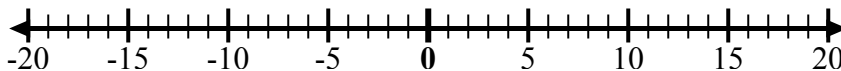
5) Начните с 5
и добавьте -8



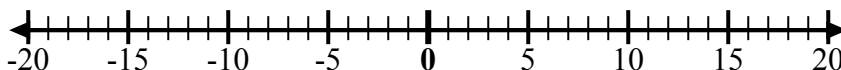
6) Начните с -7
и добавьте
15



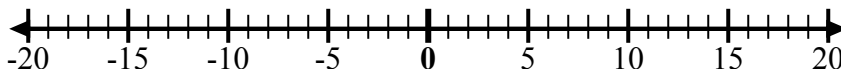
7) Начните с -9
и добавьте 8



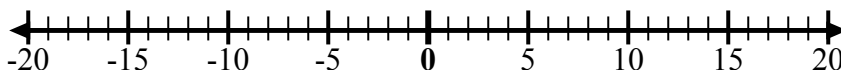
8) Начните с -2
и добавьте -6



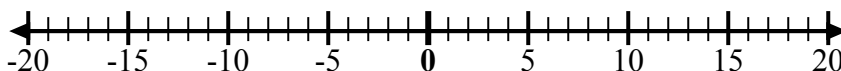
9) Начните с -5
и добавьте 5



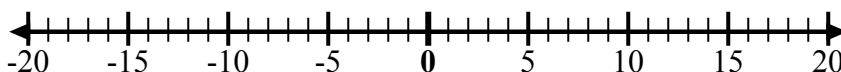
10) Начните с -1
и добавьте -8



11) Начните с -1
и добавьте 7



12) Начните с
-10 и
добавьте 14



ОТВЕТЫ

об. $9 + -4 = 5$

1. _____

2. _____

3. _____

4. _____

5. _____

6. _____

7. _____

8. _____

9. _____

10. _____

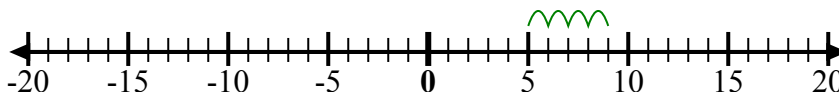
11. _____

12. _____

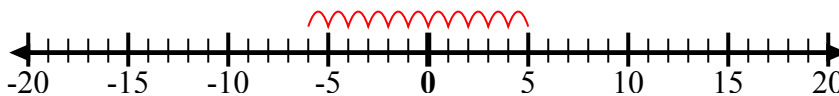


Используйте числовые линии, чтобы показать каждое выражение и решить.

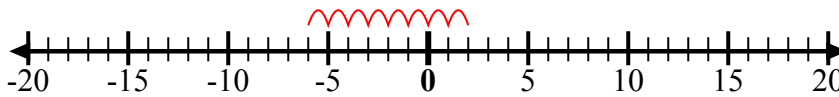
об) Начните с 9
и добавьте -4



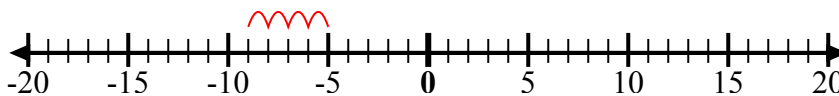
1) Начните с 5
и добавьте -11



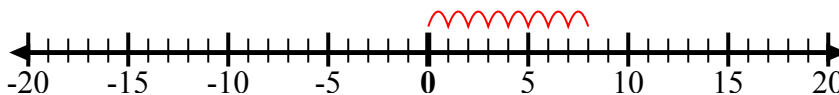
2) Начните с 2
и добавьте -8



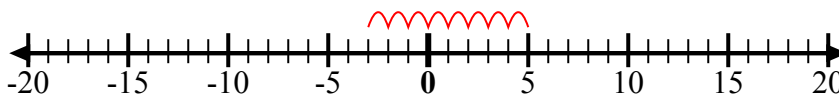
3) Начните с -5
и добавьте -4



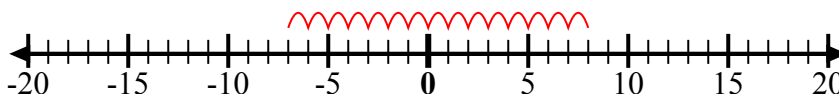
4) Начните с 0
и добавьте 8



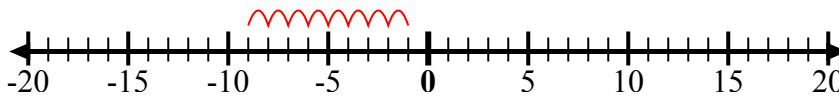
5) Начните с 5
и добавьте -8



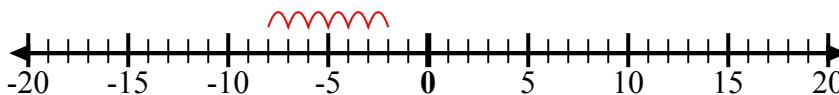
6) Начните с -7
и добавьте 15



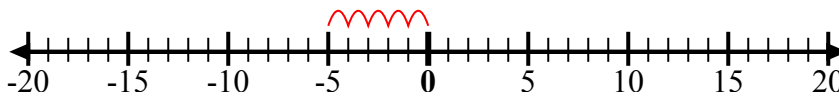
7) Начните с -9
и добавьте 8



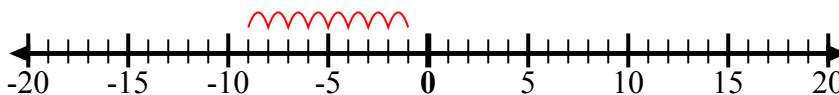
8) Начните с -2
и добавьте -6



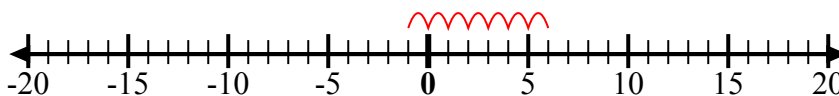
9) Начните с -5
и добавьте 5



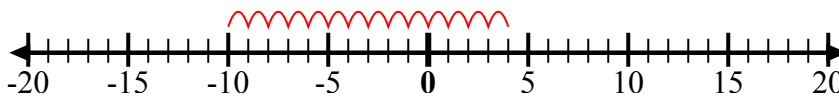
10) Начните с -1
и добавьте -8



11) Начните с -1
и добавьте 7



12) Начните с -10
и добавьте 14



ОТВЕТЫ

об. $9 + -4 = 5$

1. $5 + -11 = -6$

2. $2 + -8 = -6$

3. $-5 + -4 = -9$

4. $0 + 8 = 8$

5. $5 + -8 = -3$

6. $-7 + 15 = 8$

7. $-9 + 8 = -1$

8. $-2 + -6 = -8$

9. $-5 + 5 = 0$

10. $-1 + -8 = -9$

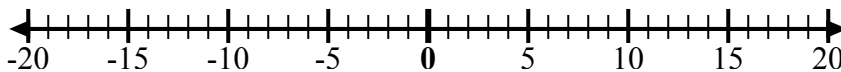
11. $-1 + 7 = 6$

12. $-10 + 14 = 4$

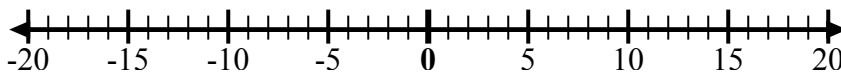


Используйте числовые линии, чтобы показать каждое выражение и решить.

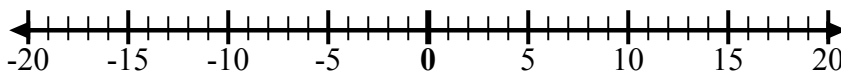
об) Начните с 7
и добавьте
-12



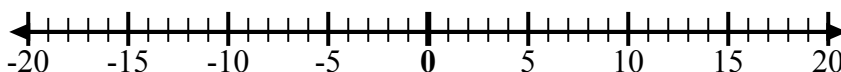
1) Начните с -2
и добавьте 5



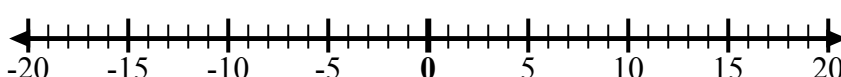
2) Начните с 8
и добавьте
-13



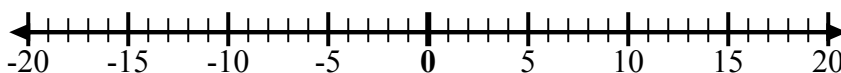
3) Начните с -7
и добавьте -2



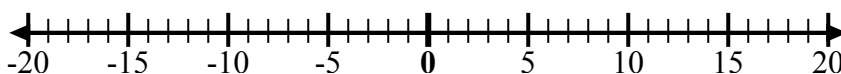
4) Начните с -4
и добавьте -3



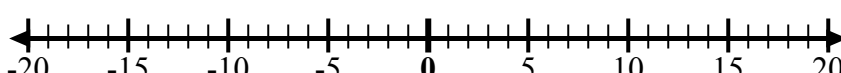
5) Начните с -3
и добавьте -2



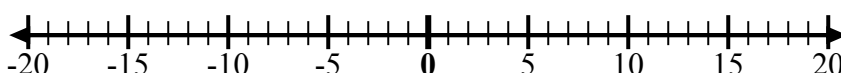
6) Начните с -7
и добавьте 5



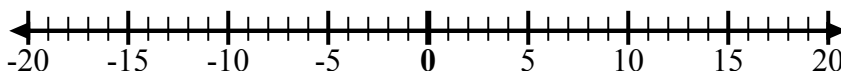
7) Начните с -6
и добавьте -2



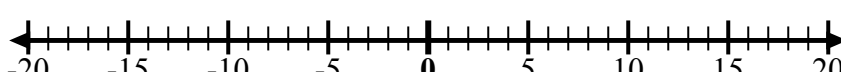
8) Начните с 1
и добавьте
-11



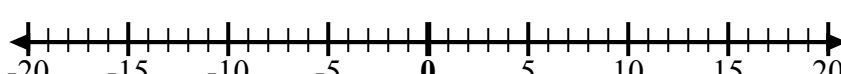
9) Начните с -7
и добавьте 8



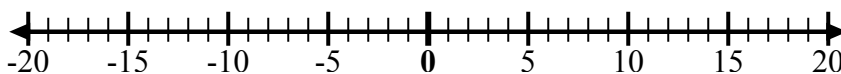
10) Начните с 1
и добавьте -9



11) Начните с -3
и добавьте -3



12) Начните с 2
и добавьте
-11



ОТВЕТЫ

об. $7 + -12 = -5$

1. _____

2. _____

3. _____

4. _____

5. _____

6. _____

7. _____

8. _____

9. _____

10. _____

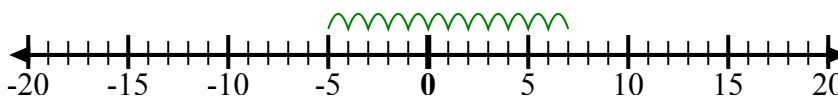
11. _____

12. _____

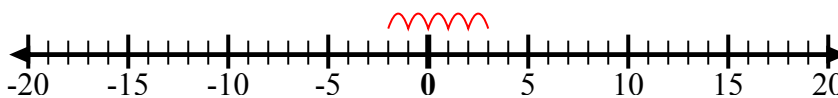


Используйте числовые линии, чтобы показать каждое выражение и решить.

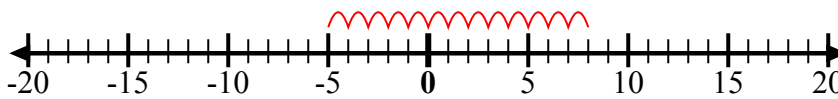
об) Начните с 7
и добавьте
-12



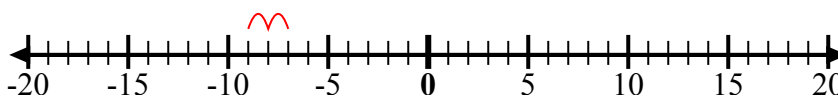
1) Начните с -2
и добавьте 5



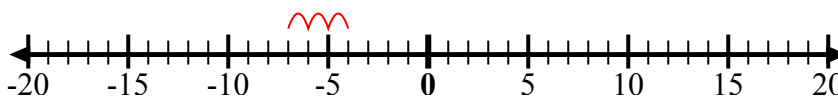
2) Начните с 8
и добавьте
-13



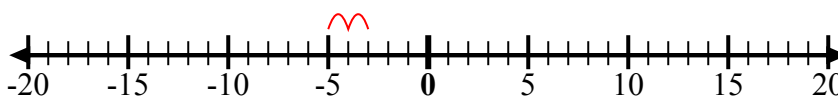
3) Начните с -7
и добавьте -2



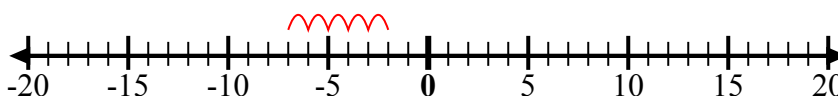
4) Начните с -4
и добавьте -3



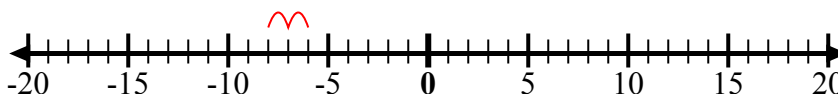
5) Начните с -3
и добавьте -2



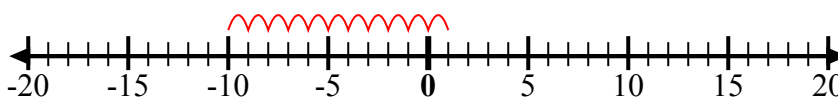
6) Начните с -7
и добавьте 5



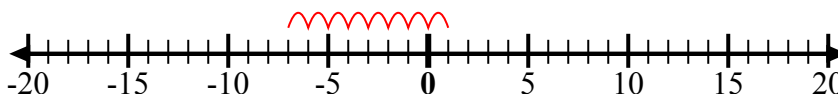
7) Начните с -6
и добавьте -2



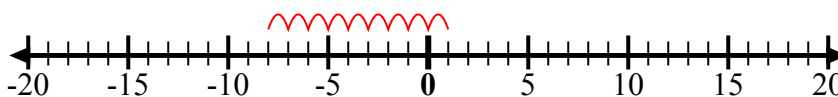
8) Начните с 1
и добавьте
-11



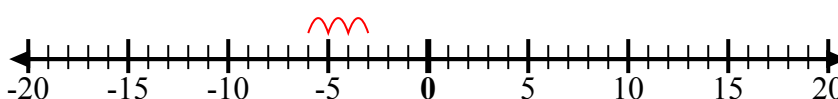
9) Начните с -7
и добавьте 8



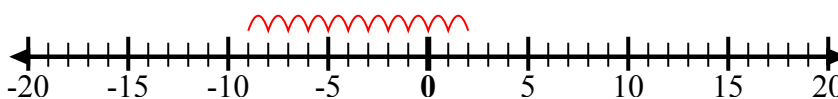
10) Начните с 1
и добавьте -9



11) Начните с -3
и добавьте -3



12) Начните с 2
и добавьте
-11



ОТВЕТЫ

об. $7 + -12 = -5$

1. $-2 + 5 = 3$

2. $8 + -13 = -5$

3. $-7 + -2 = -9$

4. $-4 + -3 = -7$

5. $-3 + -2 = -5$

6. $-7 + 5 = -2$

7. $-6 + -2 = -8$

8. $1 + -11 = -10$

9. $-7 + 8 = 1$

10. $1 + -9 = -8$

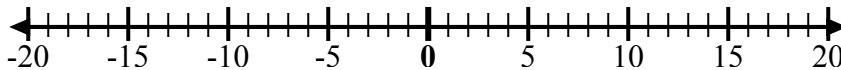
11. $-3 + -3 = -6$

12. $2 + -11 = -9$

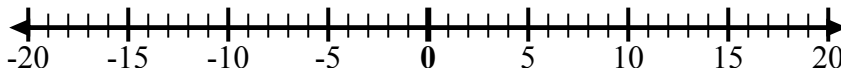


Используйте числовые линии, чтобы показать каждое выражение и решить.

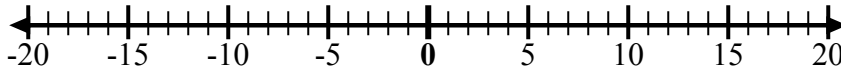
об) Начните с -9
и добавьте 5



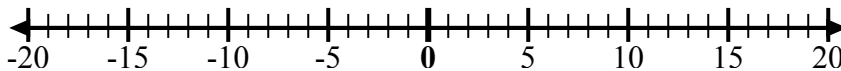
1) Начните с
-10 и
добавьте 14



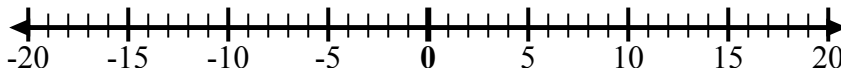
2) Начните с 3
и добавьте
-10



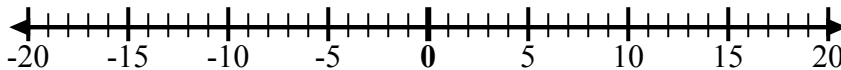
3) Начните с 7
и добавьте -6



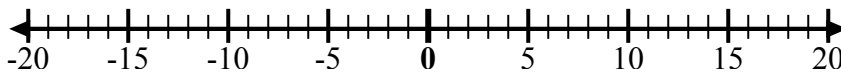
4) Начните с -8
и добавьте -2



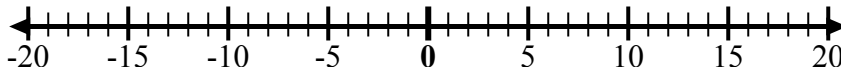
5) Начните с 5
и добавьте -9



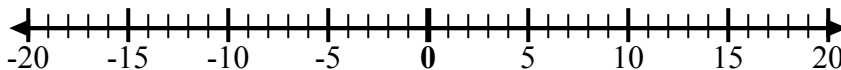
6) Начните с -5
и добавьте 4



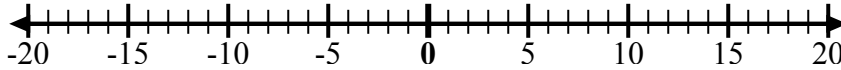
7) Начните с -6
и добавьте 9



8) Начните с -4
и добавьте
14



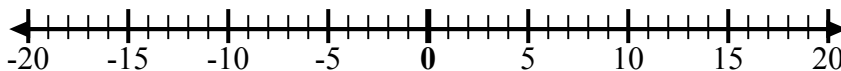
9) Начните с -4
и добавьте -3



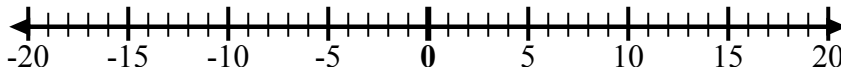
10) Начните с -7
и добавьте -2



11) Начните с 0
и добавьте -7



12) Начните с -2
и добавьте -2



ОТВЕТЫ

об. $-9 + 5 = -4$

1. _____

2. _____

3. _____

4. _____

5. _____

6. _____

7. _____

8. _____

9. _____

10. _____

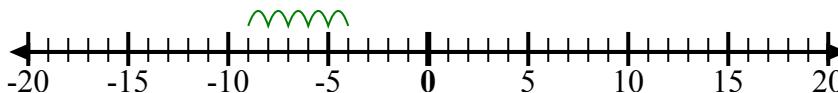
11. _____

12. _____

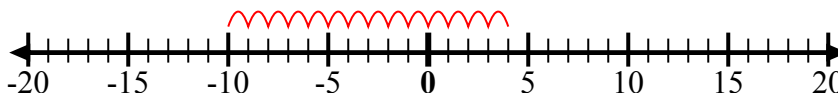


Используйте числовые линии, чтобы показать каждое выражение и решить.

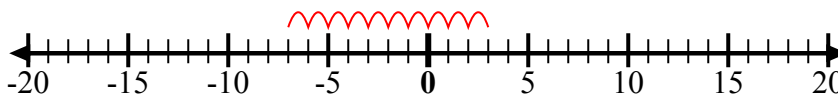
об) Начните с -9
и добавьте 5



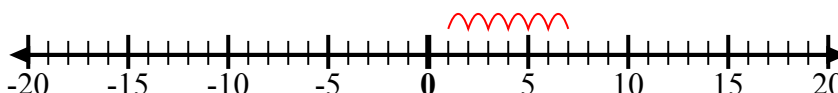
1) Начните с -10
и добавьте 14



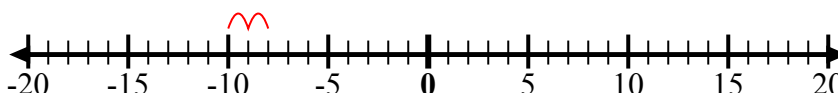
2) Начните с 3
и добавьте -10



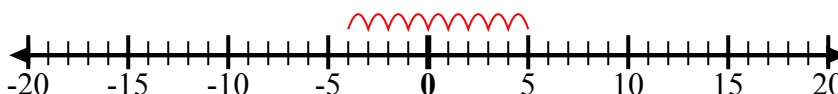
3) Начните с 7
и добавьте -6



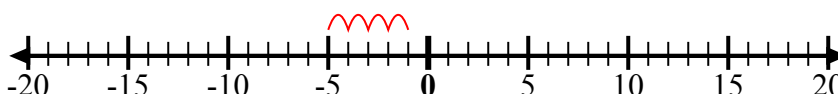
4) Начните с -8
и добавьте -2



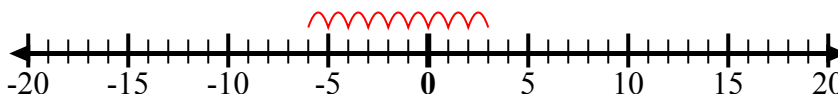
5) Начните с 5
и добавьте -9



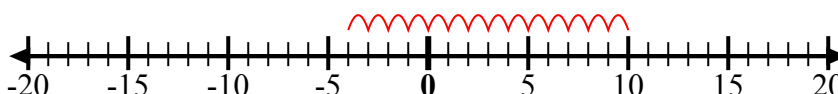
6) Начните с -5
и добавьте 4



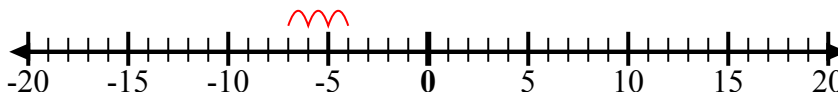
7) Начните с -6
и добавьте 9



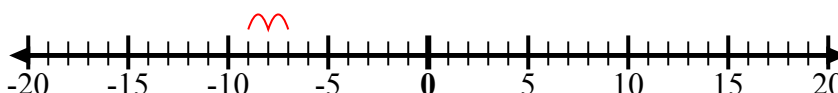
8) Начните с -4
и добавьте 14



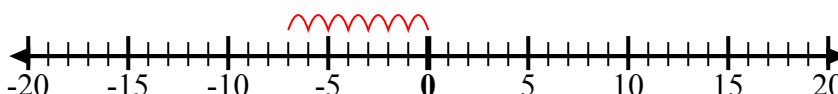
9) Начните с -4
и добавьте -3



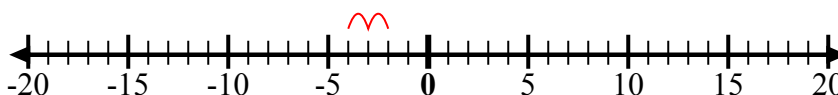
10) Начните с -7
и добавьте -2



11) Начните с 0
и добавьте -7



12) Начните с -2
и добавьте -2



ОТВЕТЫ

об. $-9 + 5 = -4$

1. $-10 + 14 = 4$

2. $3 + -10 = -7$

3. $7 + -6 = 1$

4. $-8 + -2 = -10$

5. $5 + -9 = -4$

6. $-5 + 4 = -1$

7. $-6 + 9 = 3$

8. $-4 + 14 = 10$

9. $-4 + -3 = -7$

10. $-7 + -2 = -9$

11. $0 + -7 = -7$

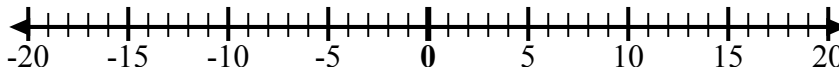
12. $-2 + -2 = -4$



Используйте числовые линии, чтобы показать каждое выражение и решить.

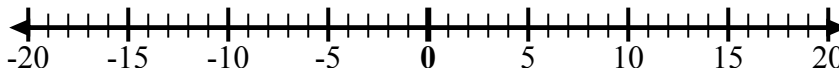
ОТВЕТЫ

об) Начните с -4
и добавьте -6



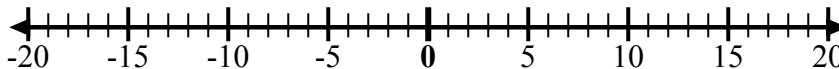
об. $-4 + -6 = -10$

1) Начните с 7
и добавьте -7



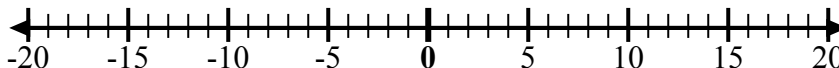
1. _____

2) Начните с -4
и добавьте 9



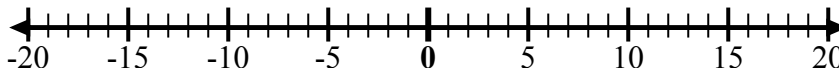
2. _____

3) Начните с 4
и добавьте -14



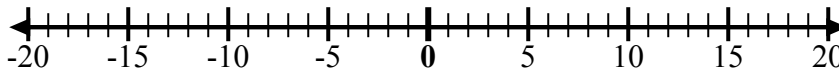
3. _____

4) Начните с -2
и добавьте -7



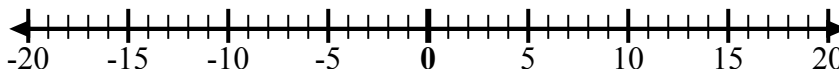
4. _____

5) Начните с -3
и добавьте 7



5. _____

6) Начните с 1
и добавьте -11



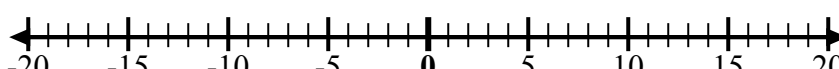
6. _____

7) Начните с -6
и добавьте -3



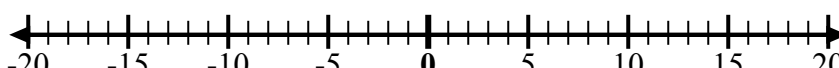
7. _____

8) Начните с 10
и добавьте -1



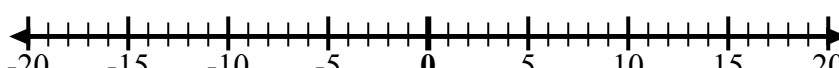
8. _____

9) Начните с 0
и добавьте -5



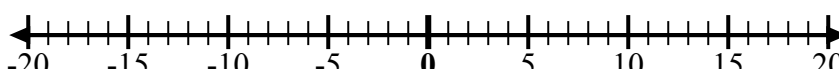
9. _____

10) Начните с 0
и добавьте -10



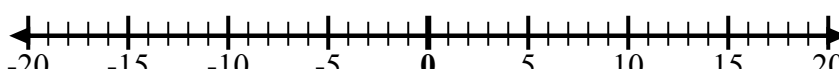
10. _____

11) Начните с 6
и добавьте -11



11. _____

12) Начните с -5
и добавьте 10

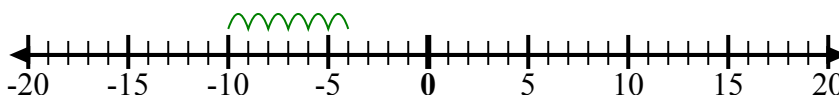


12. _____

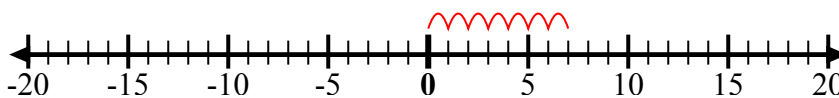


Используйте числовые линии, чтобы показать каждое выражение и решить.

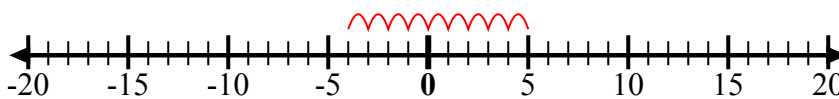
об) Начните с -4
и добавьте -6



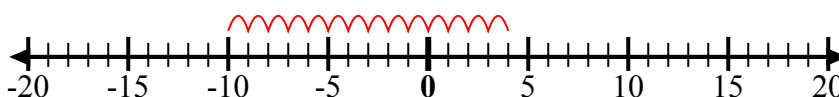
1) Начните с 7
и добавьте -7



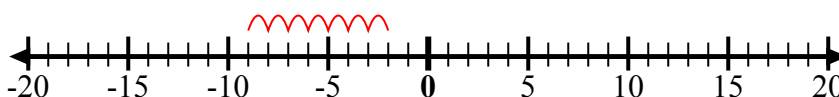
2) Начните с -4
и добавьте 9



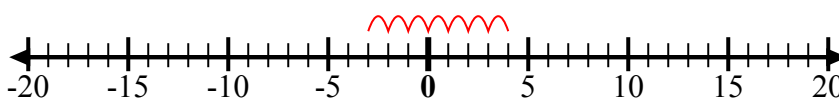
3) Начните с 4
и добавьте
-14



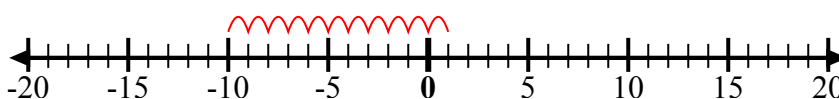
4) Начните с -2
и добавьте -7



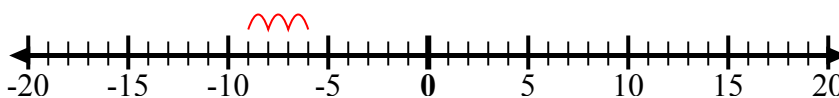
5) Начните с -3
и добавьте 7



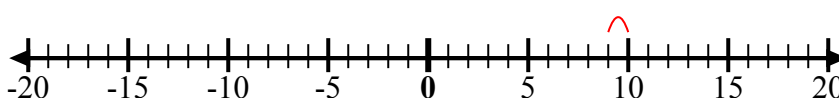
6) Начните с 1
и добавьте
-11



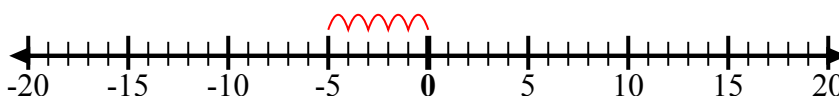
7) Начните с -6
и добавьте -3



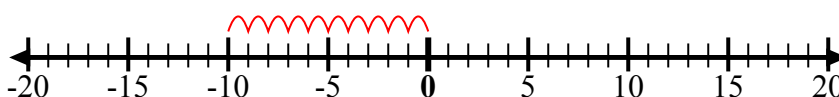
8) Начните с 10
и добавьте -1



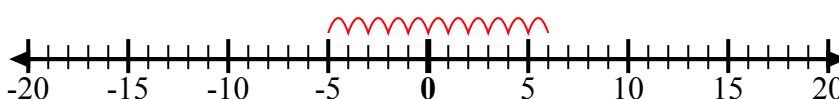
9) Начните с 0
и добавьте -5



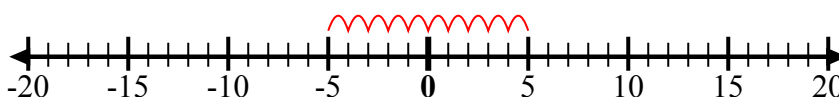
10) Начните с 0
и добавьте
-10



11) Начните с 6
и добавьте
-11



12) Начните с -5
и добавьте
10



ОТВЕТЫ

об. $-4 + -6 = -10$

1. $7 + -7 = 0$

2. $-4 + 9 = 5$

3. $4 + -14 = -10$

4. $-2 + -7 = -9$

5. $-3 + 7 = 4$

6. $1 + -11 = -10$

7. $-6 + -3 = -9$

8. $10 + -1 = 9$

9. $0 + -5 = -5$

10. $0 + -10 = -10$

11. $6 + -11 = -5$

12. $-5 + 10 = 5$