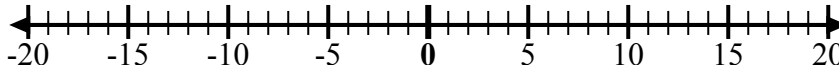


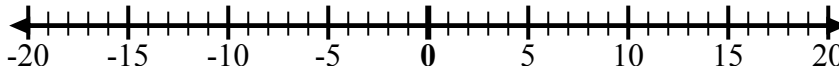


Используйте числовые линии, чтобы показать каждое выражение и решить.

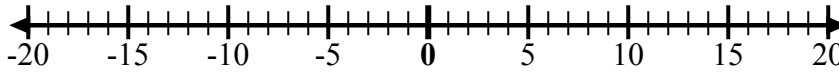
об) Начните с -2  
и добавьте -2



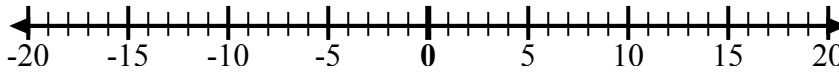
1) Начните с -2  
и добавьте -8



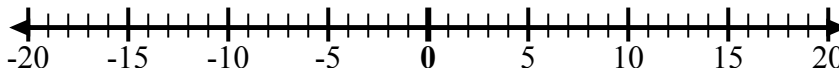
2) Начните с -2  
и добавьте -6



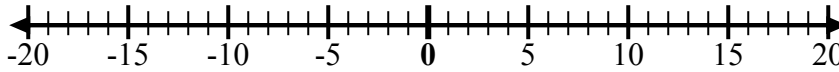
3) Начните с 6  
и добавьте  
-12



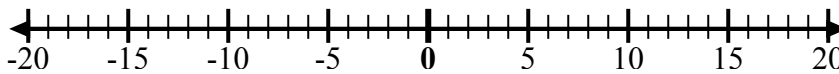
4) Начните с -9  
и добавьте 2



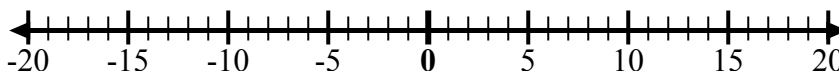
5) Начните с 0  
и добавьте  
-10



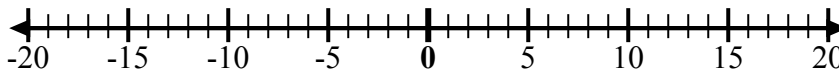
6) Начните с -5  
и добавьте 9



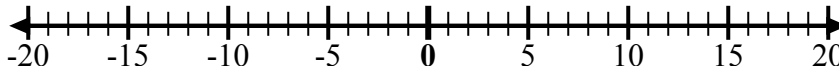
7) Начните с -8  
и добавьте -2



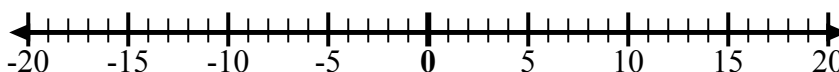
8) Начните с 1  
и добавьте  
-11



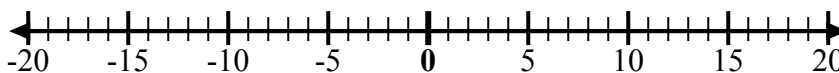
9) Начните с -2  
и добавьте  
12



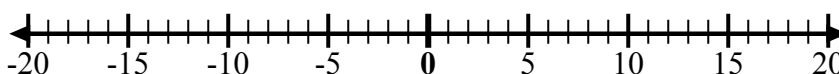
10) Начните с 4  
и добавьте -7



11) Начните с 6  
и добавьте  
-10



12) Начните с -3  
и добавьте -4



**ОТВЕТЫ**

об.  $-2 + -2 = -4$

1. \_\_\_\_\_

2. \_\_\_\_\_

3. \_\_\_\_\_

4. \_\_\_\_\_

5. \_\_\_\_\_

6. \_\_\_\_\_

7. \_\_\_\_\_

8. \_\_\_\_\_

9. \_\_\_\_\_

10. \_\_\_\_\_

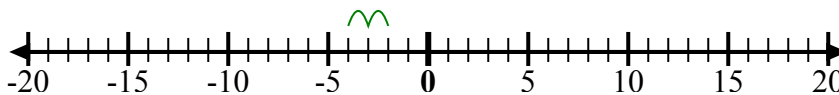
11. \_\_\_\_\_

12. \_\_\_\_\_

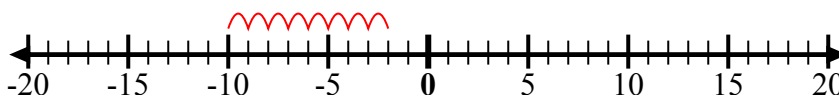


Используйте числовые линии, чтобы показать каждое выражение и решить.

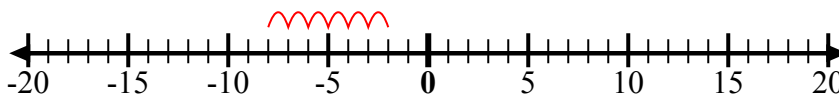
об) Начните с -2  
и добавьте -2



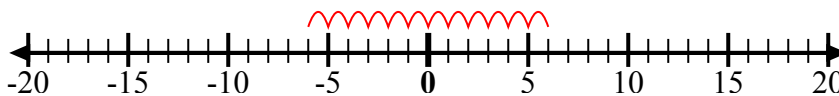
1) Начните с -2  
и добавьте -8



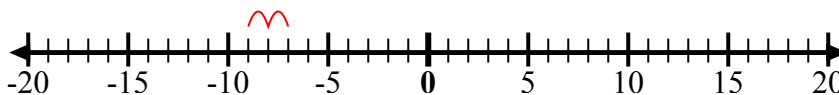
2) Начните с -2  
и добавьте -6



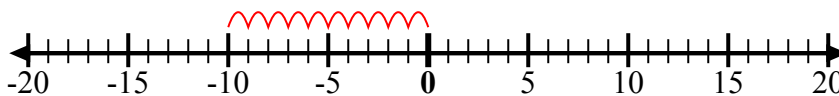
3) Начните с 6  
и добавьте -12



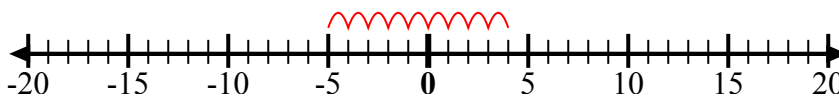
4) Начните с -9  
и добавьте 2



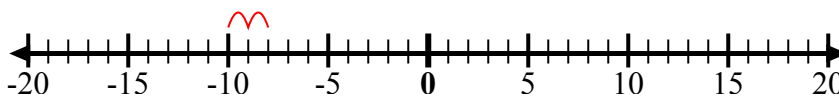
5) Начните с 0  
и добавьте -10



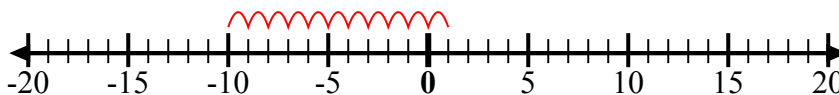
6) Начните с -5  
и добавьте 9



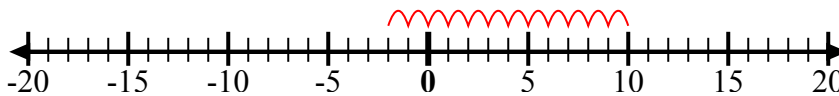
7) Начните с -8  
и добавьте -2



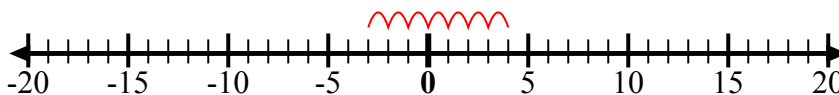
8) Начните с 1  
и добавьте -11



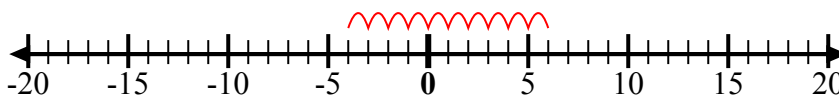
9) Начните с -2  
и добавьте 12



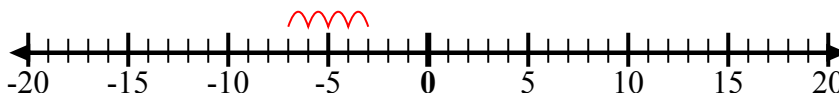
10) Начните с 4  
и добавьте -7



11) Начните с 6  
и добавьте -10



12) Начните с -3  
и добавьте -4



**ОТВЕТЫ**

об.  $-2 + -2 = -4$

1.  $-2 + -8 = -10$

2.  $-2 + -6 = -8$

3.  $6 + -12 = -6$

4.  $-9 + 2 = -7$

5.  $0 + -10 = -10$

6.  $-5 + 9 = 4$

7.  $-8 + -2 = -10$

8.  $1 + -11 = -10$

9.  $-2 + 12 = 10$

10.  $4 + -7 = -3$

11.  $6 + -10 = -4$

12.  $-3 + -4 = -7$