



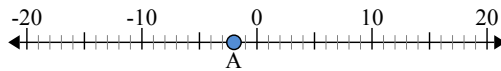
Используйте числовую прямую для нахождения абсолютной величины.

1) а. Каково значение А?



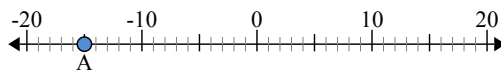
б. На каком расстоянии А от 0 (абсолютной величины)?

2) а. Каково значение А?



б. На каком расстоянии А от 0 (абсолютной величины)?

3) а. Каково значение А?



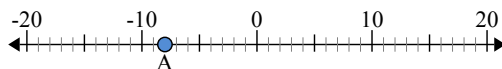
ОТВЕТЫ

- 1. _____
- 2. _____
- 3. _____
- 4. _____
- 5. _____
- 6. _____
- 7. _____
- 8. _____
- 9. _____
- 10. _____



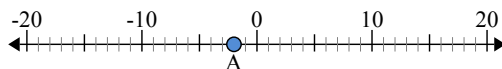
Используйте числовую прямую для нахождения абсолютной величины.

1) а. Каково значение А?



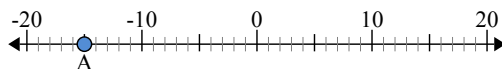
б. На каком расстоянии А от 0 (абсолютной величины)?

2) а. Каково значение А?



б. На каком расстоянии А от 0 (абсолютной величины)?

3) а. Каково значение А?



ОТВЕТЫ

1.	<u>-8</u>	<u>8</u>
2.	<u>-2</u>	<u>2</u>
3.	<u>-15</u>	<u>15</u>
4.	<u>-13</u>	<u>13</u>
5.	<u>20</u>	<u>20</u>
6.	<u>14</u>	<u>14</u>
7.	<u>0</u>	<u>0</u>
8.	<u>4</u>	<u>4</u>
9.	<u>19</u>	<u>19</u>
10.	<u>3</u>	<u>3</u>