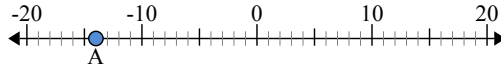




Используйте числовую прямую для нахождения абсолютной величины.

ОТВЕТЫ

1) а. Каково значение А?



1. _____

2. _____

3. _____

4. _____

5. _____

6. _____

7. _____

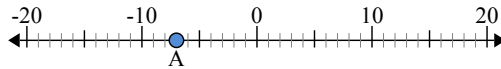
8. _____

9. _____

10. _____

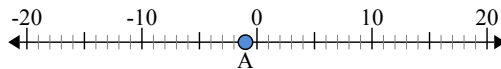
б. На каком расстоянии А от 0 (абсолютной величины)?

2) а. Каково значение А?



б. На каком расстоянии А от 0 (абсолютной величины)?

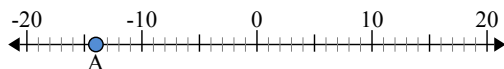
3) а. Каково значение А?





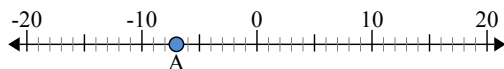
Используйте числовую прямую для нахождения абсолютной величины.

1) а. Каково значение А?



б. На каком расстоянии А от 0 (абсолютной величины)?

2) а. Каково значение А?



б. На каком расстоянии А от 0 (абсолютной величины)?

3) а. Каково значение А?



ОТВЕТЫ

1.	<u>-14</u>	<u>14</u>
2.	<u>-7</u>	<u>7</u>
3.	<u>-1</u>	<u>1</u>
4.	<u>10</u>	<u>10</u>
5.	<u>20</u>	<u>20</u>
6.	<u>5</u>	<u>5</u>
7.	<u>-17</u>	<u>17</u>
8.	<u>-6</u>	<u>6</u>
9.	<u>12</u>	<u>12</u>
10.	<u>-2</u>	<u>2</u>