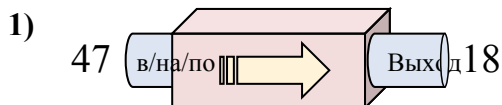


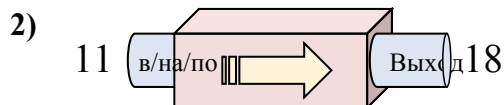


Определите какой закон используется в станке.

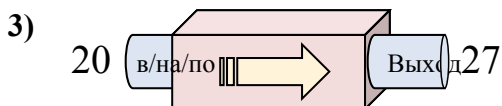
ОТВЕТЫ



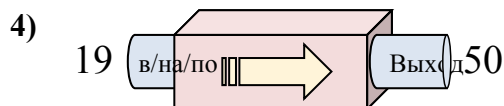
- A. Добавить 31
- B. Добавить 30
- C. Вычесть 29
- D. Вычесть 24



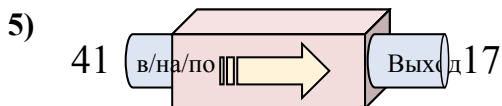
- A. Вычесть 12
- B. Добавить 3
- C. Вычесть 5
- D. Добавить 7



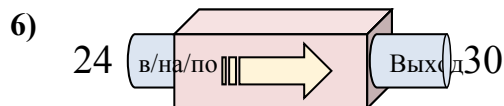
- A. Добавить 12
- B. Добавить 6
- C. Вычесть 9
- D. Добавить 7



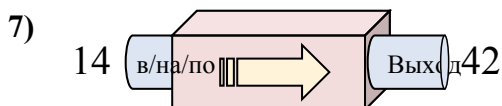
- A. Добавить 30
- B. Вычесть 27
- C. Добавить 33
- D. Добавить 31



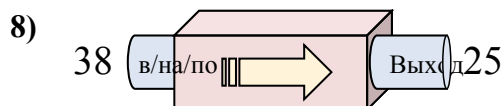
- A. Вычесть 22
- B. Добавить 27
- C. Вычесть 20
- D. Вычесть 24



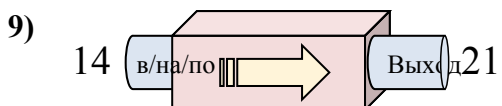
- A. Добавить 6
- B. Добавить 2
- C. Вычесть 11
- D. Добавить 10



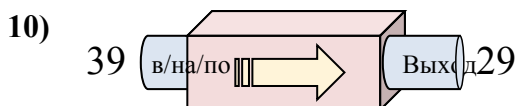
- A. Вычесть 26
- B. Добавить 27
- C. Вычесть 23
- D. Добавить 28



- A. Вычесть 17
- B. Вычесть 13
- C. Вычесть 14
- D. Добавить 14



- A. Добавить 7
- B. Вычесть 10
- C. Добавить 9
- D. Вычесть 8



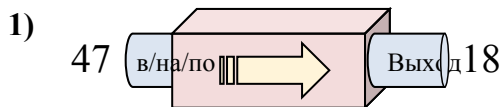
- A. Вычесть 8
- B. Добавить 14
- C. Вычесть 10
- D. Вычесть 14

1. _____
2. _____
3. _____
4. _____
5. _____
6. _____
7. _____
8. _____
9. _____
10. _____

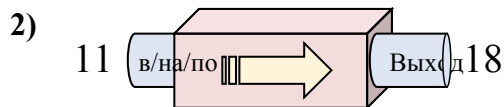


Определите какой закон используется в станке.

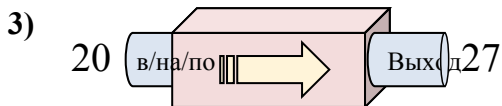
ОТВЕТЫ



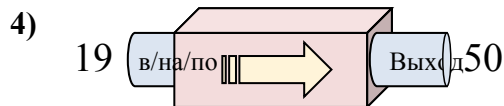
- A. Добавить 31
- B. Добавить 30
- C. Вычесть 29
- D. Вычесть 24



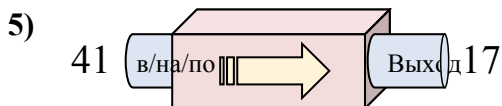
- A. Вычесть 12
- B. Добавить 3
- C. Вычесть 5
- D. Добавить 7



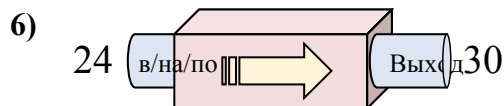
- A. Добавить 12
- B. Добавить 6
- C. Вычесть 9
- D. Добавить 7



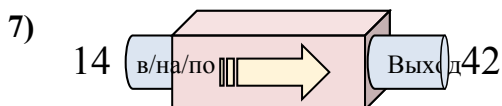
- A. Добавить 30
- B. Вычесть 27
- C. Добавить 33
- D. Добавить 31



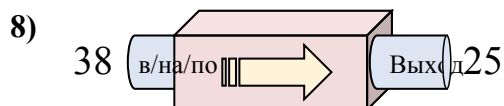
- A. Вычесть 22
- B. Добавить 27
- C. Вычесть 20
- D. Вычесть 24



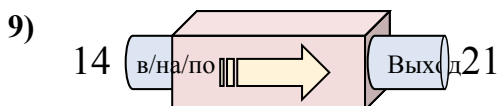
- A. Добавить 6
- B. Добавить 2
- C. Вычесть 11
- D. Добавить 10



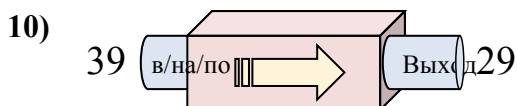
- A. Вычесть 26
- B. Добавить 27
- C. Вычесть 23
- D. Добавить 28



- A. Вычесть 17
- B. Вычесть 13
- C. Вычесть 14
- D. Добавить 14



- A. Добавить 7
- B. Вычесть 10
- C. Добавить 9
- D. Вычесть 8



- A. Вычесть 8
- B. Добавить 14
- C. Вычесть 10
- D. Вычесть 14

1. **C**

2. **D**

3. **D**

4. **D**

5. **D**

6. **A**

7. **D**

8. **B**

9. **A**

10. **C**