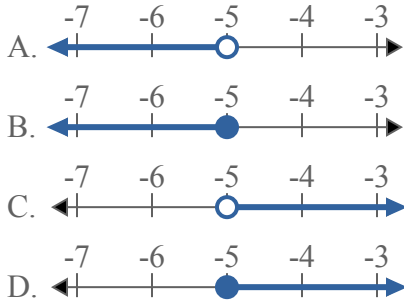




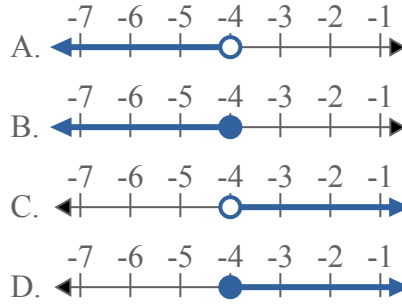
Решите каждую задачу.

**ОТВЕТЫ**

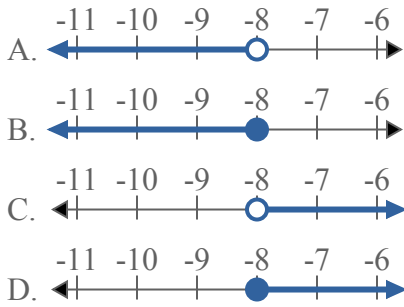
1) Какой вариант наиболее соответствует  $X < -5$



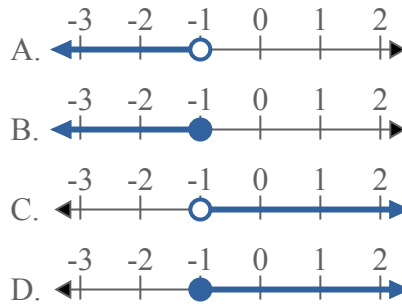
2) Какой вариант наиболее соответствует  $X < -4$



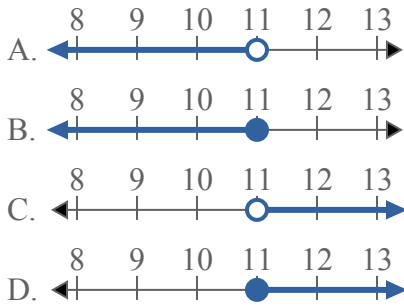
3) Какой вариант наиболее соответствует  $X < -8$



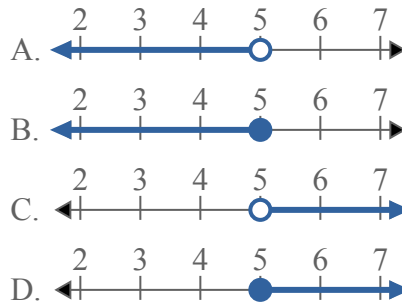
4) Какой вариант наиболее соответствует  $X < -1$



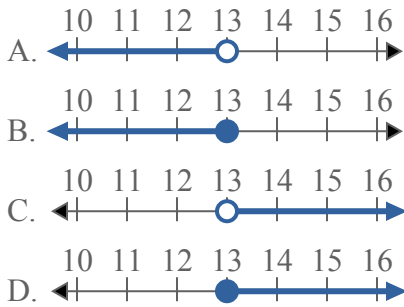
5) Какой вариант наиболее соответствует  $X \geq 11$



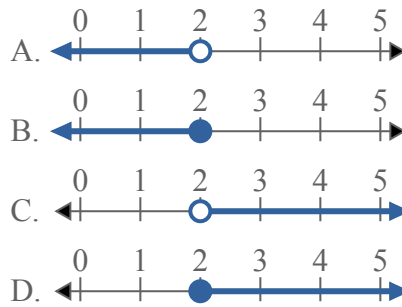
6) Какой вариант наиболее соответствует  $X \geq 5$



7) Какой вариант наиболее соответствует  $X \geq 13$



8) Какой вариант наиболее соответствует  $X < 2$

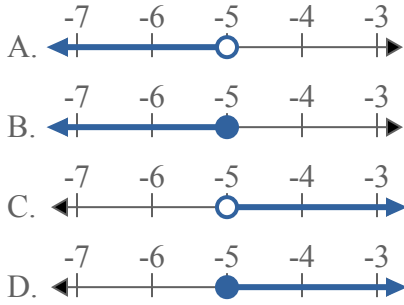


1. \_\_\_\_\_
2. \_\_\_\_\_
3. \_\_\_\_\_
4. \_\_\_\_\_
5. \_\_\_\_\_
6. \_\_\_\_\_
7. \_\_\_\_\_
8. \_\_\_\_\_

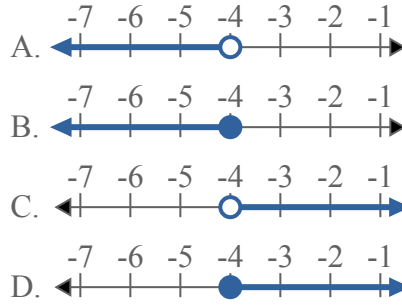


Решите каждую задачу.

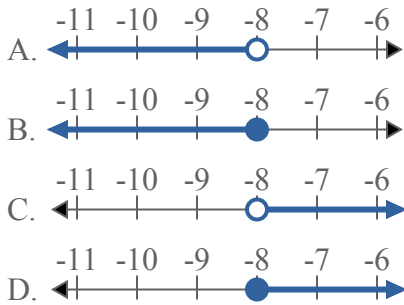
1) Какой вариант наиболее соответствует  $X < -5$



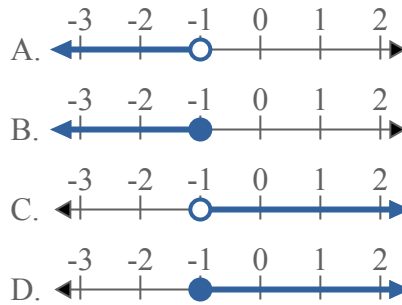
2) Какой вариант наиболее соответствует  $X < -4$



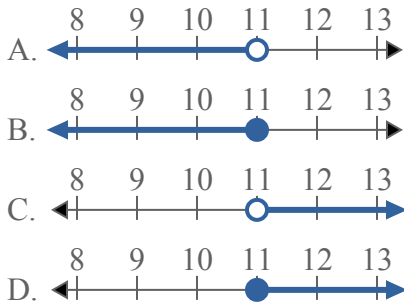
3) Какой вариант наиболее соответствует  $X < -8$



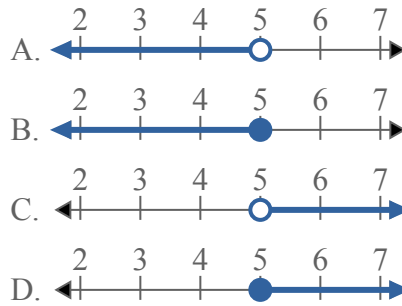
4) Какой вариант наиболее соответствует  $X < -1$



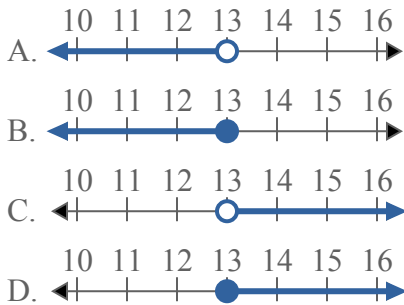
5) Какой вариант наиболее соответствует  $X \geq 11$



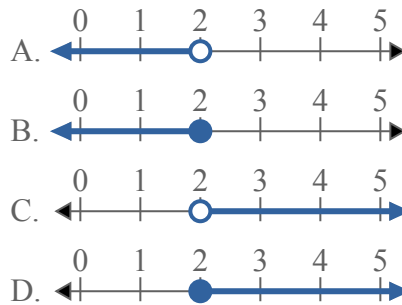
6) Какой вариант наиболее соответствует  $X \geq 5$



7) Какой вариант наиболее соответствует  $X \geq 13$



8) Какой вариант наиболее соответствует  $X < 2$



**ОТВЕТЫ**

1.     **A**
2.     **A**
3.     **A**
4.     **A**
5.     **D**
6.     **D**
7.     **D**
8.     **A**